

## 1.Ünite: Okulumuzda Hayat

1.



Arkadaşım kadar iyi satranç oynayamasam da güzel resim yaparım.

Eminé'nin güçlü yönü aşağıdakilerden hangisidir?

- A) Güzel resim yapması
- B) İyi satranç oynaması
- C) İyi satranç oynayamaması

2. Aşağıdaki davranışlardan hangisi arkadaşlarımızı olumsuz etkiler?

- A) Arkadaşımıza ihtiyacı olduğunda yardım etmek.
- B) Arkadaşımıza selam vermek.
- C) Arkadaşımıza lakap takmak.

3.



- ★ Tarafsız
- Güvenilir
- Kıskanç

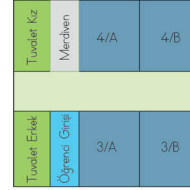
Yukarıdaki özelliklerden hangilerinin arkadaşımızda olmasını isteriz?

- A) ★ ■
- B) ★
- C) ■

4. Aşağıda kroki ile ilgili verilen bilgilerden hangisi yanlıştır?

- A) Kroki, bir yere yukarıdan bakıyormuş gibi çizilir.
- B) Kroki çizerken kare, dikdörtgen, üçgen, daire gibi geometrik şekillerden faydalanırız.
- C) Krokiyi ölçü kullanarak çizeriz.

5.



Yandaki okul krokisine göre erkek tuvaleti nerededir?

- A) Merdivenin karşısındadır.
- B) Öğrenci girişinin sağ tarafındadır.
- C) Kız tuvaletinin karşısındadır.

6. Aşağıdakilerden hangisi sosyal etkinliklere katılmanın faydalarından değildir?



Çevremizdeki insanlarla iyi iletişim kurmamızı sağlar.



Öz güvenimiz artar ve sorumluluklarımızı daha kolay yaparız.



toplumsal olaylara karşı duyarlılığımız azalır.




## 1.Ünite: Okulumuzda Hayat

7. ★ Sınıf başkanını öğretmenin seçmesi.
- Söz hakkı isteyenlerden sadece uslu öğrencilerin konuşutulması.
- İstek ve ihtiyaçlarımızı, okul idaresine dilekçe yazarak bildirmek.

Yukarıdaki davranışlardan hangileri demokratik bir ortamda olan davranışlardandır?

- A) ■ B) ●
- C) ★ ●

8. Elektrik, doğalgaz gibi kaynakların eksikliğinde yaşanabilecek sorun aşağıdakilerden hangisi olamaz?

- A)  Isınmada sorunlar yaşanabilir.
- B)  Aydınlanmada sorunlar yaşanabilir.
- C)  Arkadaş ilişkilerimizde sorun yaşanabilir.

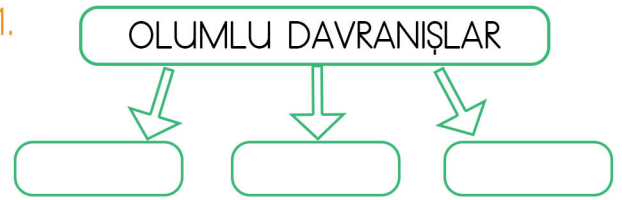
9. Aşağıda mesleklerle ilgili ifadelerden hangisi yanlıştır?

- A) Mesleklerin gerektirdiği bilgi ve beceriler ayındır.
- B) Meslekler, toplumun ihtiyaçlarını karşılamak için vardır.
- C) İlgi ve yeteneklerimiz doğrultusunda meslek seçmeliyiz.

10. Aşağıdaki ifadelerden hangisi doğrudur?

- A) Okuldaki kaynakları dikkatli kullanmak sadece çalışkan öğrencilerin görevidir.
- B) Aile büyüklerimizin istediği mesleği seçmeliyiz.
- C) İsteklerimizi, ihtiyaçlarımızı ifade ederken nezaket kurallarına uymalıyız.

- 11.



- Söz hakkı olarak konuşmak.
- ★ Okul ve sınıf eşyalarını dikkatli kullanmak.
- Çöpleri çöp kutusuna atmak.
- ◆ Arkadaşımızın bir sırrını diğer arkadaşlarımızla paylaşmak.

Yukarıdaki kavram haritasına hangileri yazılmalıdır?

- A) ★ ● B) ■ ★ ●
- C) ■ ★ ● ◆

12. Aşağıdaki ifadelerden hangisi yanlıştır?

- A) Kütüphanecilik kulübü öğrencileri sene sonunda müzik konserleri verir.
- B) Su ve temizlik malzemeleri gibi kaynakların tükenmesi durumunda sağlık sorunu yaşayabiliriz.
- C) Sözlü olarak ihtiyaçlarımızı belirtirken lütfen, rica ederim gibi nezaket ifadeleri kullanmalıyız.