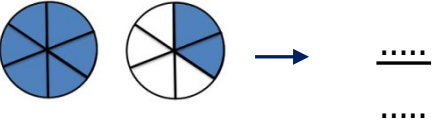
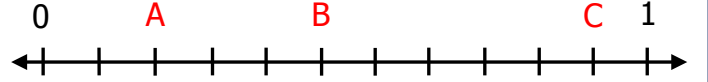


SORULAR

1) Aşağıda boyalı kısımları ifade edilen kesirleri yazınız. 5 Puan



2) Aşağıdaki sayı doğrusunda harflerle gösterilen kesirleri yazınız. 5 Puan



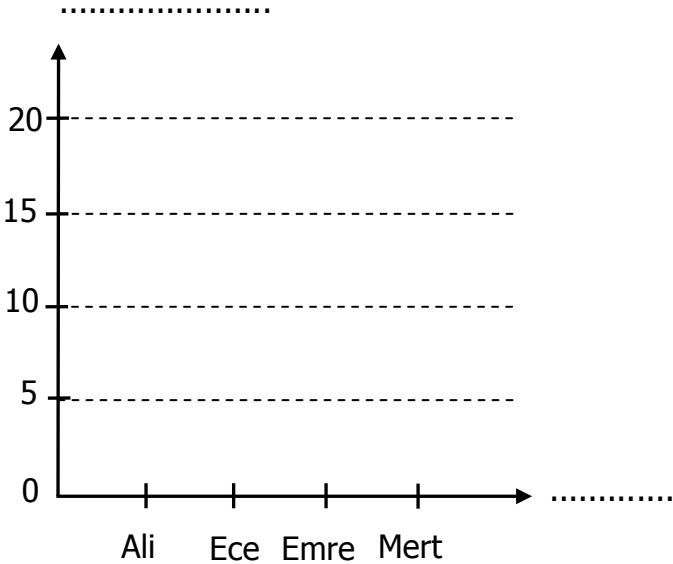
$$A = \frac{\dots}{\dots}$$

$$B = \frac{\dots}{\dots}$$

$$C = \frac{\dots}{\dots}$$

3) Aşağıdaki verilen bilgilere göresütün grafiği ve çetele tablosu oluşturunuz. 10 Puan

4/A sınıfında yapılan başkanlık seçiminde alınan oylar. Ali 5 oy, Ece 15 oy, Emre 20 oy, Mert 10 oy almıştır.

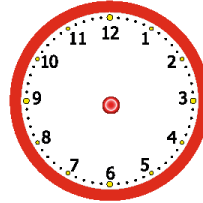


Tablo:

Öğrencinin Adı	Aldıkları Oy


4) Aşağıda verilen saatlerin öncesini ve sonrasını, akrep ve yelkovan çizerek gösteriniz. 10 Puan

Önce



50 dakika

Sonra



40 dakika

5) Aşağıda bölükleri verilmiş olan sayıları yazınız. 5 Puan

Birler Bölüğü	708
Binler Bölüğü	13
Sayı:	

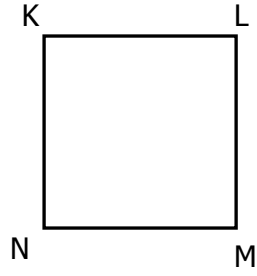
Binler Bölüğü	253
Birler Bölüğü	68
Sayı:	

6) Aşağıdaki sayıları en yakın onluğa ve yüzlüğe yuvarlayınız. 5 Puan

Onluğa	Sayı	Yüzlüğe
	642	
	1568	
	8110	
	359	
	3524	

7) Aşağıdaki kare isimlendirilirken ifadelerden hangisi kullanılamaz. **5 Puan**

- A) KLMN karesi
- B) NKLM karesi
- C) KMLN karesi
- D) LMNK karesi



8) Akşam 21.30'da yatıp, sabah 08.15'te uyanan Barış kaç saat, kaç dakika uyumuştur? **10 Puan**

Çözüm:

9) Aşağıdaki işlemleri yapınız. **10 Puan**

$$\begin{array}{r} 324 \\ \times 82 \\ \hline \end{array} \quad \begin{array}{r} 364 \overline{) 6} \\ \underline{6} \\ 0 \\ \hline \end{array} \quad \begin{array}{r} 4526 \\ + 1861 \\ \hline \end{array} \quad \begin{array}{r} 8561 \\ - 5695 \\ \hline \end{array}$$

10) Aşağıda kesirlerle ilgili verilen toplama ve çıkarma işlemlerini yapınız. **10 Puan**

$$\frac{3}{8} + \frac{1}{8} = \frac{\dots}{\dots} \quad 2\frac{6}{20} + 4\frac{4}{20} = \dots \frac{\dots}{\dots}$$

$$\frac{9}{15} - \frac{3}{15} = \frac{\dots}{\dots} \quad 8\frac{7}{10} - 4\frac{2}{10} = \dots \frac{\dots}{\dots}$$

11) 180 tane yumurtanın $\frac{1}{6}$ 'i kırıldı. Geriye kaç yumurta kaldı? **5 Puan**

Çözüm:

13) Aşağıdaki noktalı yerlere uygun sayılar yazınız. **10 Puan**

4 saat 15 dakika =dakika

2 dakika 30 saniye =saniye

2 yıl =ay

1 yıl 3 hafta =hafta

3 ay 10 gün =gün

5 hafta 5 gün =gün

35 gün =hafta



→ Üretim Tarihi: 23.03.2019

5 Puan

→ Son Kullanma Tarihi: 15.04.2019

12) Üretim tarihi ve son kullanma tarihi verilen süt kaç gün içinde tüketilmelidir?

Çözüm:

14) Ziya amca, 278 kg elmayı 12 kg'lık kasalara dolduruyor. Artan elmaları da evine götürüyor. Buna göre Ziya amca evine kaç kilogram elma götürmüştür? **5 Puan**

Çözüm: