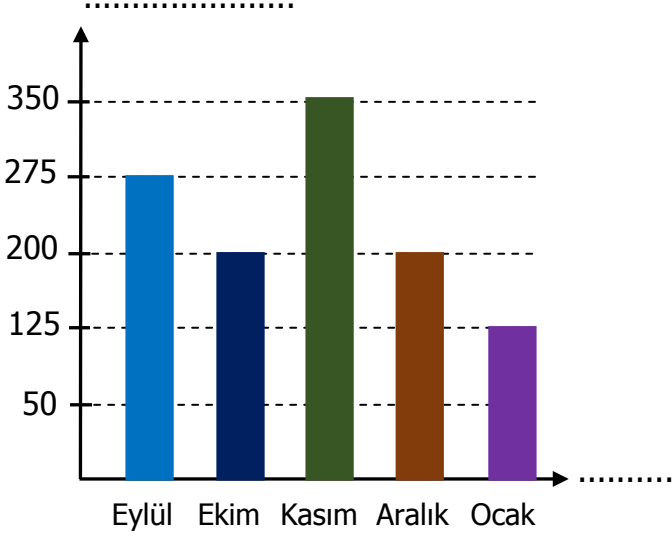


SORULAR

Aldığı Not:

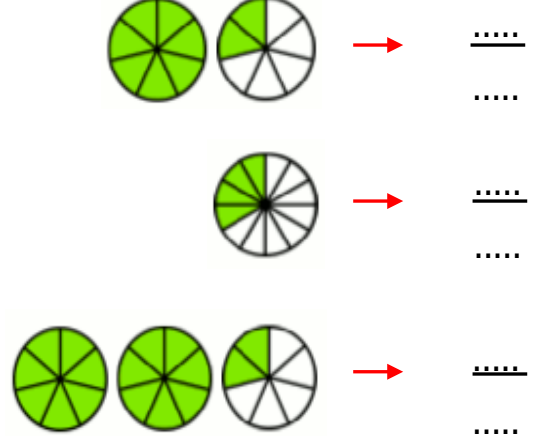
1) Aşağıdaki sütun grafiğinde bir kantinde aylara göre satılan simit sayıları verilmiştir. 10 Puan



Aşağıdaki soruları sütun grafiğine göre cevaplayınız.

- En çok simit satılan ay ile en az simit satılan ay arasındaki farkı bulunuz.
- Eylül ve kasım aylarında ne kadar simit satılmıştır?
- Beş ayda satılan toplam simit sayısını bulunuz.

2) Aşağıda boyalı kısımları ifade edilen kesirleri yazınız. 10 Puan



3) Aşağıdaki saatlerden biri sabah, diğeri öğleden sonrayı göstermektedir.

Buna göre iki saat arasında geçen süre kaç dakikadır? 10 Puan

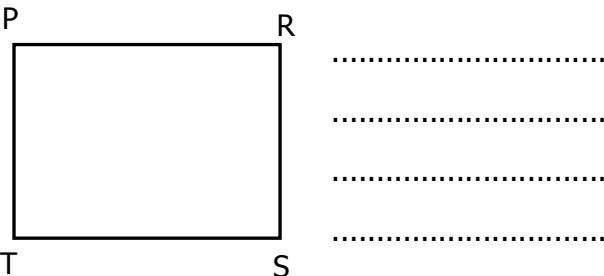


Öğleden Önce



Öğleden Sonra

4) Aşağıdaki dikdörtgeni isimlendiriniz. 5 Puan



5) 84 589 sayısında tekrar eden 8 rakamlarının basamak değerlerinin toplamı kaçtır? 5 Puan

Çözüm:

6) Aşağıda verilen toplama ve çıkarma işlemlerini en yakın yüzlüğe yuvarlayarak yapınız. **5 Puan**

$$\begin{array}{r} 2414 \\ + 3872 \\ \hline \end{array} \quad \begin{array}{r} 8542 \\ - 625 \\ \hline \end{array}$$

8) Artvin'den 14.15'te hareket eden bir otobüs Samsun'a 23.50'de ulaşmıştır. Buna göre otobüs yolculuğu kaç saat sürmüştür? **10 Puan**

Çözüm:

9) Aşağıdaki çarpma ve bölme işlemlerini yapınız. **10 Puan**

$$\begin{array}{r} 284 \\ \times 3 \\ \hline 1704 \\ + 8 \\ \hline 1024 \end{array} \quad \begin{array}{r} \square \\ - \square \\ \hline 3 \end{array}$$

($\blacktriangle \times \bullet$) \times \blacksquare =



→ Üretim Tarihi: 21.04.2019
→ Son Kullanma Tarihi:

11) Yukarıda üretim tarihi verilen sütün önerilen dayanma süresi 20 gündür. Buna göre son kullanma tarihini bulunuz? **10 Puan**

7) Aşağıdaki bilgilere göre çetele ve sıklık tablosunu doldurunuz.

"Dedemin çiftliğinde 25 keçi, 12 inek, 20 koyun ve 17 tavuk vardır."

Tablo:.....

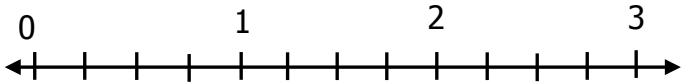
Hayvan Türleri	Hayvan Sayıları

10 Puan

Tablo:.....

Hayvan Türleri	Hayvan Sayıları

10) Aşağıda boyalı kısmına karşılık gelen kesri, sayı doğrusunda gösteriniz. **5 Puan**



12) Bir çiftçi, tarlasının $\frac{4}{15}$ 'üne mısır, $\frac{6}{15}$ 'sına buğday ekmiştir. Buna göre tarlanın kaçta kaç ekilmemiştir? **10 Puan**

Çözüm: