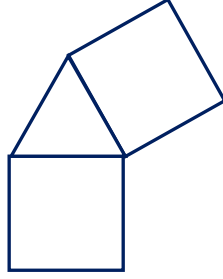


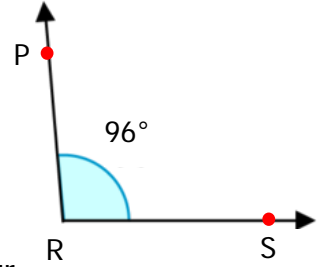
SORULAR

1) Yandaki şekilde birbirine eş iki kare ve bir eşkenar üçgen vardır.

Karenin bir kenar uzunluğu 7 cm olduğuna göre şeklin çevresi kaç santimetredir? **10 Puan**



2) Yanda verilen açı ile ilgili aşağıdaki ifadelerden hangisi yanlıştır? **5 Puan**



- A) Geniş açıdır.
B) Dik açıdan 6° fazladır.
C) \hat{P} olarak adlandırılır.
D) PR ışını kollarından biridir.

3) İçinde 20 kg peynir bulunan tenekeden önce 5 kg 374 g sonra 4 kg 85 g peynir satılıyor.

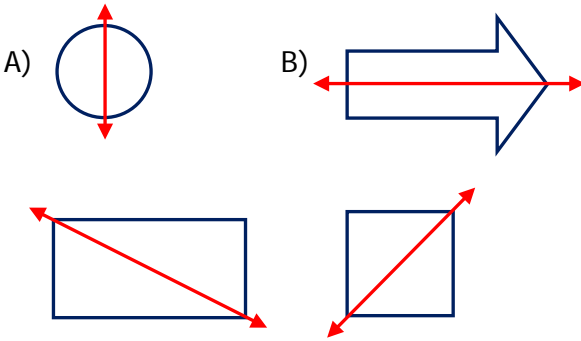
Buna göre tenekede kaç kilogram ve kaç gram peynir kalmıştır? **5 Puan**

4) Yandaki sürahiye 768 ml daha su eklenirse sürahide 3 L su oluyor.

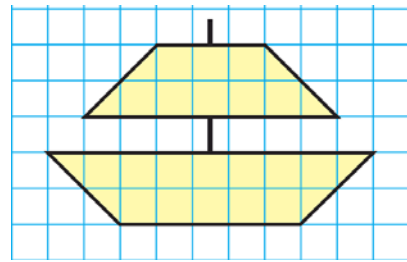
Buna göre sürahiye su ilave edilmeden önce kaç mililitre su vardır? **5Puan**



5) Aşağıdaki şekillerden hangisinin üzerindeki doğru o şekle ait bir simetri doğrusu olamaz? **5Puan**

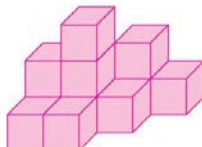
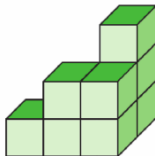
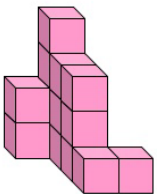


6) Aşağıdaki şeklin alanı kaç birimkareden oluşmuştur? **5Puan**



Alan =birimkare

7) Aşağıdaki yapıların kaç birim küpten oluştuğunu bulup yazınız. **5Puan**



.....

.....

.....

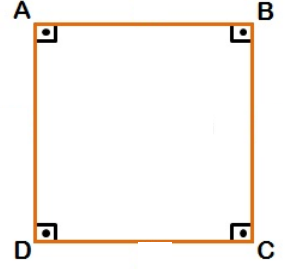
8) Bir çiftçin tarlanın $\frac{3}{12}$ 'üne biber, $\frac{5}{12}$ 'ine domates ekecektir. Tarlanın geri kalan kısmında ayçirdeği ekecektir. Bu durumda tarlanın kaçta kaçına ayçirdeği ekecektir? **10 Puan**

9) Yandaki saat Yusuf'un uyandıđı saati göstermektedir. Yusuf 8 saat 35 dakika uyumuştur.



Buna göre Yusuf saat kaçta uyumuştur? 10Puan

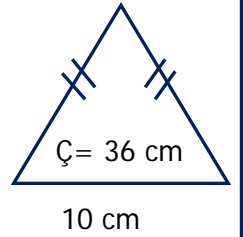
10) Yandaki karenin dikdörtgenden farklı özelliđi aşağıdakilerden hangisidir? 5 Puan



- A) Dört köşesinin olması
- B) Dört kenarının olması
- C) Tüm açılarının 90° olması
- D) Tüm kenarlarının eşit uzunlukta olması

11) Bir terzi 2000 mm'lik bir kumaşın 1 m 72 cm'si ile bir gömlek diyor. Buna göre kalan kumaşın uzunluđu kaç mm'dir? 5Puan

12) Aşağıdaki ikizkenar üçgenin verilmeyen kenar uzunluklarını bulunuz. 5Puan



13) Aşağıdakilerden hangisi düzlem modeli değildir? 5 Puan

- A) Basketbol sahası
- B) Öğretmen masasının yüzeyi
- C) Duvarda asılı tablo
- D) Karpuz

14) Aşağıda verilen kütle ölçme birimlerini istenilen birimlere dönüştürerek yazınız. 10 Puan

- 15 kg =g
- 23 t =kg
- 68 000 mg =g
- 7060 g = kgg
- 30 062 kg = kgg

15) 6 birim 12 birim



Yukarıdaki karesel ve dikdörtgensel bölgenin alanları eşittir.

Buna göre dikdörtgensel bölgenin kısa kenar uzunluđu kaç birimdir? 5 Puan

16) Aşağıda verilen B açısının geniş açı olabilmesi için en az kaç derece artırılması gerekir? 5 Puan

