




Mega Zeka ETKİNLİKLERİ

4.Sınıf

Piramitteki Sayılar

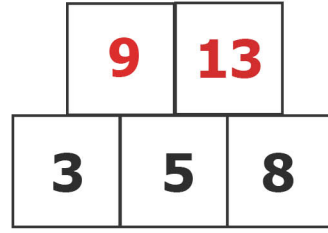
Yönerge : Piramidin en üstündeki sayıyı bulmak için piramidi oluşturan blok çiftlerini kullanın. Her çift bloğun toplamı üstündeki bloğu verir.

Örnek 1



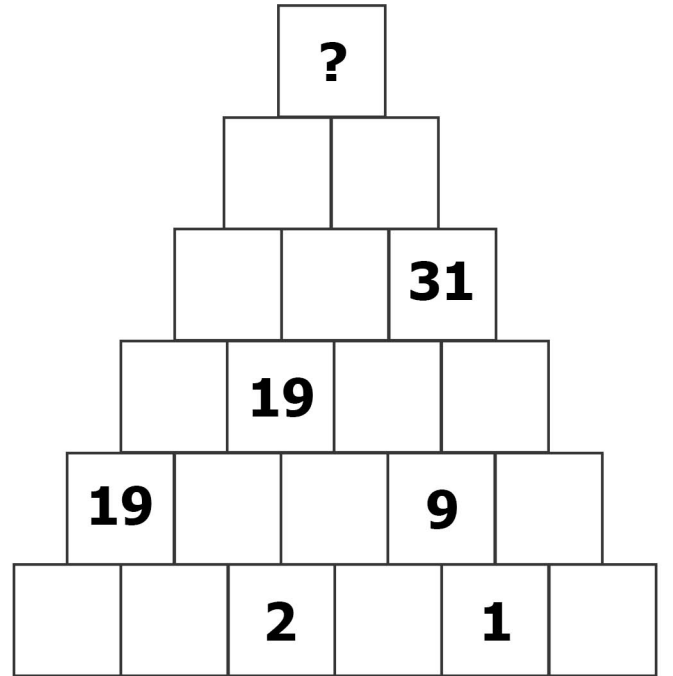
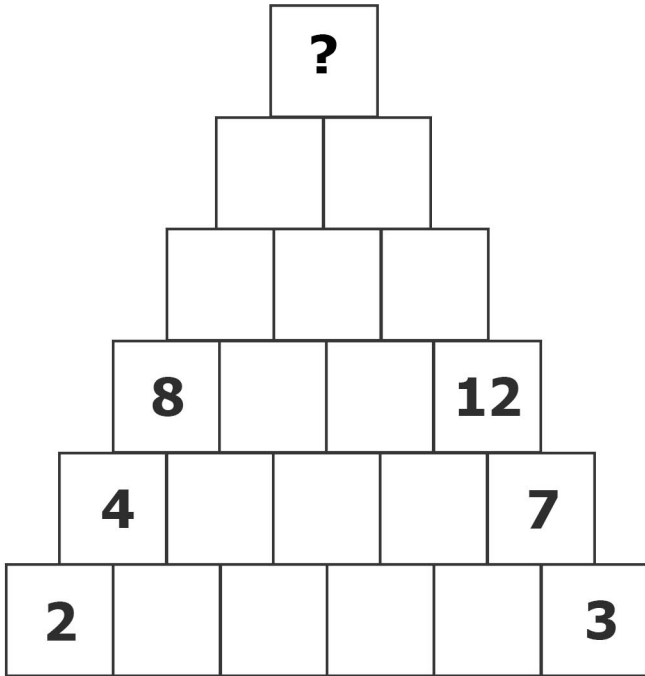
$$4 + 5 = 9$$

Örnek 2



$$3 + 5 = 8$$

$$5 + 8 = 13$$





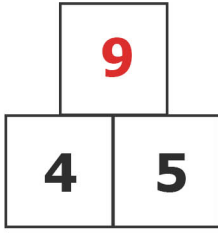
Mega Zeka ETKİNLİKLERİ

4.Sınıf

Piramitteki Sayılar

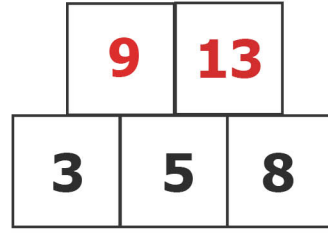
Yönerge : Piramidin en üstündeki sayıyı bulmak için piramidi oluşturan blok çiftlerini kullanın. Her çift bloğun toplamı üstündeki bloğu verir.

Örnek 1



$$4 + 5 = 9$$

Örnek 2



$$3 + 5 = 8$$

$$5 + 8 = 13$$

