

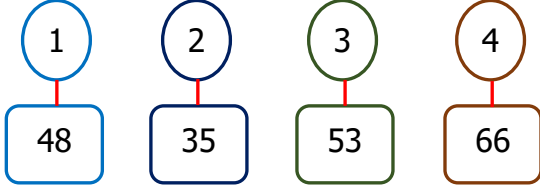


Adı Soyadı :

Numarası :

Konu: Genel Değerlendirme 2

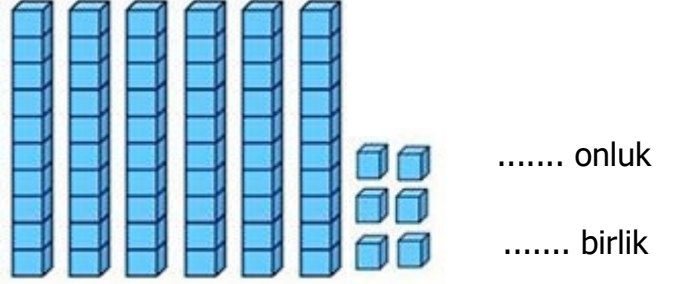
Aşağıdaki soruları dikkatlice okuyalım ve cevaplayalım.



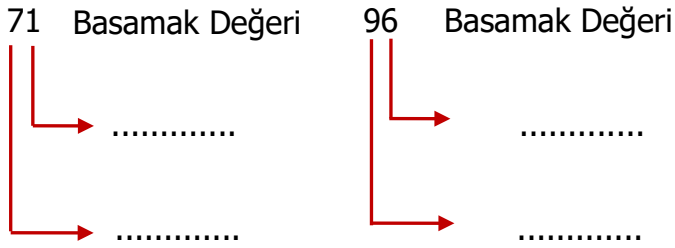
1) Yukarıdaki sayılardan hangi ikisi aynı onluğa yakındır?

- A) 1 ile 2 B) 2 ile 4 C) 1 ile 3

2) Onluk taban blokları ile gösterilen sayının onluk ve birliklerini bulalım.



3) Aşağıda verilen doğal sayıların basamak değerlerini yazınız.



4) Elif, 55 TL'si vardır. Ela'nın parası ise Elif'ten 12 TL azdır. Buna göre Elif ile Ela'nın paralarının toplamı kaç TL'dir?

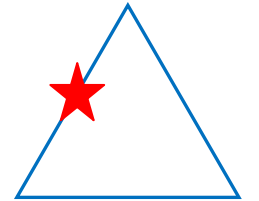
Çözüm:

5) Aşağıda verilen toplama ve çıkarma işlemlerini yapınız.

$\begin{array}{r} 28 \\ + 17 \\ \hline \end{array}$	$\begin{array}{r} 24 \\ + 18 \\ \hline \end{array}$	$\begin{array}{r} 93 \\ - 27 \\ \hline \end{array}$	$\begin{array}{r} \dots \\ - 29 \\ \hline \end{array}$
.....

6) Yandaki yıldız geometrik şeklin neresindedir?

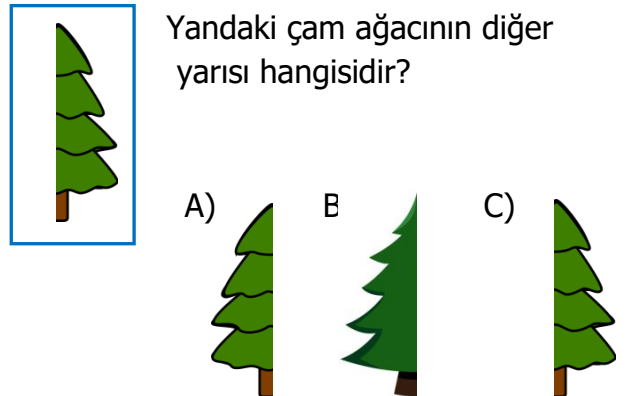
- A) Köşesinde
B) Yüzünde
C) Kenarında



7) Aşağıdakilerden hangisi silindire örnektir?



8) Yandaki çam ağacının diğer yarısı hangisidir?



9) Aşağıda verilen çarpma işlemlerini yapınız.

$$\begin{array}{r} 0 \\ \times 4 \\ \hline \dots \end{array} \quad \begin{array}{r} 3 \\ \times 9 \\ \hline \dots \end{array} \quad \begin{array}{r} 1 \\ \times 6 \\ \hline \dots \end{array} \quad \begin{array}{r} 4 \\ \times 8 \\ \hline \dots \end{array}$$

10) Özlem, bir günde 9 sayfa kitap okumaktadır. Özlem 5 günde toplam kaç sayfa kitap okur?


Çözüm:

11) Aşağıda verilen çiçek sayılarına göre sıklık tablosu oluşturunuz. Papatya: $\text{+++} \text{+++} \text{||}$
menekşe: +++||| gül: |||| lale: $\text{+++} \text{+++}$

Tablo:

Çiçekler	Çiçek sayısı

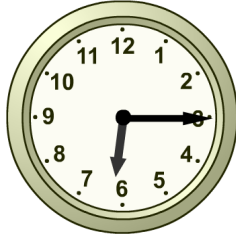
12) Aşağıdaki bütün portakallardan kaç tane yarım portakal oluşur?



- A) 12 B) 14 C) 16

13) Yandaki saatin okunuşu aşağıdakilerden hangisidir?

- A) Dört buçuk
B) Altıyı çeyrek geçiyor
C) Yediye çeyrek var



14) Aşağıdaki bölme işlemlerinden hangisi yanlış yapılmıştır?

A)
$$\begin{array}{r} 32 \overline{) 4} \\ - 32 \overline{) 8} \\ \hline 00 \end{array}$$

B)
$$\begin{array}{r} 21 \overline{) 3} \\ - 21 \overline{) 7} \\ \hline 00 \end{array}$$

C)
$$\begin{array}{r} 14 \overline{) 2} \\ - 14 \overline{) 6} \\ \hline 00 \end{array}$$



Pirinç: 12 kg



Un: 10 kg



Şeker: 15 kg

15) Verilen çuvallarda şeker, pirinç ve un miktarı ile ilgili aşağıdaki ifadelerden hangisi yanlıştır?

- A) Un şekerden daha hafiftir.
B) Pirinç ile şekerin kütleleri 27 kg'dır.
C) Pirincin kütlesi undan 3 kg fazladır.



39 m



12) Murat'ın okulu ile evinin arasındaki uzaklık 39 metredir. Sabah okula giden Murat, okul çıkışı evine geri dönüyor. Buna göre, Murat kaç metre yol yürümüştür?

Çözüm: