



Adı Soyadı : .....

Numarası : .....

Konu: Genel Değerlendirme 2

Aşağıdaki soruları dikkatlice okuyalım ve cevaplayalım.

428

1) Yukarıdaki doğal sayının çözümlenmiş şekli aşağıdakilerden hangisidir?

- A)  $400 + 200 + 8$   
 B) 4 yüzlük + 2 birlik + 8 onluk  
 C)  $(4 \times 100) + (2 \times 10) + (8 \times 1)$

 $376 < A < 425 < B$ 

2) Yukarıdaki sıralamada A ve B yerine hangi sayılar yazılamaz?

- |    | <u>A</u> | <u>B</u> |
|----|----------|----------|
| A) | 400      | 450      |
| B) | 370      | 415      |
| C) | 378      | 429      |

653

3) Yukarıdaki doğal sayının en yakın onluğa ve yüzlüğe yuvarlanmış hali hangisidir?

- A) 

650
700

 B) 

660
700

 C) 

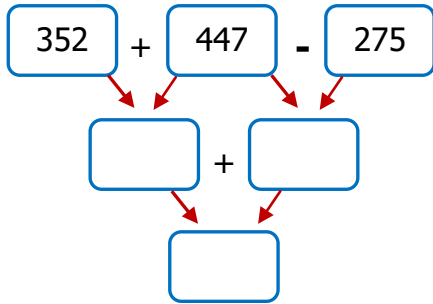
650
600

6 - 1 - 5

4) Yukarıdaki sayılarla yazılabilecek tek sayılar arasında aşağıdakilerden hangisi yoktur?

- A) 615  
 B) 561  
 C) 156

5) Aşağıda verilen işlemleri yapınız.



6) Bir tiyatro salonunda 127 erkek, erkeklerden 26 fazla kadın ve kadınlardan 59 eksik çocuk vardır. Buna göre tiyatro salonunda kaç izleyici vardır?

Çözüm:

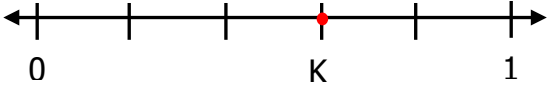
$$\begin{array}{r} \dots \\ - \quad \quad \quad 6 \\ \hline 4 \end{array}$$

Yandaki bölme işleminde bölünen sayı kaçtır?

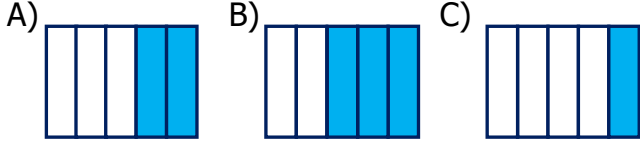
- A) 82 B) 87 C) 78

8) Aşağıdaki çarpma işlemlerinden hangisinin sonucu en büyüktür?

- |  |  |  |
|--|--|--|
| A) 36  | B) 29  | C) 32  |
| $\begin{array}{r} \times 18 \\ \hline \dots \end{array}$ | $\begin{array}{r} \times 29 \\ \hline \dots \end{array}$ | $\begin{array}{r} \times 25 \\ \hline \dots \end{array}$ |



9) Sayı doğrusunda K noktasının gösterdiği şekil aşağıdakilerden hangisidir?



10) Yandaki saat 40 dakika sonra kaç gösterir?



- A) 02.25  
B) 03.20  
C) 03.30

11) Haftalık harçlığım 8 TL'dir. Tanesi 50 kuruştan 6 tane kalem alırsam geriye kaç TL param kalır?


Çözüm:



12) Yukarıda yüzeyleri verilen geometrik cisim aşağıdakilerden hangisidir?

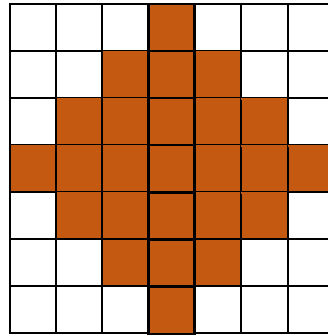
- A) Küre B) Koni C) Silindir

13) Yandaki şekil eş karelerden oluşmuştur. Karenin bir kenar uzunluğu 4 cm olduğuna göre şeklin çevre uzunluğu kaç cm'dir?



Çözüm:

14) Aşağıdaki koyu renkli şeklin alanı kaç birim karedir?



Alan: ..... birimkare

15) Aşağıda verilen çiçek sayılarına göre sıklık tablosu oluşturunuz.

papatya: |||| lale: +++ +++ ||  
menekşe: +++ +++ gül: +++ |||

Tablo: .....

Çiçekler	Çiçek sayısı

16) Berke, ile kardeşinin boylarının toplamı 2 m 58 cm'dir. Berke'nin boyu 1 m 39 cm olduğuna göre kardeşinin boyu kaç cm'dir?

Çözüm:

