


6.Ünite: Doğada Hayat

1. ■ Bitkilerin büyümesi için ısı, hava ve suya ihtiyaçları vardır.
- ▲ Bitkiler toğraktan aldığı suyu sadece köklerinde kullanır.
- Bitkiler tphumun çimlenmesiyle oluşur.

Yukarıdaki ifadelerden hangileri doğrudur?

- A) ■ ▲ ● B) ■ ●
- C) ■ ▲

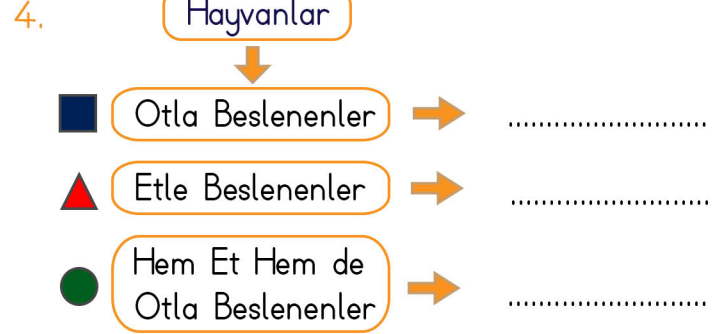


Bir tohumun bitki olabilme aşamalarını sıralarsak yukarıdaki görsellerin sıralanışı hangi seçenekte doğru olarak gösterilmiştir?

- A) 2-4-1-3 B) 2-1-4-3
- C) 4-2-1-3

3. Aşağıdakilerden hangisi bitkilerin faydalarından değildir?

- A) Çevreyi güzelleştirir.
- B) Havayı temizler.
- C) Yağmurun yağmasını engeller.



Yukarıdaki şemaya göre hayvanlar gruplandırılmıştır. Bu gruplamaya göre hangi seçenekteki eşleştirme doğrudur?

- A) ■ → İnek B) ▲ → Aslan
- → Tavuk ■ → Kartal
- C) ▲ → Koyun
- → Siğir

5. "Dünya'da hiç bitki olmasaydı"

Cümlesi aşağıdakilerden hangisiyle tamamlanamaz?

- A) insanlar ve hayvanlar beslenemezdi.
- B) temiz hava azalır, hava kirliliği oluşurdu.
- C) çok yağmur yağardı.

6. Aşağıdakilerden hangisi geri dönüştürülebilir atıktır?



6.Ünite: Doğada Hayat

7. Aşağıdaki ifadelerden hangisi yanlıştır?

- A) Verimli toprakların ve su kaynaklarının olduğu yerde nüfus daha fazladır.
- B) Dağlık arazilerin bulunduğu yerlerde sanayi daha gelişmiştir.
- C) İklim şartlarına bağlı olarak insanların kıyafetlerinde, yiyeceklerinde farklılık olabilir.

8. kar dolu uçurum
rüzgar girdap sis

Yukarıdakilerden kaç tanesi bir hava durumudur?

- A) 6
- B) 5
- C) 4

9. Toprak ve kayaların büyük parçalar hâlinde yamaçlardan aşağı sürüklenmesi ile oluşan doğal afet hangisidir?

- A) Deprem
- B) Heyelan
- C) Fırtına

10. Aşağıdakilerden hangisi doğal afetlerde zarar görenlere ilk yardım, yiyecek, giyecek gibi yardım yapan kuruluşlardan değildir?

- A) TEMA
- B) Kızılay
- C) AFAD

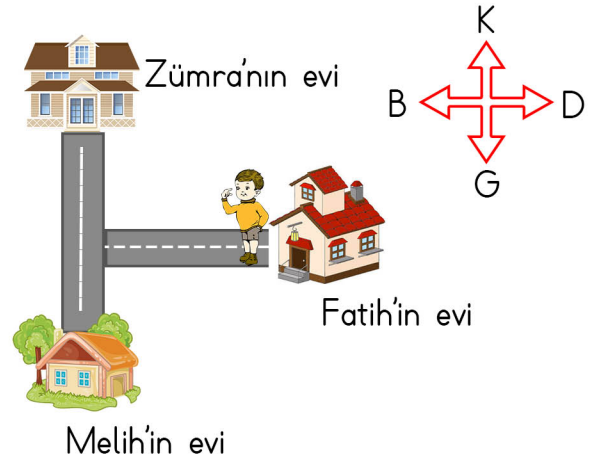
11. Aşağıdakilerden hangisi selin zararlarına karşı yapılacak önlemlerden değildir?

- A) Sel tehlikesi olan yerlerde yüksek sesle konuşulmamalıdır.
- B) Dere yataklarına ev yapılmamalıdır
- C) Ağaçlandırma çalışmaları yapılmalıdır.

12. Dünya'nın güneşin etrafında dönmesi sonucu aşağıdakilerden hangisi oluşur?

- A) Hafta
- B) Gece ve gündüz
- C) Mevsimler

13.



Fatih evinden çıkarak Melih'in evine gitmek istiyor. Buna göre Fatih, sırasıyla hangi yönlere doğru yürümelidir?

- A) Önce batı, sonra güney
- B) Önce batı, sonra kuzey
- C) Önce doğu, sonra güney