



Adı Soyadı :

Numarası :

Konu: Onluk ve Birliklere Ayrılım 3

Verilen nesneleri örnekteki gibi onluk ve birliklerine ayırıp, tabloları tamamlayalım.

1 onluk 8 birlik



1 onluk	8 birlik
10	8
18	
On Sekiz	

.... onluk birlik



.... Onluk Birlik
....
....	
.....	

.... onluk birlik



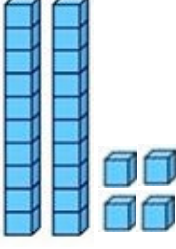
.... Onluk Birlik
....
....	
.....	

.... onluk birlik

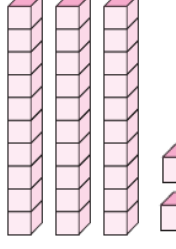


.... Onluk Birlik
....
....	
.....	

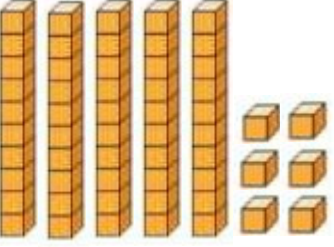
Aşağıdaki tabloları örnekteki gibi dolduralım.



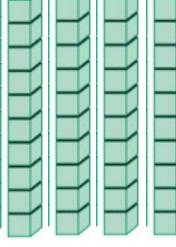
Onluk	Birlik
2	4
Sayı	
24	
Yirmi dört	



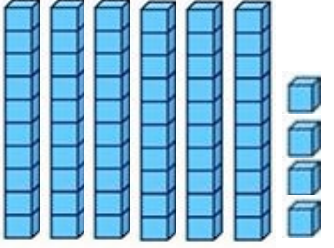
Onluk	Birlik
.....
Sayı	
.....	
.....	




Onluk	Birlik
.....
Sayı	
.....	
.....	



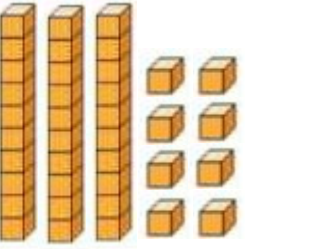
Onluk	Birlik
.....
Sayı	
.....	
.....	




Onluk	Birlik
.....
Sayı	
.....	
.....	



Onluk	Birlik
.....
Sayı	
.....	
.....	



Onluk	Birlik
.....
Sayı	
.....	
.....	

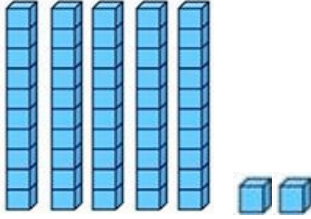


Onluk	Birlik
.....
Sayı	
.....	
.....	

1) 3 onluk 6 birlikten oluşan sayının yazılışı hangisidir?

- A) 63 B) 36 C) 60

2)



Yukarıdaki sayı bloklarıyla oluşturulan sayı hangisidir?

- A) 25 B) 50 C) 52

3) "64" sayısının onluk ve birlik olarak gösterimi hangi seçenekte doğru verilmiştir?

- A) 6 onluk 4 birlik
B) 4 onluk 6 birlik
C) 6 onluk 0 birlik

4) "49 = onluk birlik"

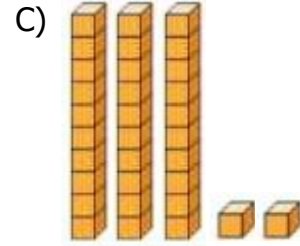
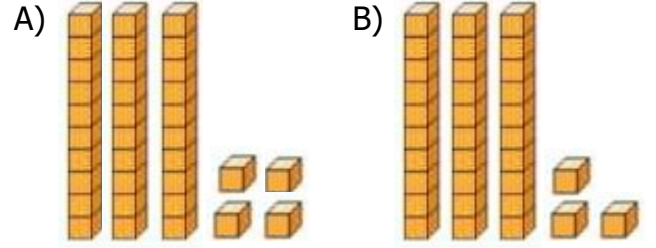
Yukarıdaki noktalı yerlere hangi sayılar yazılmalıdır?

- A) 40 ve 9
B) 4 ve 9
C) 4 ve 90

5) Aşağıdaki sayılardan hangisinin birler basamağında "6", onlar basamağında "5" sayısı vardır?

- A) 65 B) 50 C) 56

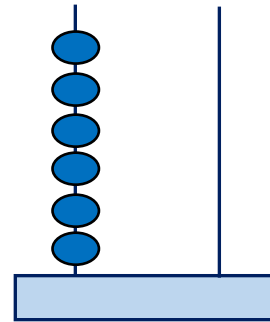
6) "33" doğal sayısının sayı blokları ile gösterimi hangisidir?



7) " 53" sayısının onlar basamağındaki rakamı 2, birler basamağındaki rakamı 1 azaltırsak yeni sayı kaç olur?

- A) 32 B) 42 C) 22

8)



Yukarıdaki abaküste gösterilen sayı aşağıdakilerden hangisidir?

- A) 60 B) 6 C) 66