

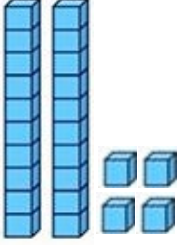


Adı Soyadı : .....


Numarası : .....

Konu: Onluk ve Birliklere Ayrılım 4

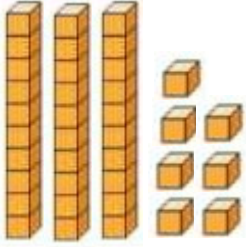
Aşağıda verilen sayı bloklarını örmekteki gibi yapınız.




2 onluk + 4 birlik



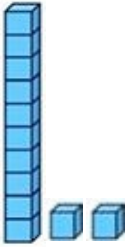
.... onluk + .... birlik



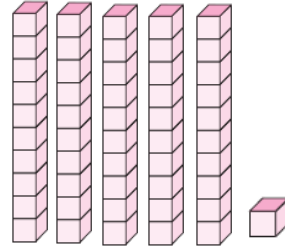
.... onluk + .... birlik



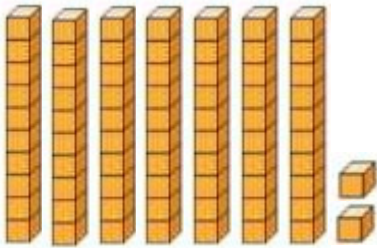
.... onluk + .... birlik



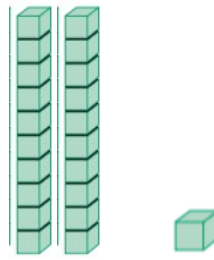
.... onluk + .... birlik



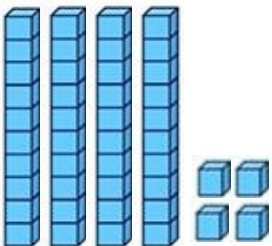
.... onluk + .... birlik



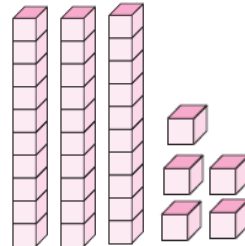
.... onluk + .... birlik



.... onluk + .... birlik



.... onluk + .... birlik



.... onluk + .... birlik

Onluk ve birlikleri verilen sayıları örnekteki gibi yazınız.

3 onluk	9 birlik	→	39
8 onluk	3 birlik	→	.....
5 birlik	1 onluk	→	.....
7 onluk	0 birlik	→	.....
9 onluk	5 birlik	→	.....
4 birlik	2 onluk	→	.....
0 onluk	7 birlik	→	.....
6 onluk	6 birlik	→	.....

Verilen sayıların onluk ve birliklerini örnekteki gibi yazınız.

72	→	7 onluk	2 birlik
18	→	.....	.....
7	→	.....	.....
89	→	.....	.....
30	→	.....	.....
51	→	.....	.....