



Adı Soyadı : .....

Numarası : .....

Konu: Basamak Adları ve Basamak Değeri Etkinliği 2

Aşağıda tabloda basamaklarındaki rakamları verilmiş olan sayıları yazalım.

Yüzler Basamağı	4
Onlar Basamağı	1
Birler Basamağı	3
Sayı: .....	

Yüzler Basamağı	3
Onlar Basamağı	6
Birler Basamağı	2
Sayı: .....	

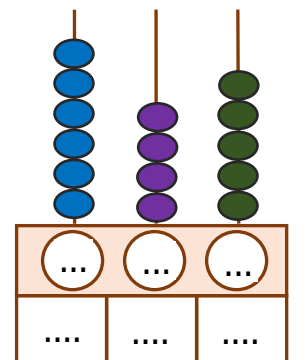
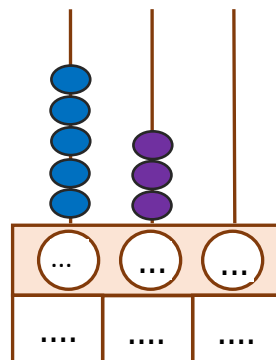
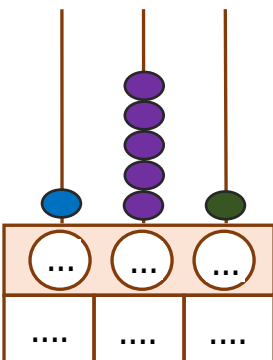
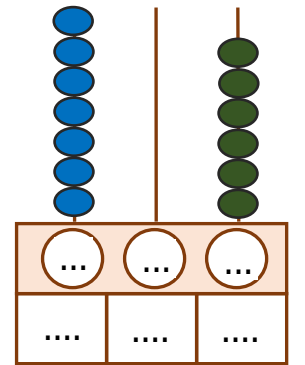
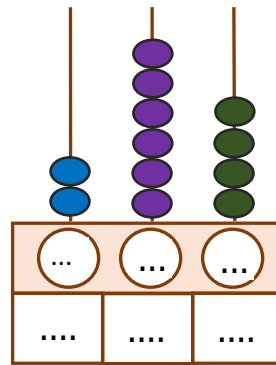
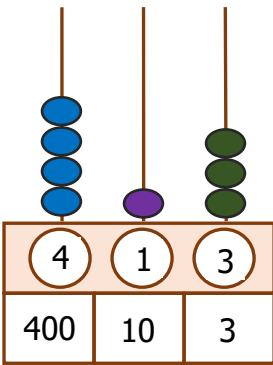
Yüzler Basamağı	5
Onlar Basamağı	8
Birler Basamağı	8
Sayı: .....	

Yüzler Basamağı	7
Onlar Basamağı	0
Birler Basamağı	6
Sayı: .....	

Yüzler Basamağı	9
Onlar Basamağı	5
Birler Basamağı	0
Sayı: .....	

Yüzler Basamağı	6
Onlar Basamağı	7
Birler Basamağı	4
Sayı: .....	


Aşağıda abaküslerde verilen sayıları ve basamak değerlerini örnekteki gibi altlarına yazalım.



Aşağıda basamak değerleri verilen sayıları ve bu sayıların basamak adlarını yazınız.


300	60	2
-----	----	---

Basamak Adları




500	20	8
-----	----	---

Basamak Adları




700	0	6
-----	---	---

Basamak Adları




100	80	1
-----	----	---

Basamak Adları



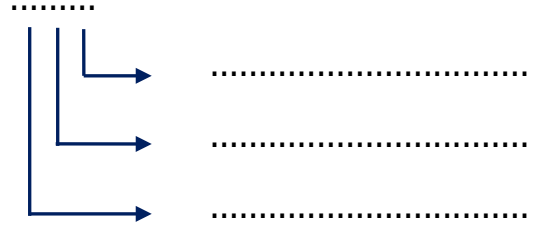
400	40	7
-----	----	---

Basamak Adları




900	70	5
-----	----	---

Basamak Adları



600	80	0
-----	----	---

Basamak Adları



200	20	2
-----	----	---

Basamak Adları

