



Adı Soyadı :

Numarası :


Konu: Nesne Sayısını Tahmin Edelim

Aşağıdaki varlıkların sayısını tahmin ediniz. Daha sonra varlıkları sayarak tahmininizi kontrol ediniz. Sonuçları yanlarına yazınız.



Tahminim :

Gerçek sonuç :



Tahminim :

Gerçek sonuç :



Tahminim :


Gerçek sonuç :



Tahminim :

Gerçek sonuç :


Aşağıdaki gruplarda kaç tane nesne olduğunu tahmin ediniz. Tahminlerinizi sayarak kontrol ediniz.
Tahminlerinizi gerçek sonuçla karşılaştırınız.



Tahminim :
Gerçek sonuç :



Tahminim :
Gerçek sonuç :



Tahminim :
Gerçek sonuç :



Tahminim :
Gerçek sonuç :



Tahminim :
Gerçek sonuç :



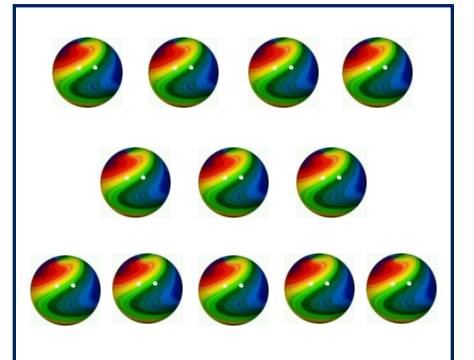
Tahminim :
Gerçek sonuç :



Tahminim :
Gerçek sonuç :



Tahminim :
Gerçek sonuç :



Tahminim :
Gerçek sonuç :