



Adı Soyadı :

Numarası :

Konu: Basamak Değerini Bulalım 3

Aşağıda verilen sayı bloklarının basamak adlarını ve basamak değerlerini yazalım.

	Onluk	Birlik
Sayı	
Basamak Adı
Basamak Değeri

	Onluk	Birlik
Sayı	
Basamak Adı
Basamak Değeri

	Onluk	Birlik
Sayı	
Basamak Adı
Basamak Değeri

	Onluk	Birlik
Sayı	
Basamak Adı
Basamak Değeri

	Onluk	Birlik
Sayı	
Basamak Adı
Basamak Değeri

	Onluk	Birlik
Sayı	
Basamak Adı
Basamak Değeri

Aşağıda verilen doğal sayıların basamak adlarını ve basamak değerlerini örnekteki gibi yazınız.

37
↓
↓
→
→

Basamak Adı	Basamak Değeri
Birler Basamağı	7
Onlar Basamağı	30

52
↓
↓
→
→

Basamak Adı	Basamak Değeri
.....
.....

20
↓
↓
→
→

Basamak Adı	Basamak Değeri
.....
.....

65
↓
↓
→
→

Basamak Adı	Basamak Değeri
.....
.....

83
↓
↓
→
→

Basamak Adı	Basamak Değeri
.....
.....

11
↓
↓
→
→

Basamak Adı	Basamak Değeri
.....
.....

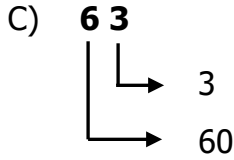
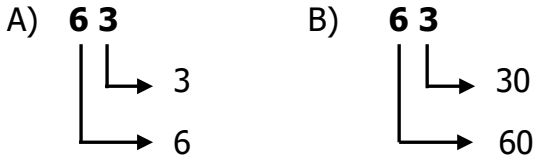
78
↓
↓
→
→

Basamak Adı	Basamak Değeri
.....
.....

46
↓
↓
→
→

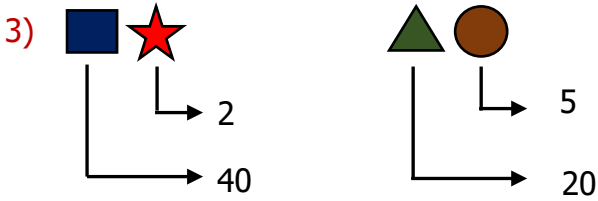
Basamak Adı	Basamak Değeri
.....
.....

1) "63" sayısının basamak değerleri hangi seçenekte doğru verilmiştir?

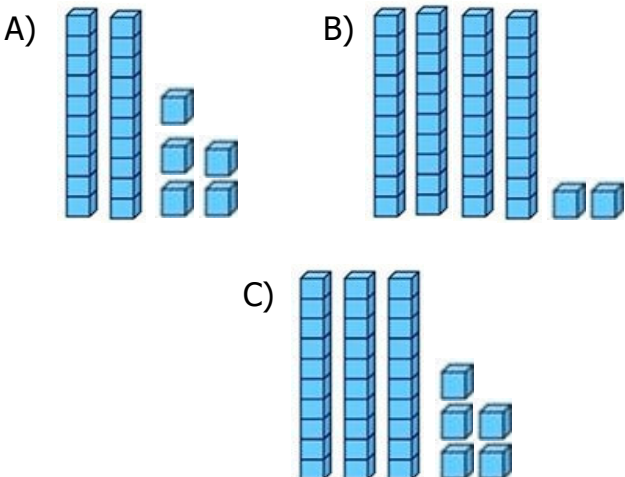


2) "76" sayısındaki 7'nin basamak adı hangisidir?

- A) Birler basamağı
B) Onlar basamağı
C) Binler basamağı



Yukarıda basamak değerleri verilen sayıların onluk taban blokları ile gösterimi aşağıdakilerden hangisi olamaz?



36	40	17
41	72	49

4) Yukarıdaki kutulardan kaç tanesinin onlar basamağındaki rakamın basamak değeri 40'tır?

- A) 1 B) 2 C) 3

5) Aşağıdaki sayılardan hangisinin birler basamağının basamak değeri "1" değildir?

- A) 21 B) 18 C) 61

6) Birler basamağı "4", onlar basamağı "8" olan doğal sayı kaçtır?

- A) 84 B) 48 C) 18

7) 

Seçenektekilerden hangisi bulutlardaki sayılardan birinin birler basamağına ait değer olamaz?

- A) 2 B) 9 C) 8

8) Aşağıdaki sayıların hangisinde koyu yazılan rakamın basamak değeri en büyüktür?

- B) **63** B) **98** C) **50**