



Adı Soyadı :

Numarası :

Konu: Sayı Örüntüleri Etkinliği 2


Aşağıdaki örüntülerin kuralını yazalım ve bir sonraki adımını noktalı yere çizelim.



1 .adım



2 .adım



3 .adım

.....

4 .adım

Örüntünün Kuralı:



1 .adım



2 .adım



3 .adım

.....

4 .adım


Örüntünün Kuralı:



1 .adım



2 .adım

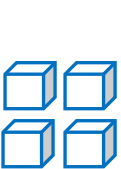


3 .adım

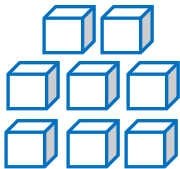
.....

4 .adım

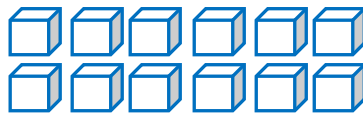
Örüntünün Kuralı:



1 .adım



2 .adım



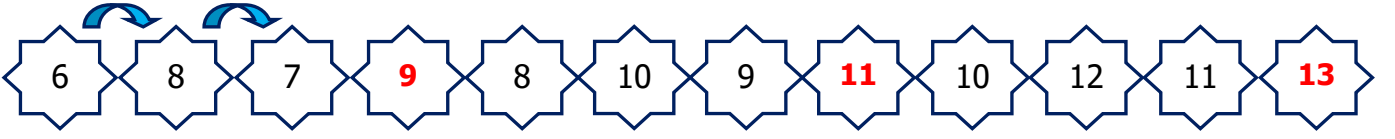
3 .adım

.....

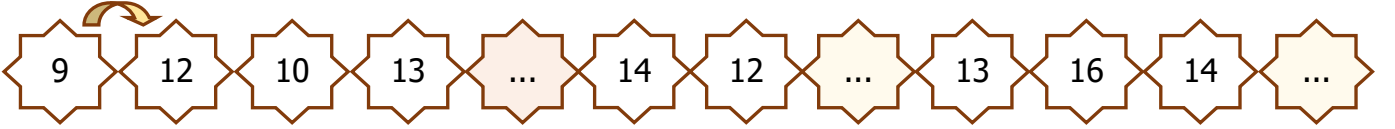
4 .adım

Örüntünün Kuralı:

Aşağıdaki sayı örüntülerini örnekte verildiği gibi tamamlayınız. Örüntülerin kuralını yazınız.



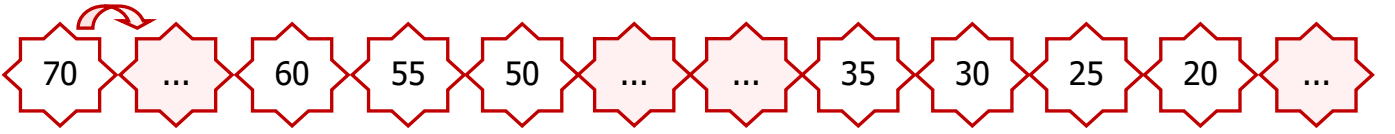
Örüntünün Kuralı: Sayılar ikişer artıyor, birer azalıyor.



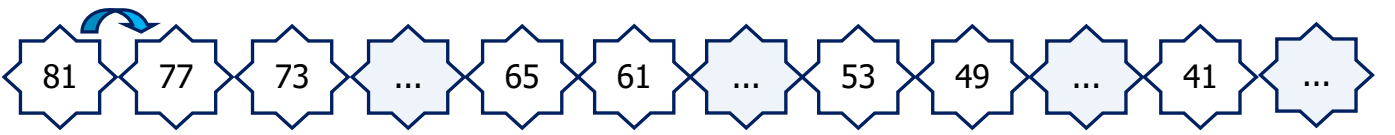
Örüntünün Kuralı:



Örüntünün Kuralı:



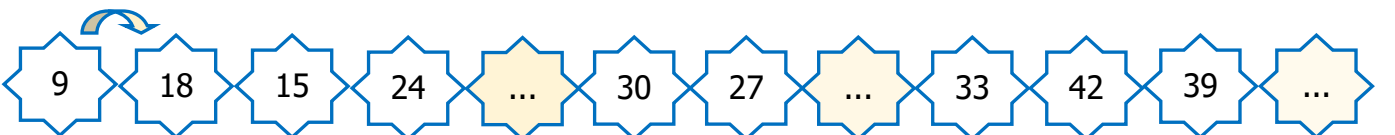
Örüntünün Kuralı:



Örüntünün Kuralı:



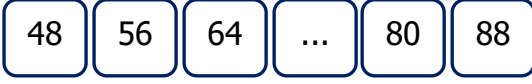
Örüntünün Kuralı:



Örüntünün Kuralı:

Aşağıdaki örüntülerde kuralı bozan sayıları örnekteki gibi bulup işaretleyiniz. Yerine yazılması gereken sayıyı mavi renge boyayınız.

	Sayı Örüntüleri	Yazılması Gereken Sayı
A)		
B)		
C)		
D)		
E)		
F)		
G)		
H)		
L)		



1) Yukarıdaki örüntüde boş bırakılan yere hangi sayı gelmelidir?

- A) 72 B) 75 C) 76

2) 27'den başlayarak ileriye doğru dokuzar ritmik sayma yaptığımızda söylediğimiz 5. sayı kaçtır?

- A) 63 B) 72 C) 81

3) Aşağıdaki örüntülerin hangisinde hata yapılmıştır?

A) 5 9 13 17 21

B) 33 41 49 57 63

C) 25 32 39 45 53

4) Sayı 5 artmış, iki azalmıştır.

Aşağıdaki örüntülerden hangisi yukarıdaki kurala göre düzenlenmiştir?

A) 17 – 21 – 19 – 23 – 21

B) 23 – 28 – 26 – 31 – 29

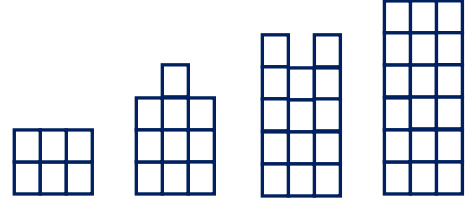
C) 35 – 38 – 36 – 39 – 37

5) 33 41 49 57 64 73

Yukarıdaki örüntüde kuralı bozan sayı hangisidir?

- B) 64 B) 49 C) 73

6)



Yukarıda şekillerle modellenen sayı örüntüsü hangisidir?

A) 7 – 11 – 15 – 19

B) 6 – 10 – 14 – 18

C) 6 – 9 – 12 – 15

7)

24 – 33 – – 51 – 60 – – 78

Yukarıdaki örüntüde + işleminin sonucu kaçtır?

A) 101

B) 110

C) 111

8)



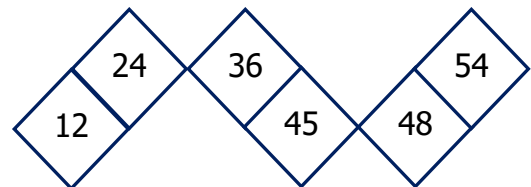
Yukarıdaki sayı örüntüsünün kuralı hangi seçenekte doğru verilmiştir?

A) Sayılar altışar artarak sıralanıyor.

B) Sayılar sekizer artarak sıralanıyor.

C) Sayılar beşer artarak sıralanıyor.

9)



Yukarıdaki sayılardan hangileri hem altışar hem de dokuzar sayarken söylediğimiz ortak sayılardır?

A) 12 – 45

B) 36 – 54

C) 24 – 48