



Adı Soyadı :

Numarası :

Konu: Duyu Organları ve Görevleri Etkinliği 1

Beş Duyumuz

Aşağıdaki duyu organlarını görevleriyle eşleştiriniz.

Çevreden gelen sesleri
işitmemizi sağlayan duyu
organıdır. Çevremizdeki
insanlarla iletişim kurmamıza
yardımcı olur.

Kokuları algılamamızı sağlayan
duyu organıdır.
Aynı zamanda solunan havanın
temizlenmesini,
ısıtılmasını ve nemlendirilmesini
sağlar.



Dokunma duyası organıdır.
Cisimlerin sert mi, yumuşak mı
olduğunu algılarız. Suyun sıcak
mı, soğuk mu olduğuna karar
veririz.

Besinlerde temel olarak tatlı,
tuzlu, ekşi ve acı olmak üzere
dört çeşit tat olduğu kabul
edilir. Besinlerin tadını
algılamamızı sağlayan
duyu organımızdır.

Cisimlerin şeklini, rengini ve
büyüklüğünü
kısacası görüntüsünü
algılamamızı sağlayan duyu
organıdır.

Aşağıdaki bilmeceyi cevaplarıyla eşleştirilim.

Zarar görür fazla kalırsak güneşin altında, en büyük organıdır vücudumuzun aslında.

burun

Her yeri görür, kendisini görmez.

kulak

Etten kantar, altın tartar.

dil

Altı tavan üstü tavan, içimde kırmızı oğlan.

göz

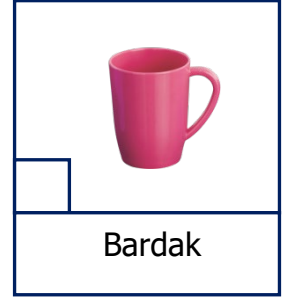

Direkli kuyu, eksilmez suyu.

deri


Aşağıdaki varlıkların hangisini gözlerimiz kapalıyken kokusundan tanıyabiliriz?



Aşağıdaki varlıkların hangisini gözlerimiz kapalıyken tadından tanıyabiliriz?



Aşağıdaki görsellerden hangileri kulaklarla ilgilidir.



Aşağıdaki noktalı yerlere uygun sözcükler yazalım.

burnumuzla

kulağımızla

deri

gözümüzle

dil

- ❖ sağlığımız için yiyecekleri çok soğuk veya çok sıcak tüketmemeliyiz.
- ❖ Güzel ve kötü kokuları alırız.
- ❖ Vücudumuzu tamamen kaplar ve dış etkenlerden vücudumuzu korur.
- ❖ Çevremizdeki sesleri duyarız.
- ❖ Varlıkların büyüklük, renk, hareket ve biçim özelliklerini algılarız.

Aşağıdaki duyu organlarımızın sağlığı için verilen bilgileri görselleriyle eşleştiriniz.

- 1- Çok kuvvetli ya da zayıf ışıktaki ders çalışmamalıyız.
- 2- Havlu ve gözlük gibi kişisel eşyaların temizliğine dikkat etmeliyiz.
- 3- Bilgisayar ve televizyon ekranlarına çok yakından bakmamalıyız.



- 1- Gürültülü yerlerde bulunmamaya özen göstermeliyiz.
- 2- Duyu organını temizlerken sert cisimler kullanmamalıyız.
- 3- Şiddetli sesler duyduğumuzda ağızımızı temizlemeliyiz.



- 1- Kokusunu bilmediğimiz maddeleri koklamamalıyız.
- 2- Sigara içilen ortamlarda bulunmamalıyız.
- 3- Duyu organının içinde bulunan kılları koparmamalıyız.



- 1- Aşırı sıcak ve soğuk besinleri tüketmemeliyiz.
- 2- Ne olduğunu bilmediğimiz maddelerin tadına bakmaktan kaçınmalıyız.
- 3- Ağız ve diş sağlığına önem vermeliyiz.



- 1- Vücudumuzu aşırı sıcak ve soğuktan korumaya çalışmalıyız.
- 2- Haftada en az iki defa banyo yapmalıyız.
- 3- Derimize zarar verebilecek çamaşır suyu ve deterjan gibi maddelere dokunmamalıyız.



Aşağıdaki tabloda verilen durumlar hangi organımızın sağlığı ile ilgili olduğunu işaretleyiniz.

Durumlar	kulak	burun	göz	deri	dil
Güneş'e doğrudan bakmamalıyız.					
Bilmediğimiz maddeleri koklamamalıyız.					
Asitli gaz ve içeceklerden uzak durmalıyız.					
Güneş altında uzun süre durmamalıyız.					
Gürültülü ortamlardan uzak durmalıyız.					
Sert ve sivri cisimlerle temizlememeliyiz.					
Televizyon izlerken mesafeyi iyi ayarlamalıyız.					
Kesici aletleri dikkatli kullanmalıyız.					

Aşağıdaki ifadelerden doğru olanlara "D", yanlış olanlara "Y" yazınız.

- () Başkalarına ait gözlük veya havlu benzeri eşyalar gözümüze zarar vermez.
- () Sert ve sivri cisimleri kulağımıza sokmamalıyız.
- () Burun kıllarımızı koparmamızın sakıncası yoktur.
- () Dil besinlerin çiğnenmesine yutulmasına yardım eder.
- () Çevremizdeki birçok nesnenin özelliğini dokunarak anlarız.
- () Loş ışıkta ders çalışabiliriz.
- () İnsanlar bütün sesleri duyabilir.
- () Tanımadığımız maddeleri koklamamalıyız.
- () Uzun süre güneşin altında kalmak cildimize faydalıdır.
- () Soğuk yiyecekler dilimize zarar verirken sıcak yiyecekler zarar vermez.

Aşağıdaki noktalı yerlere uygun sözcükler yazalım.

kılları

beş

deri

ellerle

doktora

ağzımızı

- ❖ Dilimizde şişlik kızarıklık yara olması durumunsa gitmeliyiz.
- ❖ Maddelerin sert mi, yumuşak mı, sıcak mı, soğuk mu olduğunu sayesinde anlarız.
- ❖ Burnumuzun içindeki koparmamalıyız.
- ❖ Kirli gözlerimize dokunmamalıyız.
- ❖ Patlama ve yüksek şiddetli seslerin olduğu ortamlarda açmalıyız.
- ❖ Vücudumuzda tane duyu organımız vardır.

Aşağıda olaylarda hangi duyu organının görev aldığını noktalı yerlere yazalım.

- Akşamki yemek çok lezzetliydi.
- Gök gürültüsüyle uykudan kalktım.
- Bahçedeki güllerin kokusu her tarafa yayılmıştı.
- Çaydanlık sıcakmış elim yandı.
- Kar lapa lapa yağmaya başlamıştı.

1 Bir maddenin soğuk- sıcaklığını, yumuşaklık - sertliğini hangi duyu organımız yardımıyla algılarız?

- A) Dil
- B) Burun
- C) Deri

2 Aşağıdaki görselde bilgisayar kullanan Azra hangi duyu organını kullanamaz?

- A) Deri
- B) Burun
- C) Göz



3 Çalar saatinin sesiyle uyanan bir kişi hangi duyu organını kullanmıştır?




- A) Kulak
- B) Deri
- C) Göz



4 Aşağıdaki bilgilerden hangisi göz sağlığımız ile ilgili değildir?

- A) Başkalarının havlu veya gözlüğünü kullanmayalım.
- B) Loş ya da yetersi ışıkta ders çalışmayalım.
- C) Kulaklıkla yüksek sesli müzik dinlememeliyiz.

5 Vücudumuzun en büyük duyu organı hangisidir?

- A) 
- B) 
- C) 

6 Aşağıdakilerden hangisi derinin görevlerinden birisi değildir?

- A) Çevremizdeki sesler duymamıza yardımcı olur.
- B) Vücudumuzu dış etkenlerden korur.
- C) Sertlik, yumuşaklık, soğukluk ve sıcaklık gibi özellikleri algılarız.

Bahçedeki gülleri koklarken elime diken battı.

7 Yukarıdaki cümlede hangi duyu organına yer verilmemiştir?

- A) Dil
- B) Deri
- C) Burun

8 Kulağımızla ilgili aşağıdaki bilgilerden hangisi yanlıştır?

- A) Kulaklarımızı soğuktan korumak için bere takmalıyız.
- B) Kulaklarımızla her türlü sesleri işitiriz.
- C) Kulaklarımıza sert cisimler sokmamalıyız.

9 Duyu organlarımızdan hangisi sadece baş bölgesinde bulunmaz?

- A) Göz
- B) Burun
- C) Deri

10 Duyu organlarıyla ilgili ifadelerden hangisi doğrudur?

- A) Duyu organlarının görevleri aynıdır.
- B) Birden fazla duyu organı aynı anda çalışabilir.
- C) Cisimleri tanımamız için görmemiz yeterlidir.