



Adı Soyadı : .....




Numarası : .....

Konu: Gezegenimizi Tanıyalım Ünite Değerlendirme Etkinliği

1) Ankara'dan kalkan bir uçak hep aynı yöne gittiğinde kalktığı noktaya geri dönmesi hangisini ispatlar?

- A) Dünya'nın Güneş'in etrafında dolandığına
- B) Ay'ın Dünya'nın etrafında dolandığına
- C) Dünya'nın küre biçiminde olduğuna

2) Dünya'nın şekli aşağıdaki görsellerden hangisine benzemektedir?

- A) 
- B) 
- C) 

3) "Dünya'yı gölde yüzen dev bir timsah olarak düşünüyoruz."

Yukarıda Dünya'nın yapısı ile ilgili düşünceyi hangi uygarlık öne sürmüştür?

- A) Mısırlılar
- B) Mayalar
- C) Hintliler

Dünya'nın yuvarlak olduğunu ispatlamak için çıkmış olduğu deniz yolculuğunda hayatını kaybetti.

4) Yukarıda paragrafta kimden bahsedilmektedir?

- A) Macellan
- B) Pisagor
- C) Galileo

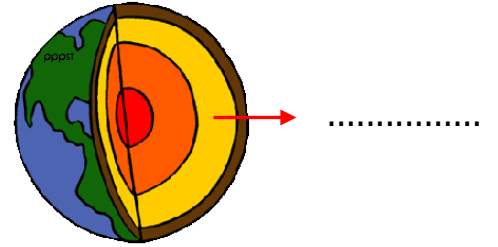
5) Aşağıdakilerden hangisi Dünya'nın iç katmanlarından biri değildir?

- A) İç çekirdek
- B) Manto
- C) Atmosfer

6) Yukarıdaki bilim insanlarından hangisi Dünya'nın yuvarlak oluşuyla ilgili düşünce belirtmemiştir?

- A) Edison
- B) Aristo
- C) Kepler

7)



Yandaki görselle ok ile gösterilen yere aşağıdakilerden hangisi yazılmalıdır?

- A) Manto
- B) Lav
- C) Yerkabuğu

8) Dünya'nın çevresini ince bir battaniye gibi saran hava kürenin diğer adı aşağıdakilerden hangisidir?

- A) Gökyüzü
- B) Bulut
- C) Atmosfer

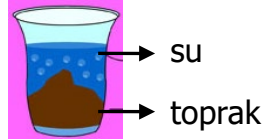
9) Dünya'mızın dağlarını, toprağını ve taşlarını oluşturan katman aşağıdakilerden hangisidir?

- A) Kara katmanı
- B) Su katmanı
- C) Hava katmanı

10) Uzaydan bakıldığında Dünya'nın mavi renkte görülmesinin nedeni aşağıdakilerden hangisidir?

- A) Uzaydan bakılınca karaların çok yer kaplaması
- B) Yeryüzünün büyük bir bölümünün sularla kaplı olması
- C) Uzaydan bakılınca bulutların görünmesi

Ela, kavanozdaki kuru toprağa su ekleyip gözlem yapıyor.



11) Ela, bu yaptığı deneyde aşağıdakilerden hangisinin kanıtlamak istemiştir?

- A) Suyun toprağı ıslattığını
- B) Suyun üst kısımda kaldığını
- C) Havanın varlığını

12) Yağmur, kar, rüzgar gibi olayların gerçekleştiği Dünya katmanı aşağıdakilerden hangisidir?

- A) Su katmanı
- B) Hava katmanı
- C) Kara katmanı

Yer kabuğunun altında erimiş kayaların oluşturduğu ..... bulunur.

13) Yukarıdaki ifadelere göre noktalı yere aşağıdakilerden hangisi yazılmalıdır?

- A) İç çekirdek
- B) Manto
- C) Dış çekirdek

14) Üzerinde canlıların yaşadığı katman aşağıdakilerden hangisidir?

- A) Kara katmanı
- B) Hava katmanı
- C) Su katmanı

15) "Uzaktan gelen geminin önce dumanı, sonra bacası, sonra tamamı görülür." Bu durum aşağıdaki ifadelerden hangisini kanıtlar?

- A) Dünyanın büyük bir bölümünün sularla kaplı olduğuna
- B) Dünyamızın yüzeyinin düz olduğuna
- C) Dünyamızın küreye benzediğine

16) I.Dünyanın düz bir tepsiye benzetilmesi  
II.Dünya'nın öküzün boynuzları arasında olması  
III.Dünya'nın düz bir dikdörtgene benzetilmesi

Yukarıdaki ifadelerden hangileri eski insanların düşüncelerini ifade etmektedir?

- A) Yalnız I
- B) I ve II
- C) I, II, III,

## CEVAP ANAHTARI

1) C

2) B

3) B

4) A

5) C

6) A

7) A

8) C

9) A

10) B

11) C

12) B

13) B

14) A

15) C

16) C

17)

18)

19)

20)