

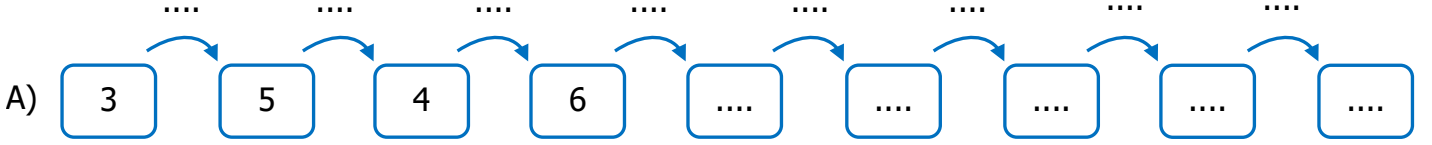


Adı Soyadı :

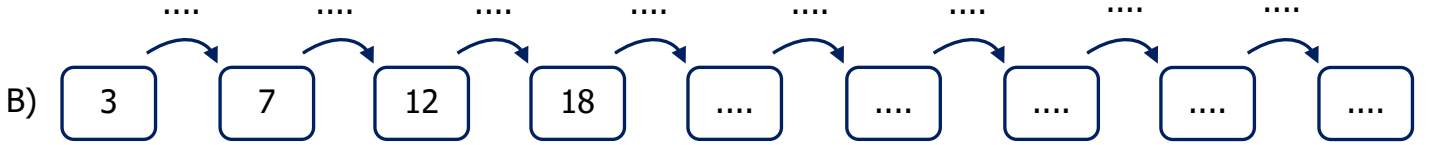
Numarası :

Konu: Sayı Örüntüleri Etkinliği 1

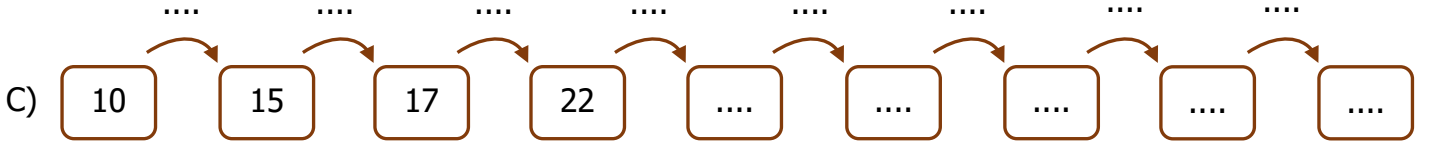
Aşağıdaki örüntülerin kuralını bularak devam ettiriniz.



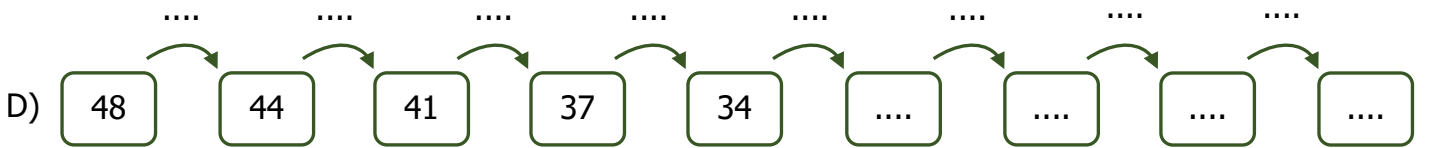
Örüntünün kuralı:



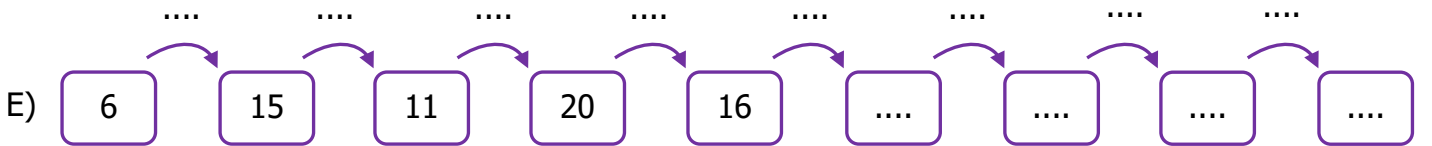
Örüntünün kuralı:



Örüntünün kuralı:



Örüntünün kuralı:



Örüntünün kuralı:

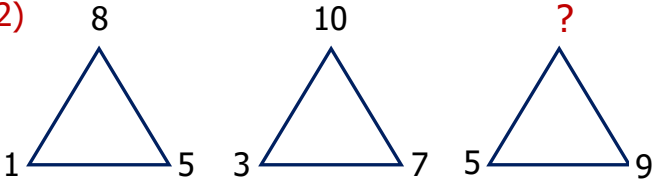
1)

3	6	18
7	14	42
15	30	A

Yukarıdaki şekilde sayılar soldan sağa doğru belli bir kurala göre yazılmıştır. Buna göre A yerine hangi sayı yazılmalıdır?

- A) 40 B) 45 C) 35 D) 55

2)



Yukarıdaki örüntüde soru işareti ile gösterilen hangi sayı yazılmalıdır?

- A) 10 B) 12 C) 14 D) 16

3)

$$8 - 17 - 13 - 22 - 18 - 27 - 23$$

Yukarıdaki sayı örüntüsünün kuralı hangi seçenekte verilmiştir?

- A) 8 artan, 6 azalan
B) 9 artan, 5 azalan
C) 7 artan, 4 azalan
D) 9 artan, 4 azalan

4) 165 sayısından başlayarak 15'er eksilterek oluşturulacak sayı örüntüsünün 4. adımındaki sayı kaçtır?

- F) 105 B) 110
C) 90 D) 100

4)

9	11	11	14
15	13	20	17
14	19	13	17
K	24	L	21

Yukarıdaki örüntünün kuralına göre $K + L$ 'nin toplamı kaçtır?

- A) 44 B) 64
C) 54 D) 34

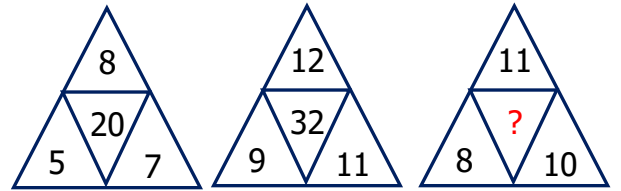
5)

muz	→	9
armut	→	15
şeftali	→	?

Yukarıdaki sözcüklerin harf sayıları ile okla gösterilen sayılar arasında bir ilişki vardır.

Buna göre "?" işareti ile gösterilen yere hangi sayı yazılmalıdır?

- A) 18 B) 21 C) 24 D) 24



7) Yukarıdaki örüntüde "?" gösterilen yere hangi sayı gelmelidir ?

- E) 19 B) 26
C) 29 D) 32