

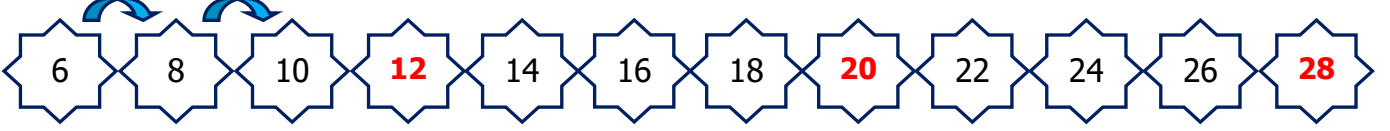


Adı Soyadı :

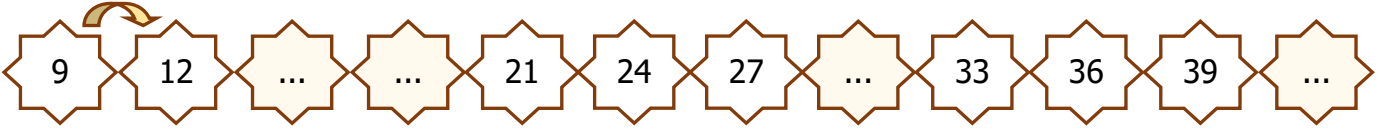
Numarası :

Konu: Sayı Örüntüleri

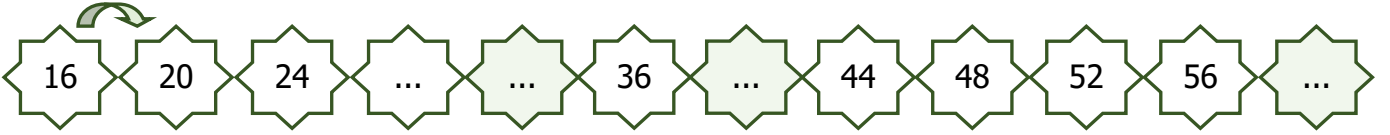
Aşağıdaki sayı örüntülerini örnekte verildiği gibi tamamlayınız. Örüntülerin kuralını yazınız.



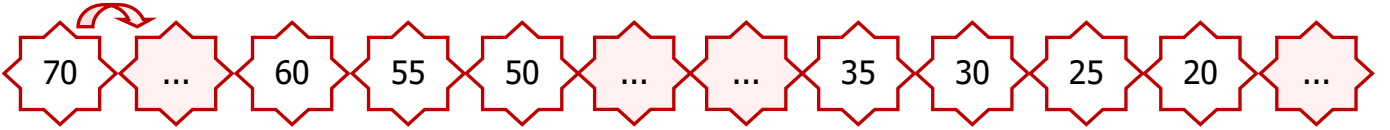
Örüntünün Kuralı: Sayılar ikişer artıyor.



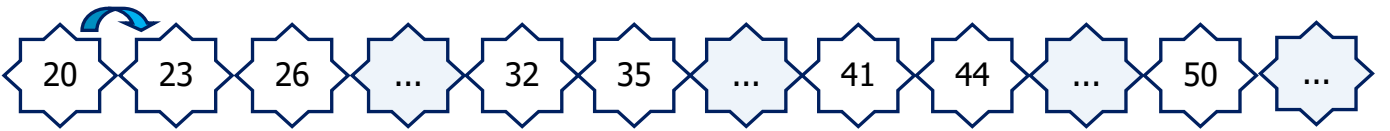
Örüntünün Kuralı:



Örüntünün Kuralı:



Örüntünün Kuralı:

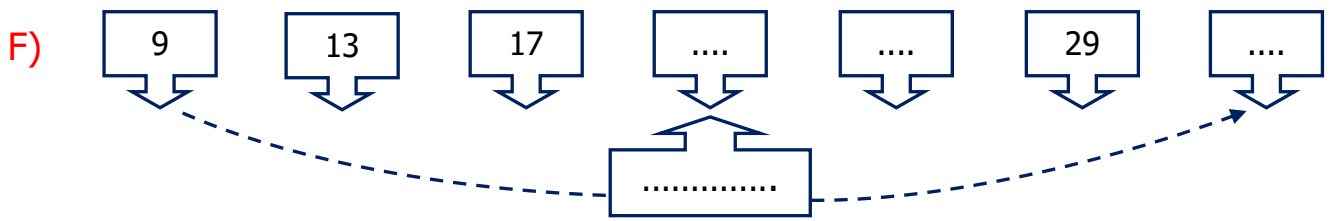
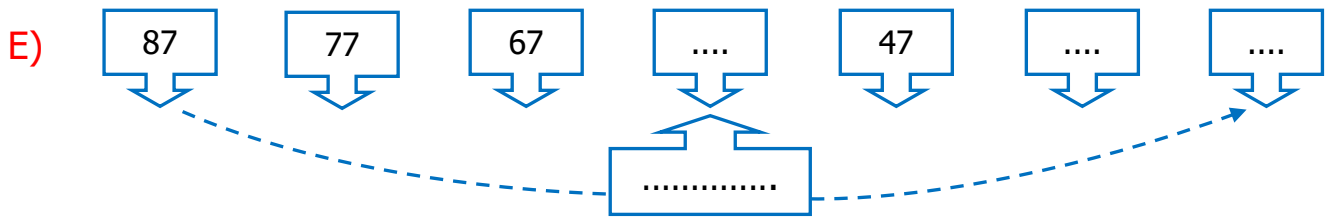
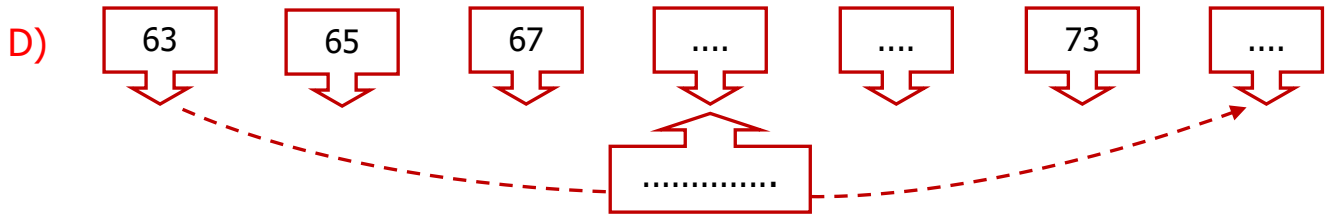
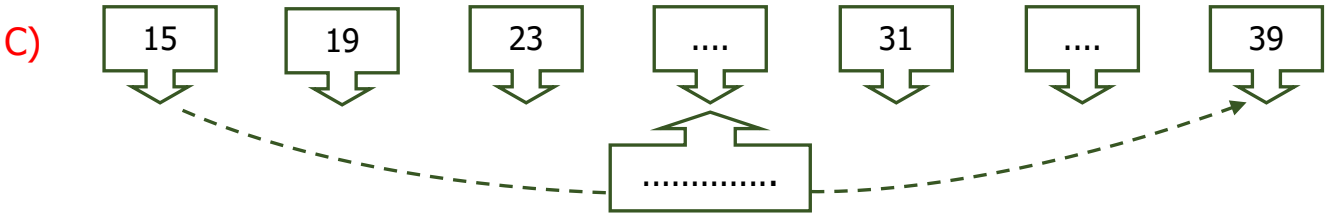
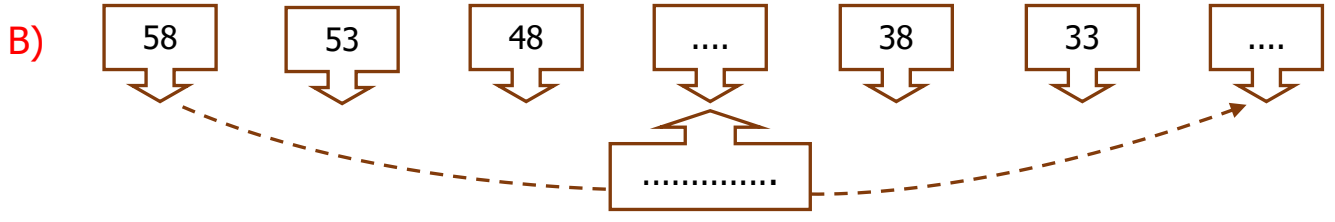
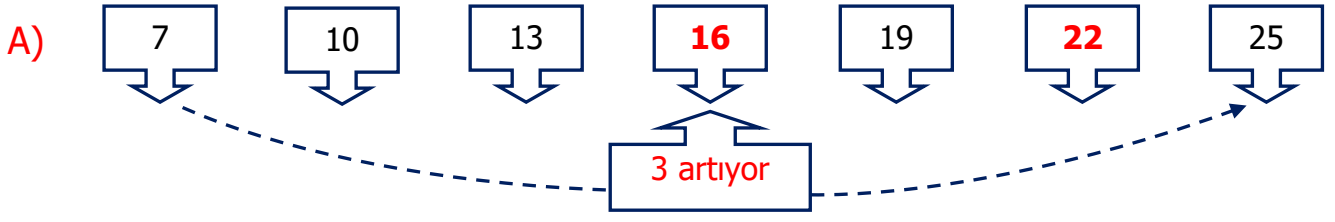


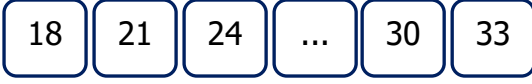
Örüntünün Kuralı:



Örüntünün Kuralı:

Aşağıdaki örüntülerde kuralını bulup, örnekteki gibi verilmeyen sayıları yazınız.





1) Yukarıdaki örüntüde boş bırakılan yere hangi sayı gelmelidir?

- A) 25 B) 27 C) 29

2) 12'den başlayarak ileriye doğru üçer ritmik sayma yaptığımızda söylediğimiz 4. sayı kaçtır?

- A) 28 B) 32 C) 36

3) Aşağıdaki örüntülerin hangisinde hata yapılmıştır?

A) 7 9 11 13 15

B) 20 24 28 32 36

C) 9 14 19 23 29

4) Sayılar üçer üçer azalmıştır.

Aşağıdaki örüntülerden hangisi yukarıdaki kurala göre düzenlenmiştir?

A) 26 – 29 – 32 – 35 – 38

B) 30 – 27 – 24 – 21 – 18

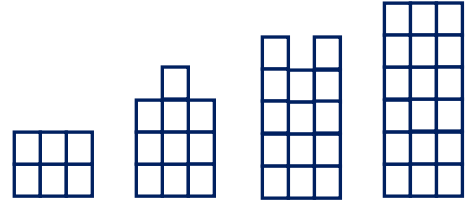
C) 28 – 30 – 32 – 34 – 36

5) 85 80 75 70 65 55

Yukarıdaki örüntüde kuralı bozan sayı hangisidir?

- B) 75 B) 65 C) 55

6)



Yukarıda şekillerle modellenen sayı örüntüsü hangisidir?

A) 7 – 11 – 15 – 19

B) 6 – 10 – 14 – 18

C) 6 – 9 – 12 – 15

7)

7 – 12 – – 22 – 27 – – 37

Yukarıdaki örüntüde ve yerine hangi sayılar gelmelidir?

A) 17 – 32

B) 16 – 32

C) 17 – 33

8)



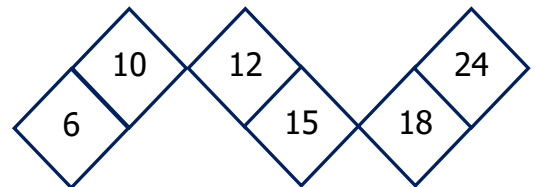
Yukarıdaki sayı örüntüsünün kuralı hangi seçenekte doğru verilmiştir?

A) Sayılar üçer azalarak sıralanıyor.

B) Sayılar dörder azalarak sıralanıyor.

C) Sayılar dörder artarak sıralanıyor.

9)



Yukarıdaki sayılardan hangileri hem üçer hem de dörder sayarken söylediğimiz ortak sayılardır?

A) 10 – 15

B) 6 – 18

C) 12 – 24