

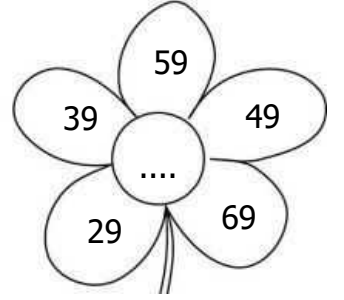

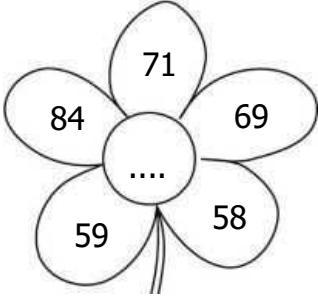
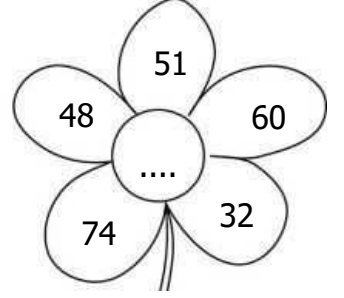
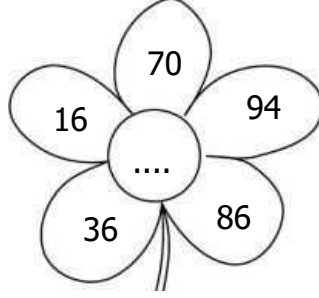
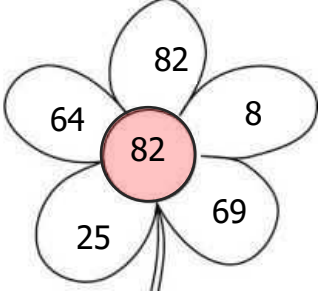


Adı Soyadı :

Numarası :

Konu: Doğal Sayıları Karşılaştırma ve Sıralama

Çiçeklerin yapraklarında verilen sayılardan büyük olan sayıyı yaprakların orta kısmına örnekteki yazarak pembe rengi boyayınız.



Aşağıdaki sayıları küçükten büyüğe doğru sıralayalım.

48	25	73	60
.....,,,			

11	52	9	84
.....,,,			

95	88	76	93
.....,,,			

20	32	18	16
.....,,,			

56	55	66	59
.....,,,			

15	19	49	55
.....,,,			

66	78	59	74
.....,,,			

40	53	43	73
.....,,,			

19	87	78	38
.....,,,			

Aşağıdaki karşılaştırmalarda noktalı yerlere "büyüktür, küçüktür veya eşittir" ifadelerinden uygun olanı örnekteki gibi yazınız.

✦ 17 23'ten

✦ 74 69'dan

✦ 81 69'dan

✦ 65 65'e

✦ 53 53'e

✦ 33 23'ten

✦ 72 56'dan

✦ 80 79'dan

✦ 36 44'ten

✦ 42 50'den

✦ 86 90'dan

✦ 90 91'den

✦ 19 13'ten

✦ 64 62'den

✦ 28 28'e

✦ 55 44'ten

İstenilen sayıların kutularını boyayalım.

45 ile 53 arasında

23 ile 30 arasında

37 ile 44 arasında

61 ile 65 arasında

18 ile 26 arasında

81 ile 88 arasında

70 ile 76 arasında

93 ile 96 arasında

58 46 79 34

1) Yukarıda verilen sayılar hangi seçenekte küçükten büyüğe doğru sıralanmıştır?

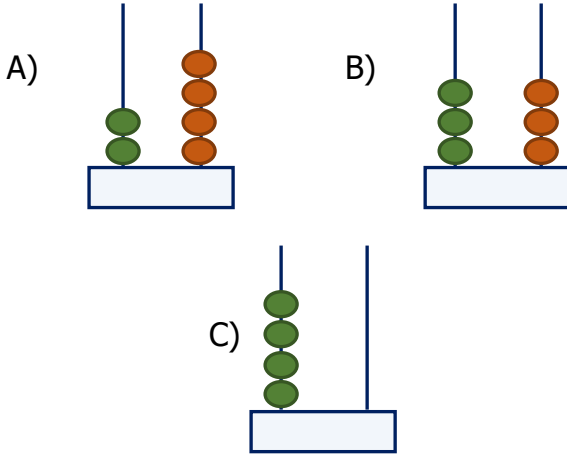
- A) 58, 79, 46, 34
B) 79, 58, 46, 34
C) 34, 46, 58, 79

2) sayısı 72'den büyük, 85'ten küçüktür.

Yukarıdaki noktalı yere hangi seçenekteki sayı gelmelidir?

- A) 71 B) 84 C) 86

3) Abaküste gösterilen sayılardan hangisi en büyüktür?



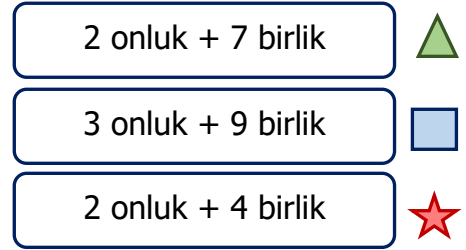
4) 38, 41, 87, 54 sayılarını büyükten küçüğe doğru sıralarsak üçüncü sayı kaç olur?

- A) 87 B) 41 C) 54




5) Aşağıdaki karşılaştırmalardan hangisi doğrudur?

- A) 38 büyüktür 44'ten
B) 68 küçüktür 72'den
C) 89 büyüktür 90'dan

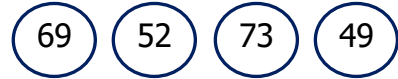
6)



Yukarıda verilen sayılardan hangisi en küçüktür?

- A)  B)  C) 

7)



Yukarıdaki sayıları küçükten büyüğe doğru sıraladığımızda baştan 2. sayı hangisi olur?

- A) 52 B) 49 C) 69

8)

95 - 88 - 74 - ? - 59

Yukarıda büyükten küçüğe doğru yapılan sıralamada "?" yerine hangi sayı getirilemez?

- A) 76 B) 70 C) 63