



Adı Soyadı :

Numarası :

Konu: Birey ve Toplum Ünite Değerlendirme Etkinliği

1) Aşağıdakilerden hangisi resmi kimlik kartımızda yer almaz?

- A) T.C. kimlik numarası
- B) Ev adresimiz
- C) Doğum tarihi
- D) Son geçerlilik tarihi

2) Fiziksel özelliklerle ilgili aşağıdakilerden hangisi doğru değildir?

- A) Fiziksel özelliklerimiz farklılık gösterebilir.
- B) Fiziksel özellikler zamanla değişebilir.
- C) Fiziksel özelliklerimiz dışarıdan anlaşılabilir.
- D) Güler yüzlü olmak fiziksel özelliğimizdir.

3) Aşağıdakilerden hangisi her insanda mutlaka farklıdır?

- A) Saç rengi
- B) Parmak izi
- C) Ten rengi
- D) Ayakkabı numarası




4) I. 2013 yılında ortaokula başladım.
II. 2009 ilkokula başladım.
III. 2010 okulun yüzme takımına seçildim.
IV. 2002 yılında doğdum.

Yukarıdaki olayların kronolojik sıralamasının doğru olması için hangilerinin yer değiştirmesi gerekir?

- A) I ve II
- B) I ve III
- C) I ve IV
- D) II ve III

5) Aşağıdakilerden hangisinde diğer bireylere karşı saygılı olduğundan söz edilemez?

- A) Ali, kendinden daha yetenekli arkadaşlarını beğenir.
- B) Murat, farklı düşüncede olan arkadaşını konuşmasını alkışladı.
- C) Halil, arkadaşlarının fikirlerine önem verir.
- D) Osman, farklı düşüncede görüş belirten arkadaşını konuşmasını dinlemedi.

6)  neşeli olmak
 İyimser olmak
 Uzun boylu olmak
 Sabırlı olmak

Yukarıdaki sembollerden hangisi duygusal özellikleri belirtmez?

- A) 
- B) 
- C) 
- D) 

Ömer, yazın köye gitmeyi dört gözle bekliyor. Köydeki gölde hem balık tutuyor hem de gölde yüzüyor.

7) Yukarıdaki paragrafa göre Ömer'le ilgili hangi konuda bilgi verilmiştir?

- A) İlgi alanları
- B) Fiziksel özellikleri
- C) Yetenekleri
- D) Duygusal özellikleri

8) Aşağıdakilerden hangisinde farklı bir özellikten bahsedilmiştir?

- A) Veli, çok güzel keman çalar.
- B) Furkan'ın gözleri mavidir.
- C) Davut, güzel resim yapar.
- D) Osman, iyi satranç oynar.

9) Aşağıdakilerden hangisi hoşgörüyü örnekler?

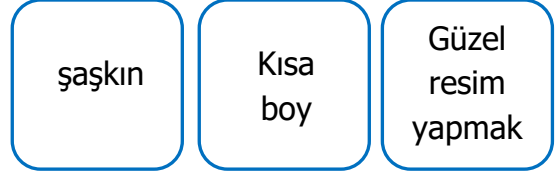
- A) Size haksızlık yapan kişiye kızmak.
- B) Size haksızlık yapan kişiye küsmek.
- C) Size haksızlık yapan kişiye bağışlamak.
- D) Size haksızlık yapan kişiyle konuşmaya çalışmak.

10) Kronolojik bilgilerden faydalanarak aşağıdakilerden hangisine ulaşılmaz?

- A) Hangi mesleği seçeceğimize
- B) Doğum tarihimize
- C) İlkokulu ne zaman bitirdiğimize
- D) Olayları oluş sırası

11) Aşağıdaki ifadelerden hangisi empatiye örnek olabilir?

- A) Yaramazlık yapan çocuklara kızmak.
- B) Yaşlı bir adamın yerine kendimizi koyarak ona yardım etmek.
- C) Parktaki çocuklara misket vermek.
- D) Komşumuzun köpeği hastalanınca veterinerine götürmek.



12) Yukarıda verilen özelliklerin sırası ile ifade edildiği hangi seçenekte verilmiştir?

- A) Duygusal özellik – Fiziksel özellik – ilgi alanı
- B) Fiziksel özellik – Yetenek – Fiziksel özellik
- C) Duygusal özellik – Fiziksel özellik - Yetenek
- D) Yetenek – Fiziksel özellik – İlgi alanı

13) Resmi kimlik kartımız kaybolduğunda yeniden nereden alabiliriz?

- A) Emniyet Müdürlüğü
- B) Milli Eğitim Müdürlüğü
- C) Nüfus Müdürlüğü
- D) Belediye

14) "Öğretmeni Alper'in çok iyi taklit yapma becerisi olduğunu fark etmiştir. "

Buna göre öğretmeni Alper'i okuldaki etkinliklerden hangisine yeteneği bakımından yönlendirmelidir?

- A) Okul korosuna B) Tiyatro kulübüne
- C) Satranç kulübüne D) Çevre kulübüne

15) 15 yaşından sonra kimlikte bulunması gereken değişiklik hangisidir?

- A) Seri no B) Fotoğraf
- C) T.C. kimlik numarası D) Uyuğu