



Adı Soyadı : .....

Numarası : .....

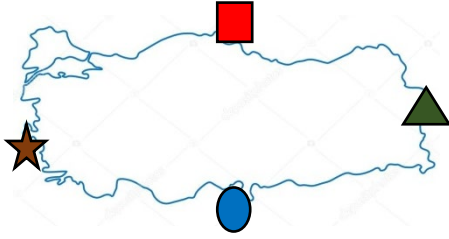
Konu: Yer Kabuğu ve Dünya'mızın Hareketleri Ünite Değerlendirme Etkinliği

- 1) I.Yer kabuğu Dünya'nın en dış katmanıdır.  
II.Kayaçlar mineral, kaya ve taşlardan oluşur.  
III.Yer kabuğunun kalınlığı Dünya üzerinde her yerde aynıdır.

Yukarıdaki ifadelerden hangileri doğrudur?

- A) Yalnız I      B) I ve II  
C) II ve III      D) I, II ve III

2)



Yukarıdaki Türkiye haritasında sembollerle gösterilen yerlerin hangisine Güneş daha erken doğar?

- A)       B)   
C)       D) 

3) Fosiller aşağıdakilerden hangisinde görülmez?

- A) Deniz  
B) Bataklı  
C) Göl  
D) Magma

4)

Demir

Uzay sanayi ve askeri amaçlı kullanılır.

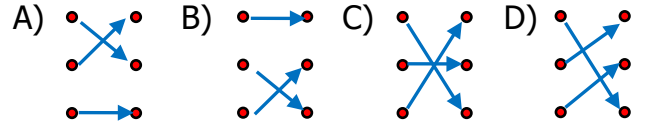
Bor

Binalarda ve inşaatlarda kullanılır.

Bakır

Elektrik ve elektronik sanayisinde kullanılır.

Yukarıda verilen maddeler ve kullanım alanları eşleştirildiğinde hangi şekil oluşur?



5) Mevsimler, aşağıdaki olayların hangisinin sonucunda oluşur?

- A) Ay'ın Güneş'in ve Dünya'nın etrafında dolanmasının  
B) Dünya'nın kendi etrafında dönmesinin  
C) Dünya'nın Güneş etrafında dolanmasının  
D) Güneşin kendi etrafında dönmesinin

6)

Kayaçların birbirinde farklı olmasını sağlayan yapılara ..... denir.

Yukarıdaki ifadede noktalı yere hangi sözcük gelmelidir?

- A) maden      B) mineral  
C) fosil      D) yer kabuğu

7) Güneş'in gün boyunca gökyüzünde farklı yerlerde görünmesinin nedeni aşağıdakilerden hangisidir?

- A) Dünya'nın kendi etrafında dönmesi
- B) Dünya'nın Güneş etrafında dolanması
- C) Ay'ın hem Dünya'nın hem de Güneş'in etrafında dolanması
- D) Güneş'in kendi etrafında dönmesi

8) 

fil
-----

ağaç
------

insan
-------

Yukarıda verilen varlıkların hangilerinin fosili oluşabilir?

- A) ■
- B) ▲ ★
- C) ★ ■
- D) ▲ ■ ★

9) Dünya kendi etrafında ..... doğru döner.

Yukarıdaki ifadede noktalı yere aşağıdakilerden hangisi yazılmalıdır?


- A) doğudan batıya
- B) kuzeyden güneye
- C) batıdan doğuya
- D) güneyden kuzeye

10) Uçak ve otomobil sanayisi ve inşaat gibi alanlarda kullanılır.

Yukarıda bilgileri verilen maden hangisidir?

- A) demir
- B) alüminyum
- C) krom
- D) gümüş

11)



"Gece ve gündüz oluşumu ile ilgili görsel anlatım yapılacaktır.

Buna göre güneş kaç numaralı bölgeye konulmalıdır?

- A) 1
- B) 2
- C) 3
- D) 4

12) Fosiller incelendiğinde hangi konu hakkında bilgi edinemeyiz?

- A) Gelecekteki iklim değişiklikleriyle ilgili
- B) Dünyanın geçmişiyle ilgili
- C) Kayaçların kaç yıllık olduğuyla ilgili
- D) Geçmişteki canlı türleriyle ilgili

13) I. Güneşin etrafında dolanır.

II. İki çeşit hareketi vardır.

III. Kendi etrafında dönüşünü 24 saatte tamamlar.

Yukarıdaki ifadeler hangi gök cismine aittir?

- A) Ay
- B) Dünya
- C) Güneş
- D) Maden

14) Aşağıdakilerden hangisi maden değildir?

- A) Linyit
- B) Kömür
- C) Mermer
- D) Çakıl