

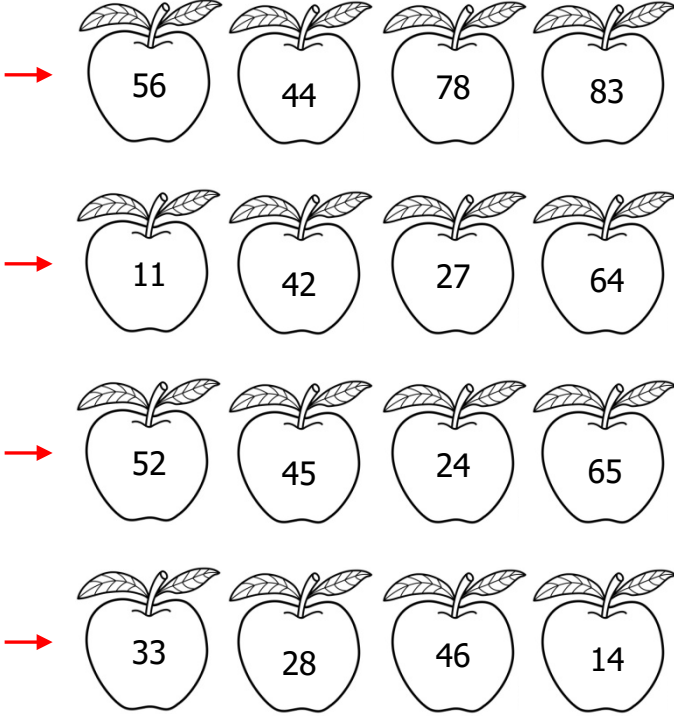


Adı Soyadı : .....

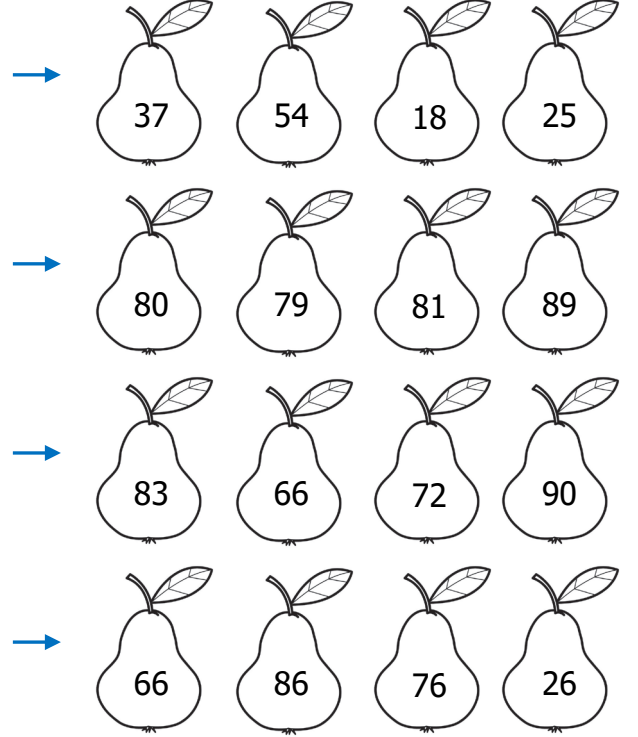
Numarası : .....

Konu: Doğal Sayıları Karşılaştıralım ve Sıralayalım


Üzerinde en büyük sayının yazdığı elmayı boyayınız.



Üzerinde en küçük sayının yazdığı armudu boyayınız.



Aşağıdaki görsele göre, cümlelerdeki noktalı yerleri tamamlayınız.



Aşağıdaki görsele göre, cümlelerdeki noktalı yerleri tamamlayınız.

Ali koşu yarışmasında ..... sırada olduğuna göre Mert ..... sıradadır.

Ece koşu yarışmasını ..... sırada tamamlamıştır.

Emre, Mert'i geçerse yarışmada ..... sıraya gelmiş olur.

Azra, Ali'yi geçerse Ali ..... sıraya geriler.

Emre önündeki üç yarışmacıyı geçerse ..... sıraya gelmiş olur.

Aşağıdaki sayılardan küçük sayılar yazınız.

→ 36

→ 62

→ 19

→ 98

Aşağıdaki sayılardan büyük sayılar yazınız.

→ 82

→ 45

→ 53

→ 76

İstenilen sayıyı belirleyip noktalı yerlere yazınız.

29

34

37

30'dan sonra, 36'dan önce gelen sayı .....'tir.

53

47

57

48'den sonra, 56'dan önce gelen sayı .....'tür.

88

98

90

89'dan sonra, 95'den önce gelen sayı .....'dir.

Aşağıdaki doğal sayılardan bir önce ve bir sonra gelen doğal sayıları örnekteki gibi kutulara yazınız.

64 65 66

□ 60 □

□ 15 □

□ 21 □

□ 8 □

□ 93 □

□ 26 □

□ 39 □

□ 37 □

□ 77 □

□ 80 □

□ 42 □