



Adı Soyadı :

Numarası :

Konu: En Yakın Onluğa Yuvarlama

Mavi karedeki sayıları daha yakın olduğu onlukla örnekteki gibi eşleştiriniz.

23	20	46	40	35	30	54	50
	30		50		40		60

14	10	62	60	88	80	71	70
	20		70		90		80

Aşağıda verilen onluklara hangi sayıların yuvarlandığını örnekteki gibi yazınız.

30	50
25, 26, 27, 28, 29	31, 32, 33, 34
.....

20	40
.....
.....

70	90
.....
.....

Aşağıdaki doğal sayıların hangi onluğa yakın olduğunu bulalım. Örnekteki gibi boyayalım.

33	
30	40

57	
50	60

13	
10	20

65	
60	70


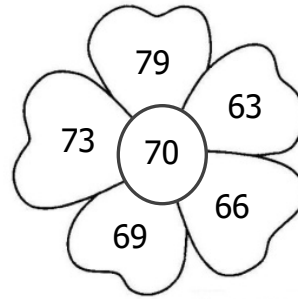
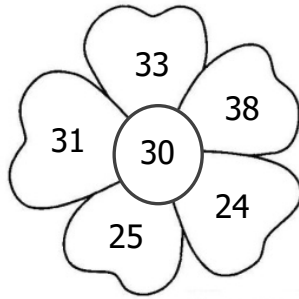
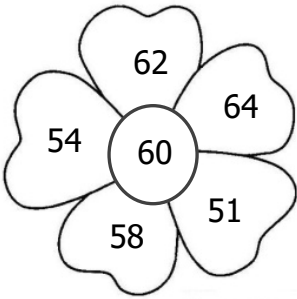

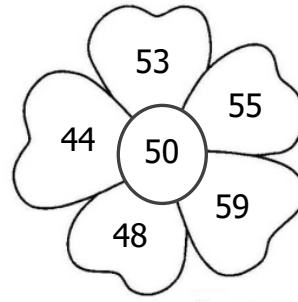

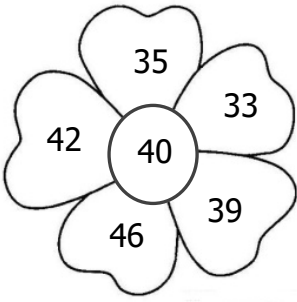
48	
40	50

72	
70	80

96	
90	100

84	
80	90

Aşağıdaki çiçeklerde verilen sayıları inceleyiniz. Ortadaki sayıya yuvarlanan sayıları boyayınız.



Aşağıdaki sayıları en yakın onluğa ile eşleştiriniz.

34

46

75

21

89

65

11

50

90

20

70

30

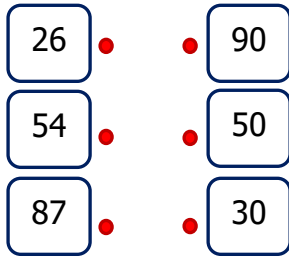
10

80

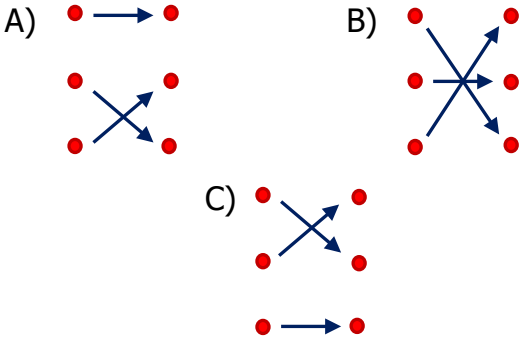
1) Hangi seçenekteki sayıların hepsi 30'a yuvarlanır?

- A) 24, 28, 34
B) 35, 25, 29
C) 31, 27, 34

2)



Yukarıdaki sayıları en yakın onluklarla eşleştirdiğimizde hangi şekil oluşur?



3) "72" sayısının en yakın onluğu hangisidir?

- A) 70 B) 80 C) 60

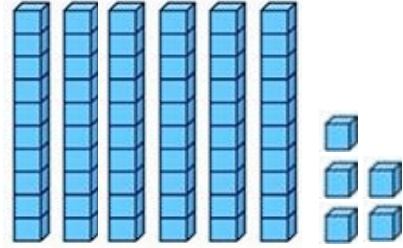
4) 4 birlik ve 6 onluktan oluşan sayı, hangi onluğa daha yakındır?

- A) 50 B) 60 C) 70

5) Aşağıdaki sayılardan hangisinin en yakın onluğu diğerlerinden farklıdır?

- A) 87 B) 94 C) 95

6)



Modeli verilen sayının en yakın onluğu hangisidir?

- A) 60 B) 70 C) 80

7) "35" sayısından bir önceki sayı ile bir sonraki sayı hangi onluklara daha yakındır?

- A) 30 ile 40 B) 40 ile 50 C) 69

8) 34, 35, 36, 38, 39, 41, 42, 43, 46

Yukarıdaki sayıların kaç tanesi 40'a yuvarlanır?

- A) 6 B) 7 C) 8

9) Aşağıdaki sayılardan hangisi 3 onluğa yakındır?

- B) 33 B) 35 C) 37