



Adı Soyadı :

Numarası :

Konu: Beş Duyumuz Ünite Değerlendirme

- 1) Özlem bahçedeki gülleri kopardı, kokladı ve sonra da gülleri annesine verdi.

Yukarıdaki ifadeye göre Özlem hangi duyu organlarını kullanılmıştır?

- A) Deri – Kulak - Burun
B) Göz – Deri - Burun
C) Göz – Burun - Dil

- 2) Aşağıdakilerden hangisi kulağın görevlerinden biri değildir?

- A) Dengemizi sağlamada görevli organımızdır.
B) Sesleri algılamamızı sağlar.
C) Varlıkların sıcak ve soğuk olduğunu hissettirir.

- 3) Çeşitli nedenlerle görme duyunu kaybetmiş insanlar kabartma yazılarla okurlar.” Yukarıdaki ifadeye göre bu durumdaki insanlar hangi duyu organını kullanarak okur?

- A) Deri B) Kulak C) Burun

- 4) Aşağıdakilerden hangisi derinin görevlerinden biri değildir?

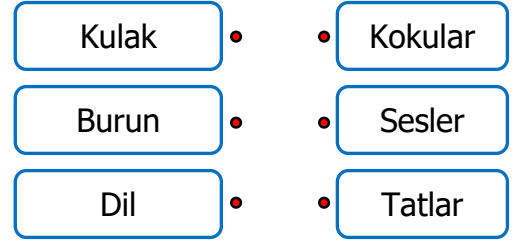
- A) Terleme ile zararlı maddeleri vücuttan dışarı atar.
B) Varlıkların yüzeylerinin pürüzlü mü pürüzsüz mü olduğunu algılar.
C) Besinleri acı ya da tatlı olduğunu anlar.

- 5) Yandaki görsele göre çocuk hangi duyu organlarını kullanmaktadır?

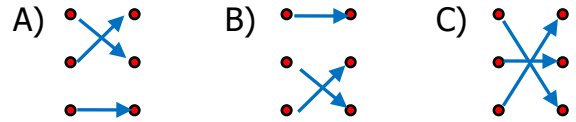
- A) Deri - Kulak
B) Kulak - Göz
C) Dil - Kulak



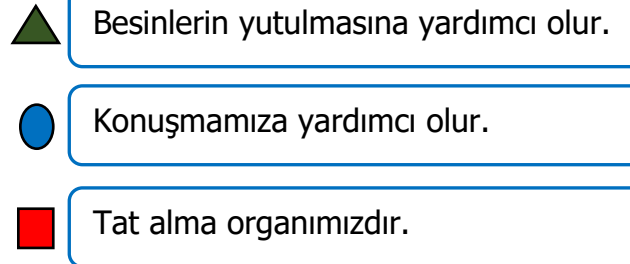
- 6)



Yukarıdaki verilenlerin eşleştirmesi nasıl olmalıdır?



- 7)



Yukarıda verilen ifadelerden hangileri dil ile ilgilidir?

- A) ▲ , ● B) ■ , ▲ C) ▲ , ● , ■

- 8) • Temizlik için sivri cisimler kullanmamalıyız.
• Uzun süreli yüksek sesle müzik dinlememeliyiz.
• Çok şiddetli seslerde ağzımızı açmalıyız.

Yukarıdaki verilen ifadeler hangi duyu organımızı korumaya yöneliktir?

- A) Deri B) Kulak C) Burun

9) Burnumuzla ilgili aşağıdakilerden hangisi yanlıştır?

- A) Çevremizdeki kokuları alırız.
B) Soluk alma organımızdır.
C) Varlıkların yumuşak ve sert olduğunu algılarız.

10) Duyu organlarımızla ilgili verilen ifadelerden hangisi yanlıştır?

- A) Varlıkları tanımak için dokunmamız yeterlidir.
B) Birden fazla duyu organımız birlikte çalışabilir
C) Tat alma ve koklama duyu organları birlikte çalışır.

11) Derimizle aşağıdakilerden hangisini algılayamayız?

- A) Sıcak B) Renk C) Yumuşak

12)

1.Tat	4.Soğuk
2.Koku	5.Şekil
3.Renk	6.Küçüklük

Yukarıda verilenlerden hangileri göz tarafından algılanır?

- A) 1, 2, 3 B) 3, 5, 6 C) 2, 4, 6

13) Aşağıdaki olayların hangisinde birden fazla duyu organı kullanılmıştır?

- A) Gök gürültüsüyle uyanmak
B) Ellimize kolonyaya dökmek
C) Duvardaki tabloya bakmak

14) Hangi durumda tat alma ve koku alma duyu organları bir arada çalışır?

- A) Bahçedeki çiçekleri koklarken
B) Annemin yaptığı üzümlü kekten yerken
C) Dürbünle kuşlara bakarken

15)



Bu oyunda nesnelere hangi duyu organı ile tanınabilir?

- A) Deri B) Kulak C) Burun