

# 1. ÜNİTE DEĞERLENDİRMESİ



Aşağıdaki soruları acele etmeden kontrol ederek yapınız. Soruların çözülmesinde ihtiyaç duymanız durumunda arkadaşlarınızdan veya öğretmeninizden yardım isteyiniz.

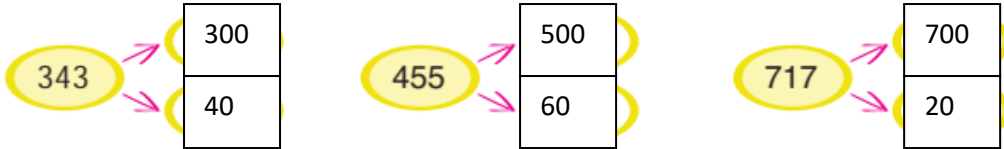
1. Aşağıdaki doğal sayıların okunuşlarını yazınız.

591 → ...	beşyüzdoksanbir	...	246 → ...	ikiyüzkırkaltı	.....
748 → ...	yediyüzkırksekiz	...	802 → ...	sekizyüski	.....

2. Aşağıdaki tabloda eksik bırakılan yerleri tamamlayınız.

Sayı	284		
Basamak Adı	Yüzler	Onlar	Birler
Rakamın Basamak Değeri	200	80	4

3. Aşağıdaki doğal sayıları en yakın onluklarına ve yüzlüklerine yuvarlayınız.



4. Aşağıdaki doğal sayıları karşılaştırıp sembol kullanarak büyükten küçüğe doğru sıralayınız.



5. Aşağıdaki toplama işlemlerinin sonuçlarının tek sayı mı, çift sayı mı olduğunu işlem yapmadan belirleyip işaretleyiniz.



6. Aşağıda verilen toplama işlemlerini yapınız.

$$\begin{array}{r} 587 \\ + 254 \\ \hline \end{array}$$

841

$$143 + 289 = 432$$

$$142 + 214 + 322 = 678$$

$$\begin{array}{r} 138 \\ 142 \\ + 315 \\ \hline \end{array}$$

595

7. Aşağıdaki çoktan seçmeli soruların doğru cevaplarını işaretleyiniz.

a. İleriye doğru altışar ritmik sayılırken 36'dan sonra söylenen sayıda kaç onluk vardır?

A) 3 onluk

B) 4 onluk

C) 5 onluk

b. 7'den başlayarak ileriye doğru yedişer ritmik sayılırken sekizinci saymada hangi sayı söylenir? (7 dâhil)

A) 56

B) 49

C) 42

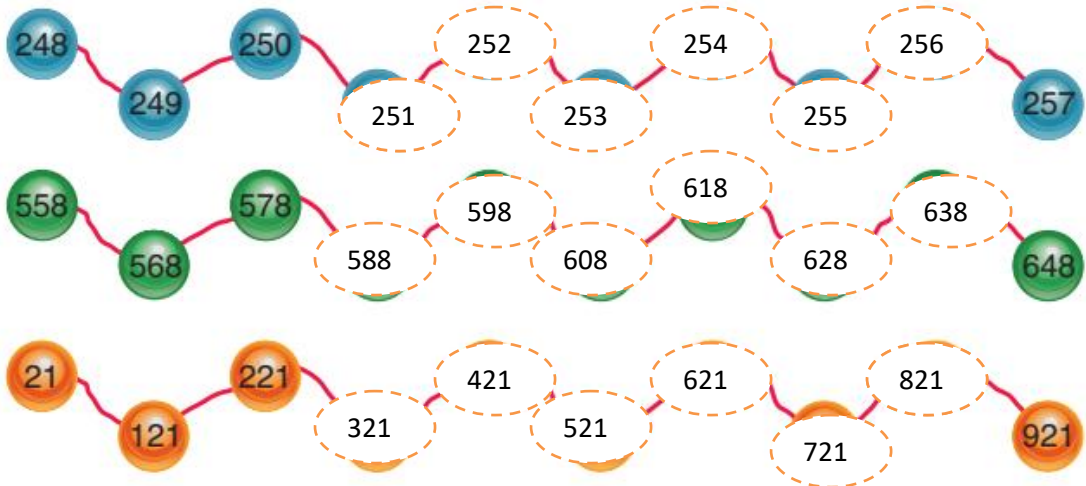
c. İleriye doğru sekizer ritmik sayılırken 56'dan önce hangi sayı söylenir?

A) 72

B) 64

C) 48

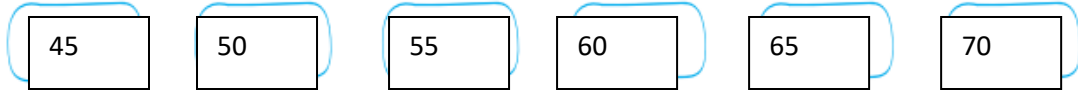
8. Boncuklar üzerindeki ritmik saymaları devam ettiriniz.



9. Aşağıdaki işlemleri yapınız. İşlemlerin sonuçlarını karşılaştırınız.

$$(219 + 248) + 195 = 662 \quad 219 + (248 + 195) = 662$$

10. İlk adımı 45 olan ve her adımda bir önceki adımdaki sayı 5 artan bir sayı örüntüsünün ilk 6 adımını oluşturunuz.



11. Aşağıdaki sayı örüntüsünü, örüntünün kuralına uygun olarak 3 adım genişletiniz.



12. Aşağıdaki sayılardan hangisi çift doğal sayıdır?

A) 41

B) 42

C) 43

13. Sayfa numaraları Romen rakamlarıyla yazılan bir kitabın 18. sayfasında aşağıdaki sayfa numaralarından hangisi yazar?

A) XX

B) XIX

C) XVIII

14. Aşağıdaki çıkarma işlemlerini yapınız.

$$\begin{array}{r} 480 \\ - 150 \\ \hline 330 \end{array} \quad \begin{array}{r} 640 \\ - 234 \\ \hline 406 \end{array} \quad \begin{array}{r} 196 \\ - 154 \\ \hline 42 \end{array} \quad \begin{array}{r} 326 \\ - 145 \\ \hline 181 \end{array}$$

15. Aşağıdaki çıkarma işlemlerini, zihinden çıkarma işlemi yöntemlerini kullanarak yapınız. Kullandığınız yöntemi açıklayınız.

$$700 - 60 = 640 \quad 46 - 10 = 36 \quad 84 - 50 = 34$$

700 den 60 ı çıkardık.Sonuç 640 oldu.

40 dan 10 u çıkardık daha sonra 6 ekledik. Sonuç 36 oldu.

80 den 50 yi çıkardık daha sonra 4 ekledik sonuç 34 oldu.