

SORULAR

fosil	yörünge	365	karbonhidratlar	israf
tarihlerine	maden	gece-gündüz	bor	

A) Aşağıdaki noktalı yerlere uygun sözcükler yazarak cümleleri tamamlayınız.(2'şer Puan)

- Dünya'nın kendi etrafındaki hareketi sonucuoluşur.
-, öncelikli görevi vücudumuza enerji vermektir
- Dünya, Güneş etrafındaki dolanımınıgünde tamamlar.
- Geçmişte yaşamış canlıların taşlaşmış kalıntı ve izlerine adlandırılır.
- Dünya'nın Güneş etrafındaki hareketi sırasında izlediği yoladenir.
- Dondurulmuş ve paketlenmiş ürünlerin üretim ve tüketim dikkat etmeliyiz.
- Yer kabuğunun derinliklerinde bulunan ve ekonomik değeri olan kayalara denir.
- Sağlıklı ve dengeli beslenme alışkanlığı kazanırken besinler edilmemelidir.
-, madeni ülkemizde en çok bulunan madenlerden biridir.Uzay teknolojisi, askeri sanayi, tıpta ve elektrik sektöründe kullanılmaktadır.

B) Aşağıdaki cümlelerin başına doğru ise "D", yanlış ise "Y" yazınız.(2'er Puan)

- () Dünya'nın Güneş etrafında dolanımı sonucu mevsimler oluşur.
- () Kemikler, dişler ve kabuklar fosil kalıntılardır.
- () Karbonhidratların öncelikli görevi vücudumuza enerji vermektir.
- () Fosiller sadece karalarda bulunur.
- () Katkı maddeli yiyecekler tercih edilmelidir.
- () Dünyanın kendi etrafında dönmesinden gece gündüz oluşur.
- () Yağlar düzenleyici olarak görev yapar bizi hastalıklardan korur.
- () Fosillerin günümüzde yaşayan canlı kalıntılarından oluşur.
- () Dünya kendi ekseninde doğudan batıya doğru döner.
- () Besinleri güvendiğimiz marketlerden ve güvenilir firmaların ürünlerini almalıyız.

C) Aşağıdaki cümleleri uygun sözcüklerle eşleştiriniz.(3'er Puan)

- Taş, kaya ve toprakların farklı renklerde olmasını sağlar.
- Vücudumuzda öncelikli görevi yapım ve onarımdır.
- Yer kabuğunun en üst katmanını oluşturur.
- Dünyamızın kuzey ve güneyin noktalarında bulunurlar.

kutuplar

protein

mineral

kayaçlar

1) Aşağıdaki bilgilerden hangisi yanlıştır? (5 puan)

- A) Gece ve gündüz Dünya'nın kendi etrafında dönmesiyle oluşur.
- B) Dünya, Güneş'in etrafını 24 saatte dolandır.
- C) Dünya batıdan doğuya doğru dönmektedir.
- D) Mevsimler Dünya'nın Güneş etrafında dolanmasıyla oluşur.

2) Fosillerle ilgili verilen ifadelerden hangisi yanlıştır? (5 puan)

- A) Geçmişte yaşamış canlı kalıntılarıdır.
- B) Geçmişte yaşamış canlılar hakkında bilgiler edinebiliriz.
- C) Fosiller yalnızca hayvan kalıntılarında ibarettir.





3) I. Büyümeyi ve gelişmeyi sağlar.

II. Vücudumuzdaki hasarların onarılmasını sağlar.

III. Et, süt, yumurta ve balıkta bolca bulunur.

Yukarıda anlatılan besin içeriği hangisidir? (5 puan)

- A) Karbonhidratlar B) Yağlar
- C) Proteinler D) Mineraller

4)  Diş  Ot
 Kemik  Kabuk (5 puan)

Yukarıdakilerden hangisi canlı kalıntısı olamaz?

- A)  B)  C)  D) 

5) Güneşin gün içinde sürekli yer değiştirdiğini görürüz. Bunun sebebi aşağıdakilerden hangisidir? (5 puan)

- A) Dünyanın kendi eksenini etrafında dönmesinden
- B) Dünya'nın Güneş etrafından dolanmasından
- C) Dünya'nın çok çabuk dönmesinden
- D) Dünya'nın kutuplardan basık olmasından

6), deri altında depo edilerek vücudu darbelerle karşı korumakla görevlidir.

Yukarıdaki noktalı yere hangi sözcük yazılmalıdır? (5 puan)

- A) Karbonhidratlar B) Yağlar
- C) Proteinler D) Mineraller

7) Aşağıdakilerden hangisi yanlıştır? (5 puan)

- A) Güneş'in etrafında Dünya, Ay ile birlikte dolandır.
- B) Dünya'nın iki türlü hareketi vardır.
- C) Dünya en kısa dönüşü 365 gün 6 saattir.
- D) Güneş, Dünya'nın etrafında dönmez.

I. Fosiller deniz ve göllerin tabanında da bulunur.

II. Kayaçlar taş ve toprakların oluşumunu sağlar.

III. Madenler toprak altından çıkarıldığı gibi kullanılır.

8) Yukarıdaki ifadelerden hangisi veya hangileri doğrudur? (5 puan)

- A) Yalnız I B) II ve III
- C) I ve II D) I, II ve III

9) Aşağıdaki noktalı yerlere alacağımız bir üründe nelere dikkat etmemiz gerektiğini yazınız? (5 puan)

- 1)
- 2)
- 3)
- 4)

10) Daha çok uçak ve otomobil sanayisinde kullanılır.

Yukarıda anlatılan maden türü aşağıdakilerden hangisidir? (5 puan)

- A) alüminyum B) krom
- B) bakır D) demir