

3.Sınıflar 1.Dönem 1.Genel Değerlendirme Etkinliği ...../...../.....

Adı : .....

Soyadı : .....



Sınıfı : .....

Numarası: .....

- Ali, güzel resim çiziyor.
- Mehmet, gitar çalmaktan hoşlanıyor.
- Duygu, satrançta sürekli yeniliyor.

1) Yukarıdaki ifadelere göre hangi öğrencinin güçlendirilmesi gereken bir yönünden bahsediyor?

- A) Ali      B) Mehmet      C) Duygu

2) Aşağıdakilerden hangisi olumlu bir davranıştır?

- A) Arkadaşlarımıza karşı kırıncı konuşmak.  
B) Arkadaşlarımıza zor zamanlarda yardım etmek.  
C) Arkadaşlarımızın eşyalarını izinsiz almak.

3) Kroki ile ilgili verilen bilgilerden hangisi yanlıştır?

- A) Kroki çiziminde ölçek kullanılır.  
B) Kuş bakışı çizilir.  
C) Kroki üzerinde yönler belirtilir.

4) Aşağıdakilerden hangisi, okul kaynaklarının doğru kullanımına örnek olamaz?

- A) Sınıfı havalandırınca pencereleri kapatırım.  
B) Sınıf kapısını yavaş kapatırım.  
C) Muslukları sonuna kadar açarım.

- 5) • Meslek seçerken kişisel özelliklerimize göre seçmeliyiz.  
• Meslekler, ihtiyaçlardan doğmuştur.  
• Meslekle, toplumda iş bölümünü sağlar.

Yukarıda mesleklerle ilgili verilen ifadelerin doğru ve yanlış sıralaması hangi seçenektir?

- A) D      B) D      C) Y  
D      Y      D  
D      D      Y

6) Aşağıdakilerden hangisi okulun öğrencilere kazandırdığı olumlu davranışlardan biri değildir?

- A) Çevremizdeki insanlara saygılı olma  
B) Düzenli ve planlı olmayı kazandırma  
C) Otomobil kullanmayı öğretme

7) Aşağıdakilerden ifadelerden hangisi yanlıştır?

- A) Arkadaşlarımıza yardımcı olmalıyız.  
B) Bizim gibi düşünmeyen arkadaşlık yapmamalıyız.  
C) Arkadaşlarımıza karşı dürüst olmalıyız.

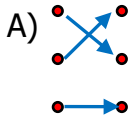
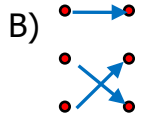
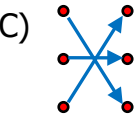
- 8) ▲ Toplumsal dayanışmayı artırmak.  
■ Çevremizdeki sorunlara duyarlı olmak.  
★ Sadece yakınlarımıza yardım etmek.  
Yukarıdaki ifadelerden hangisi sosyal yardımlaşma ve dayanışmanın amacı olamaz?

- A) ★      B) ■      C) ▲

- 9) 

sıska	•	•	ulus
merasim	•	•	tören
millet	•	•	zayıf

Yukarıdaki kelimeler eş anlamlılarıyla eşleştirildiğinde okların konumu nasıl olur?

- A)  B)  C) 

- 10) 

balık		balta		balina
-------	--	-------	--	--------

Yukarıdaki kelimeleri alfabetik sıraya koyarsak en sonda hangisi yer alır?

- A) balina B) balık C) balta

11) Aşağıdaki satır sonuna sığmayan kelimelerin hangisinin yazılışında yanlışlık yapılmıştır?

- A) .....te – le – viz - yon.....  
 B) ..... buz – dol - a - bı.....  
 C) ..... ye – mek - te - yiz.....

Yaz mevsiminde tarlayı ekmek için yüz çuval tohumu arabaya yükledik.

12) Yukarıdaki cümlede kaç tane eş sesli kelime vardır?

- A) 3 B) 4 C) 5

13) Aşağıdaki kelimelerden hangisinde kesme işareti yanlış kullanılmıştır?

- A) Mert, yarın Ankara'ya gidiyor.  
 B) Ceren'ler yarın bize gelecek.  
 C) Sinema 12.30'da açılıyor.

14) Aşağıdaki cümlelerin hangisinde yazım yanlış yapılmamıştır?

- A) Hasan, pikniğe gelecekmi?  
 B) 24 mart kardeşimin doğum günü.  
 C) Arif'in otuz beş tane misketi var.

15) Aşağıdaki cümlelerin hangisinde zıt anlamlı sözcükler bir arada kullanılmamıştır?

- A) Islak elbiseler balkonda hemen kurudu.  
 B) Dolaptan soğuk su içtiği için hasta oldu.  
 C) Çürük elmaları sağlam elmalardan ayırdı.

16) 

Öfkeyle kalkan zararlar oturur.
---------------------------------

Yukarıdaki atasözünüyle aynı anlama gelen atasözü hangidir?

- A) El elin eşeğini türkü söyleyerek arar.  
 B) Keskin sirke küpüne zarar.  
 C) Üzüm üzüme baka baka kararır.

17) Aşağıdaki cümlelerden hangisi duygu bildirir?

- A) Uçurtmama yeni bir kuyruk yaptım.  
 B) Dikkatsizliği yüzünden kaza yaptı.  
 C) Tatilde kardeşimi çok özledim.

18) 3 birlik ve 7 yüzlükten oluşan sayı aşağıdakilerden hangisidir?

- A) 377      B) 307      C) 703

19)

563

Yukarıdaki sayının yüzler ve birler basamağındaki rakamların basamak değerleri toplamı kaçtır?

- A) 503      B) 513      C) 523

20)

		Onluğa	Yüzlüğe
▲	121	120	100
■	563	560	600
★	455	450	400

Yukarıdaki sayılardan hangisi en yakın onluğa ve yüzlüğe yanlış yuvarlanmıştır?

- A) ▲      B) ■      C) ★

456 - 406 - 466 - 416

21) Yukarıdaki sayıların büyükten küçüğe doğru sıralanışı hangi seçenekte doğru verilmiştir?

- A) 456 > 416 > 466 > 406  
B) 466 > 456 > 416 > 406  
C) 466 > 426 > 406 > 456

22) Aşağıdaki çıkarma işlemlerinden hangisinin farkı en küçüktür?

- A)  $\begin{array}{r} 571 \\ - 383 \\ \hline \end{array}$       B)  $\begin{array}{r} 775 \\ - 598 \\ \hline \end{array}$       C)  $\begin{array}{r} 402 \\ - 187 \\ \hline \end{array}$

23)

302

445

616

549

1.      2.      3.      4.

Yukarıda verilen sayılardan kaçınıcı sıradaki sayılar tek sayıdır?

- A) 1.ve 2.      B) 1.ve 3.      C) 2. ve 4.

24)

18 - 26 - 34 - 42 - 50

Yukarıdaki örüntünün kuralı ile aynı kurala uygun örüntü hangisidir?

- A) 35 - 43 - 51 - 59 - 67  
B) 22 - 29 - 36 - 43 - 50  
C) 11 - 17 - 23 - 29 - 35

25)

XIX - VII = .....

Yukarıdaki işlemin sonucu kaçtır?

- A) 12      B) 13      C) 14

26) Aşağıdaki toplama işlemlerinden hangisinin sonucu farklıdır?

- A)  $\begin{array}{r} 543 \\ + 299 \\ \hline \end{array}$       B)  $\begin{array}{r} 489 \\ + 356 \\ \hline \end{array}$       C)  $\begin{array}{r} 678 \\ + 164 \\ \hline \end{array}$

27)



9 - 15 - 21 - 27 - 33



11 - 20 - 29 - 38 - 47



18 - 25 - 32 - 39 - 46

Yukarıdaki ritmik saymalardan hangisi 7'şer ritmik saymadır?

- A) 😊      B) ❤️      C) ★

28) Yapmış olduğu deniz yolculuğu ile Dünya'nın yuvarlak olduğunu kanıtlamıştır.

Yukarıda ifade edilen kişi kimdir?

- A) Magellan
- B) Aristo
- C) Biruni

- 29) • Düzenli banyo yapmalıyız.  
• Yaralandığımızda yaralı yeri pansuman yaptırmalıyız.  
• Güneşte uzun süre kalmamalıyız

Yukarıdaki ifadeler hangi duyu organımızın sağlığı için gereklidir?

- A) Göz
- B) Deri
- C) Kulak

30) Topacın yapmış olduğu hareket ...▲..., kale direğine çarpan top ...■... hareketi yapar

Yukarıdaki sembollerin yerine hangi sözcükler yazılmalıdır?



- A) Sallanma - Dönme
- B) Hızlanma - Yön Değişirme
- C) Dönme - Yön Değişirme

31) Hava katmanı Dünya'nın etrafını ince bir battaniye gibi sarar.

Yukarıdaki sözü edilen katmanın diğer adı hangisidir?

- A) Atmosfer
- B) Bulut
- C) Gökyüzü

32) Ela, çizgi film seyrederken aşağıdaki duyu organlarından hangisini kullanmaz?

- A) Göz
- B) Burun
- C) Kulak

33) 1.Rüzgarın ağacın yapraklarını sallaması  
2.Ali'nin kaykayı sürmesi  
3.Babamın duvardaki çiviye sökmesi  
Yukarıdaki ifadelerden hangileri itme kuvvetine örnektir?

- A) 1. ve 2.
- B) 1. ve 3.
- C) 2. ve 3.

34) Hep aynı noktaya giden bir uçağın kalktığı noktaya geri dönmesi hangisini ispatlar?

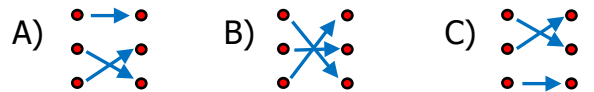
- A) Dünya'nın büyük olmasını
- B) Dünya'nın yuvarlak olmasını
- C) Ay'ın Dünya'nın etrafında dönmesini

35) Çok soğuk ve sıcak yiyecek ve içecek tüketmemeliyiz. • • Kulak

Yüksek sesli ortamlarda durmamalıyız. • • Dil

Uzun süre televizyon izlememeliyiz. • • Göz

Duyu organları ile bu organları sağlığını korumak için yapılan eşleştirme nasıl olmalıdır?



36) ✨ Hareket halindeki aracın sürücüsünün araç kontrolünü kaybetmesi  
➡ Uçurtmanın ağaca takılması  
⊖ Yokuş aşağı gelen bisikletin durdurulması

Yukarıda verilen ifadelerden hangileri tehlikeli bir durum yaratabilir?



- |       |       |       |       |
|-------|-------|-------|-------|
| 1) C  | 11) B | 21) B | 31) A |
| 2) B  | 12) A | 22) B | 32) B |
| 3) A  | 13) B | 23) C | 33) A |
| 4) C  | 14) C | 24) A | 34) B |
| 5) A  | 15) B | 25) A | 35) C |
| 6) C  | 16) B | 26) B | 36) B |
| 7) B  | 17) C | 27) C | 37)   |
| 8) A  | 18) C | 28) A | 38)   |
| 9) C  | 19) A | 29) B | 39)   |
| 10) C | 20) C | 30) C | 40)   |