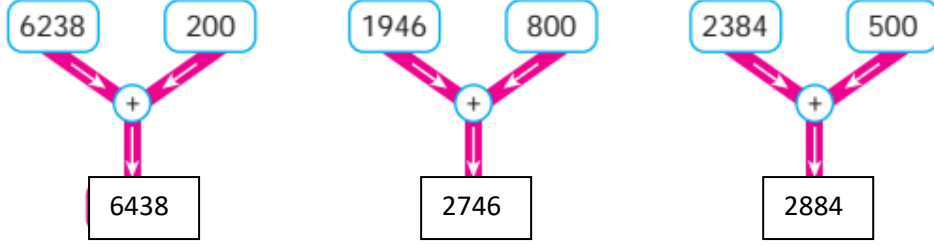
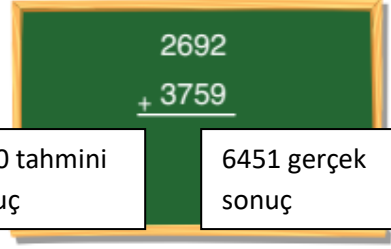


2. ÜNİTE DEĞERLENDİRMESİ

1. Şemalarda belirtilen işlemleri zihinden yapınız. Noktalı yerlere uygun sayıları yazınız.



2. Tahtadaki işlemin sonucunu tahmin ediniz. Tahmininizi, işlem sonucu ile karşılaştırınız. Tahmin ederken kullandığınız yöntemi açıklayınız.



En yakın onluğa yuvarlandı.

3. Bir ilçede 2640 yetişkin erkek, 2228 yetişkin kadın, 3020 çocuk yaşamaktadır. İlçede toplam kaç kişi yaşamaktadır?

$2640+2228+3020=7888$ kişi yaşamaktadır.

- 4.



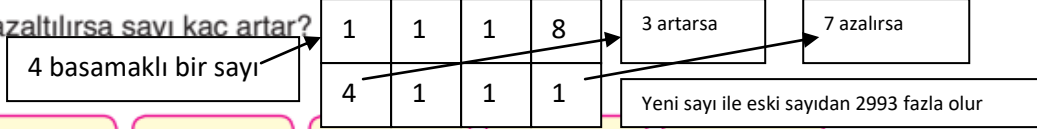
Nergis Hanım, Osmanlı İmparatorluğu Dönemi'nde yapılan, İstanbul'daki Topkapı Sarayı, Beylerbeyi Sarayı ve Yıldız Sarayı ile ilgili araştırma yapıyor. Araştırmasını yaparken üç ay boyunca sırasıyla aylık 1471, 2604 ve 3028 sayfa kitap okudu. Nergis Hanım, üç ay boyunca toplam kaç sayfa kitap okumuştur?

$1471+2604+3028=7103$ Sayfa Kitap okumuştur.

5. Tabloda verilen çıkarma işlemlerinin sonuçlarını önce tahmin ediniz. Sonra işlemleri yaparak tahminlerinizle, işlem sonuçlarını karşılaştırınız. Tabloyu tamamlayınız.

İşlem	Tahmin	İşlem Sonucu	Karşılaştırma
$\begin{array}{r} 2623 \\ - 1492 \\ \hline \end{array}$	2620-1500=1120	2623-1492=1131	Gerçek sonuç tahminden 11 fazladır.
$\begin{array}{r} 9320 \\ - 6608 \\ \hline \end{array}$	9300-6600=2700	9320-6608=2712	Gerçek sonuç tahminden 12 fazladır.
$\begin{array}{r} 6798 \\ - 3002 \\ \hline \end{array}$	9800-3000=6800	6798-3002=3796	Gerçek sonuç tahminden 4 eksiktir.
$\begin{array}{r} 7025 \\ - 2913 \\ \hline \end{array}$	7000-2900=4100	7025-2913=4112	Gerçek sonuç tahminden 12 fazladır.

6. Dört basamaklı bir sayının binler basamağındaki rakam 3 artırılıp birler basamağındaki rakam 7 azaltılırsa sayı kaç artar?



7. 825 2890 1320 Meyve Muz Kivi

Yukarıda verilenleri kullanarak toplama ve çıkarma işlemleri ile çözülebilecek bir problem kurunuz. Kurduğunuz problemi çözünüz.

Bir manavda 1320 kg muz, 2890 kg kivi bulunmaktadır. Manav daha sonra bu meyvelerden 825 kg satmıştır. Manavın elinde toplam kaç kg meyve kalmıştır.

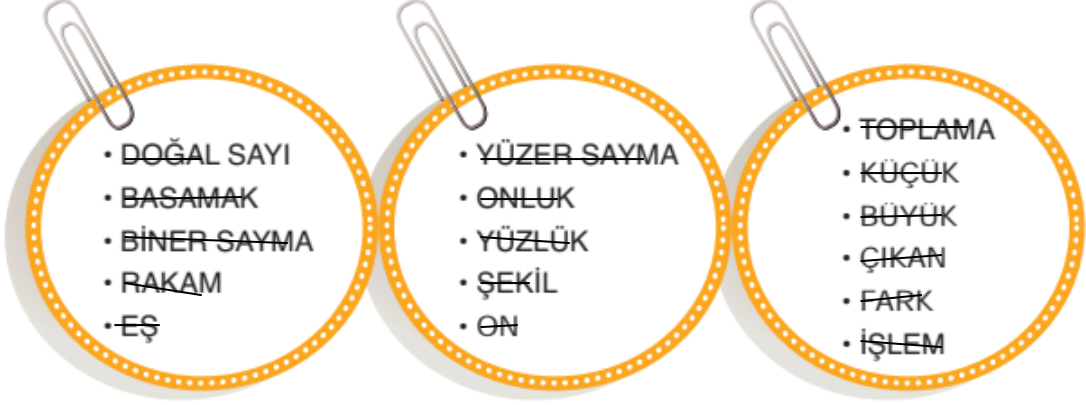
$$1320 + 2890 = 4210 \text{ kg}$$

$$4210 - 825 = 3385 \text{ kg meyve kalmıştır.}$$



Eğlence Zamanı

Verilen kelimeleri bulmacada boyayınız. Boyanmayan harfleri şifre kutucuklarına yan yana yazarak şifreyi bulunuz.



D	O	Ğ	A	L	S	A	Y	I	B
T	T	O	P	L	A	M	A	E	İ
F	A	R	K	B	Ç	I	K	A	N
B	A	S	A	M	A	K	R	İ	E
K	O	N	L	U	K	E	B	D	R
İ	K	İ	Ş	L	E	M	Ü	Y	S
Y	Ü	Z	E	R	S	A	Y	M	A
O	Ç	Ş	E	K	İ	L	Ü	R	Y
U	Ü	E	O	N	R	A	K	A	M
Z	K	Ş	Y	Ü	Z	L	Ü	K	A

Şifre: