







Adı Soyadı :

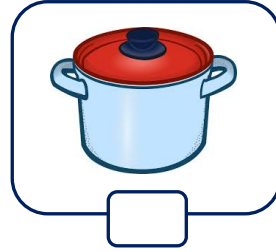
Numarası :

Konu: Sıvıları Ölçme Etkinliği 2

Aşağıdaki nesnelere sıvı olanların kutucuğuna (✓) işareti koyalım.



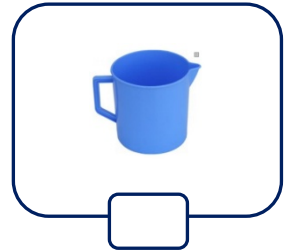
Aşağıdaki kaplara en fazla su alandan en az su alana doğru sıra numarası veriniz.



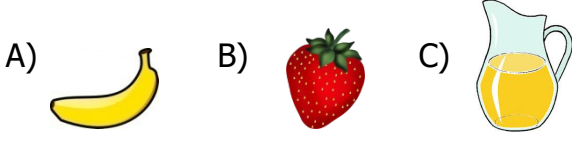
Aşağıdaki kaplara en az su alandan en fazla su alana doğru sıra numarası veriniz.



Aşağıdaki kaplara eşit miktarda birer bardak su koyunuz. Sıvı seviyelerini alçaktan yükseğe doğru numaralandırınız.



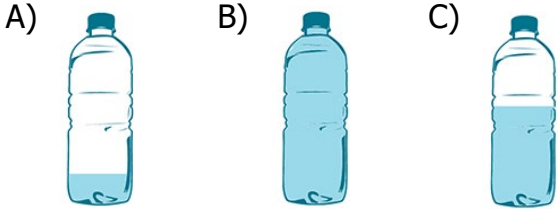
1) Aşağıdakilerden hangisi sıvılara örnek olabilir?



2) Aşağıdakilerden hangisi daha fazla sıvı alır?



3) Aşağıdakilerin hangisinde daha az su vardır?



4)



Yukarıdaki nesnelerin en çok sıvı alanından en az sıvı alana doğru sıralanışı hangisidir?

- A) 2 - 3 - 1
B) 1 - 2 - 3
C) 3 - 2 - 1

5)



Yukarıdaki bardak ile hangisini daha kısa sürede doldurabiliriz?



6)

- Kolonya
- Kek
- Zeytinyağı
- Ayran
- Elma

Yukarıdakilerden kaç tanesi bardak ile ölçülür?

- A) 2 B) 3 C) 4

7)



1 cezve kahve ile 4 fincan doldurulabiliyor.

Buna göre 12 fincan kahve elde etmek için kaç cezve gerekir?

- A) 2 B) 3 C) 4

8) Aşağıdaki ürünlerden hangilerinin tamamı sıvıdır?

- A) Su, bal, peynir
B) Ayran, sirke, limonata
C) Pekmez, ceviz, süt