

3.Sınıflar 1.Dönem 2.Genel Değerlendirme Etkinliği/...../.....

Adı :

Soyadı :



Sınıfı :

Numarası:

1) Aşağıdakilerden hangisi bilinçli tüketici davranışı olamaz?

- A) Satın aldığımız ürünlerin son kullanma tarihine bakmalıyız.
- B) Pahalı ürünleri tercih etmeliyiz.
- C) Yiyecekleri satın alırken kokusuna, rengine ve şekline dikkat etmeliyiz.

2) ★ Kroki çizerken kağıdın bir köşesine yön şeması koyabiliriz.

- Evimizin krokisini çizerken cadde, sokak ve binaları belirtiriz.

Yukarıdaki ifadeler için hangisini söyleyebiliriz?

- A) Yalnız ★ doğrudur.
- B) Yalnız ■ doğrudur.
- C) Her ikisi de doğrudur.

3) Hangisi kaynakları verimli kullanmak için yapabileceklerimizden biri değildir?

- A) Kullanılmayan elektrikli aletlerin fişini çekmek.
- B) Damlayan muslukları tamir etmek.
- C) Evdeki ışıkları hiçbir zaman yakmamak.

4) Sağlıklı beslenme ile ilgili aşağıdaki bilgilerden hangisi yanlıştır?

- A) Mevsiminde yetişen sebze ve meyve tüketmeliyiz.
- B) Üç öğün beslenmeliyiz.
- C) Sevdiğimiz besinleri daha çok tüketmeliyiz.

5) Aşağıdakilerden hangisi arkadaşlarda olmasını istediğimiz özelliklerden biridir?

- A) yardımseverlik
- B) bencillik
- C) kıskançlık

6) Aşağıdakilerden hangisi yanlıştır?

- A) Önce ihtiyaçlarımızı almalıyız.
- B) Reklamı çok yapılan ürünleri almalıyız.
- C) İhtiyaçlarımızı karşıladıktan sonra artan paramızı biriktirmeliyiz.

7) I. Dişlerimizi fırçalamak
II. Banyo yapmak
III. Odamızı temizlemek




Sağlığımızı korumak için yukarıdakilerden hangileri gereklidir?

- A) Yalnız I
- B) I ve II
- C) I, II ve III










8) İçerisinde olan ürünleri almamalıyız.

Yukarıdaki cümlede noktalı yere aşağıdakilerden hangisi yazılmalıdır?

- A) katkı maddesi
- B) taze
- C) ambalaj

- 9) tencere terlik tebeşir
-   

Yukarıdaki kelimeleri alfabetik olarak sıraladığımızda semboller hangi seçenekteki gibi olur?

- A)  -  - 
- B)  -  - 
- C)  -  - 

- 10) 1
tutsak 2
vazife
- 3
uyarı 4
görev 5
ikaz

Yukarıdaki eş anlamlı kelimeler eşleştirildiğinde hangisi dışarıda kalır?

- A) uyarı B) görev C) tutsak

- 11) ① Bu kasanın içi oyuncaklarla dolu.
② Yürürken birden dolu yağmaya başladı.
③ Oda dolu, masayı diğer odaya koyalım.

"Dolu" kelimesi hangi cümlelerde aynı anlamda kullanılmıştır?

- A) 1 ve 2 B) 1 ve 3 C) 2 ve 3

12) Aşağıdakilerden hangisi anlamlı ve kurallı cümledir?

- A) Çok istiyormuş Yusuf sorunun cevabını bulabilmeyi.
B) Yusuf sorunun cevabını bulabilmeyi çok istiyormuş.
C) Sorunun cevabını bulmayı çok istiyormuş Yusuf.

13) Aşağıdaki cümlelerin hangisinde yazım yanlışı yoktur?

- A) Mehmet, 3.üncü sınıfa gidiyor.
B) Semih, THY'da işe başladı.
C) Prof. Hilmi Bey okula geldi.





14)

Tren 09()30()da mı
hareket edecek ()





Yukarıdaki cümlede ayraç ile belirtilen yerlere sırasıyla hangi noktalama işaretleri gelmelidir?

- A) (.) (`) (?)
B) (-) (,) (.) .
C) (:) (`) (!)

15)

-  Zavallı çocuğun canı yandı.
 Üzerine giyindiği gömlek çok yakışmış.
 Yaşasın! Sınavdan en yüksek notu ben aldım.
 Böyle davranacağını bilseydim hiç gelmezdim

Yukarıdaki cümlelerin ifade ettiği duygular hangi seçenekte doğru verilmiştir?

-    
- A) sevinç beğenme acıma pişmanlık
B) acıma beğenme sevinç pişmanlık
C) pişmanlık sevinç acıma beğenme

16) Aşağıdaki cümlelerin hangisinde ikileme yoktur?

- A) Mustafa horul horul uyuyordu.
B) Bahçedeki kirazları sabah topladım.
C) Kamyon bata çığa tarladan çıktı.

17) Aşağıdakilerden hangisi yanlıştır?

- A) $540 = 5$ yüzlük, 4 onluk
B) $602 = 6$ yüzlük, 2 onluk
C) $808 = 8$ yüzlük, 8 birlik

18)

785

Yukarıda verilen sayının en yakın onluğa ve yüzlüğe hangi seçenekte doğru yuvarlanmıştır

- | | Onluğa | Yüzlüğe |
|----|--------|---------|
| A) | 780 | 800 |
| B) | 790 | 700 |
| C) | 790 | 800 |

19) Hangi toplama işlemini sonucu tek sayıdır?

- A) $148 + 224 =$
B) $437 + 166 =$
C) $155 + 215 =$

20) Murat otomobille önce yolun 178 kilometresini sonra 145 kilometresini gidiyor. Yol 550 kilometre olduğuna göre Murat'ın gideceği kaç kilometre yolu kalmıştır?

- A) 227 km B) 253 km C) 173 km

- 21)
- | | | |
|-------------|-------------|-------------|
| 1. | 2. | 3. |
| 25 | 34 | 28 |
| $\times 26$ | $\times 16$ | $\times 23$ |
| | | |

Yukarıdaki çarpma işlemlerinden hangisinin sonucu 600'den azdır?

- A) 1 B) 2 C) 3

Tablo: En çok sevilen çiçekler

Çiçekler	Çiçek Sayısı
Gül	### ### ///
Lale	### ///
Menekşe	### //
Papatya	### ### /

Yukarıda 3/A sınıfı öğrencilerinin verdiği yanıtlara göre aşağıdaki soruları yanıtlayınız.

22) Güülü sevenlerin sayısı menekşe sevenlerden kaç fazladır?

- A) 5 B) 6 C) 7

23) Menekşe ve papatya sevenlerin toplamı lale sevenlerden kaç fazladır?

- A) 10 B) 9 C) 8

24) 3/A sınıfında kaç öğrenci vardır?

- A) 38 B) 39 C) 40

25) Her birinde 24 tane olan 6 kutu çikolata aldım. 3 tanesini yedim. Geriye kaç çikolata kaldı?

- A) 141 B) 152 C) 144

26)

64 4 ▲	69 3 ■	96 8 ★
-------------	-------------	-------------

Bölme işlemi yapıldığında sembollerin sıralaması hangi seçenekteki gibi olur?

- A) ▲ < ■ < ★
B) ★ < ▲ < ■
C) ■ < ★ < ▲

27) Uzaydan Dünya'nın fotoğrafı çekildiğinde mavi görünmesinin nedeni nedir?

- A) Dünya'nın kendi etrafında dönmesi
- B) Dünya'nın büyük bir kısmının sularla kaplı olması
- C) Dünya'nın küreye benzemesi

28) ▲ Tat almamızı sağlar.

■ Varlıkların sert, yumuşak, pürüzlü veya pürüzsüz olma gibi özelliklerini algılar.

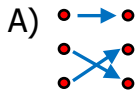
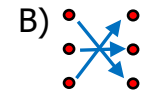
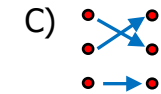
★ Çiğnenen besinlerin yutulmasını sağlar.

Yukarıdaki bilgilerden hangileri dilin görevlerindedir?

- A) ▲ ★ B) ■ ★ C) ▲ ■

29) Topun kale direğine çarpması	•	•	Dönme
Otobüsün durağa yaklaşması	•	•	Yavaşlama
Dünya'mızın kendi etrafındaki hareketi	•	•	Yön değiştirme

Kuvvetin etkileri ile ilgili doğru eşleştirme hangisidir?

- A)  B)  C) 

- 30) ➡ Katı maddedir.
➡ Esnektir.
➡ Yumuşaktır.

Yukarıda özellikleri verilen madde hangisi olamaz?

- A) sünger B) silgi C) bardak

31) Aşağıdaki ifadelerden hangisi doğrudur?

- A) Varlıkları görebilmemiz için varlıkların renkli olması gerekir.
- B) Görme olayının gerçekleşmesi için ışık gerekir.
- C) Işık miktarı fazla olduğunda varlıkları görmemiz kolaylaşır.

32) Deniz ve okyanus diplerinde ince, karaların olduğu bölgelerde daha kalındır.

Yukarıda özellikleri verilen katman hangisidir?

- A) Manto B) Çekirdek C) Yer kabuğu

33) Ayşe bahçedeki gülü koklarken eline diken battı.

Yukarıdaki olayda hangi duyu organımız zarar görmüştür?

- A) Deri B) Burun C) Dil

34) Aşağıdakilerden hangisi hızlanma hareketi yapar?

- A) Rampayı çıkan kamyon
- B) Pistten kalkan uçak
- C) Durağa yaklaşan otobüs

35) I. Zeytin ➡ Katı
II. Tuz ➡ Sıvı
III. Buhar ➡ Gaz

Yukarıdaki eşleştirmelerden hangileri doğrudur?

- A) Yalnız I B) I ve II C) I ve III

- | | | | |
|-------|-------|-------|-------|
| 1) B | 11) B | 21) B | 31) B |
| 2) C | 12) B | 22) B | 32) C |
| 3) C | 13) C | 23) A | 33) A |
| 4) C | 14) A | 24) B | 34) B |
| 5) A | 15) B | 25) A | 35) C |
| 6) B | 16) B | 26) B | 36) |
| 7) C | 17) B | 27) B | 37) |
| 8) A | 18) C | 28) A | 38) |
| 9) B | 19) B | 29) B | 39) |
| 10) C | 20) A | 30) C | 40) |