




Adı Soyadı :

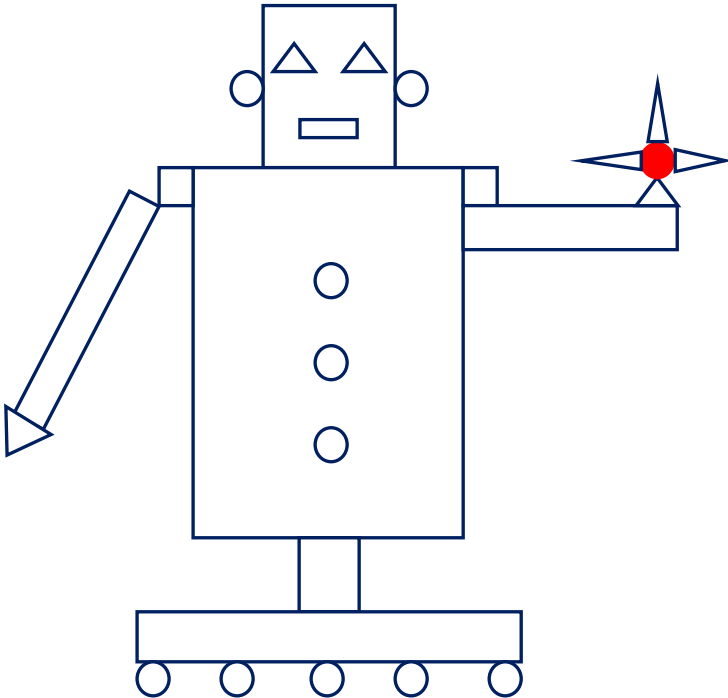
Numarası :

Konu: Yapılar Oluşturma Etkinliği 2

Aşağıdaki yapılar oluşturulurken kullanılan şekil sayılarına göre tabloları tamamlayınız.



Şekiller	Sayısı
Kare	
Çember	
Dikdörtgen	
Üçgen	



Şekiller	Sayısı
Kare	
Çember	
Dikdörtgen	
Üçgen	
Daire	

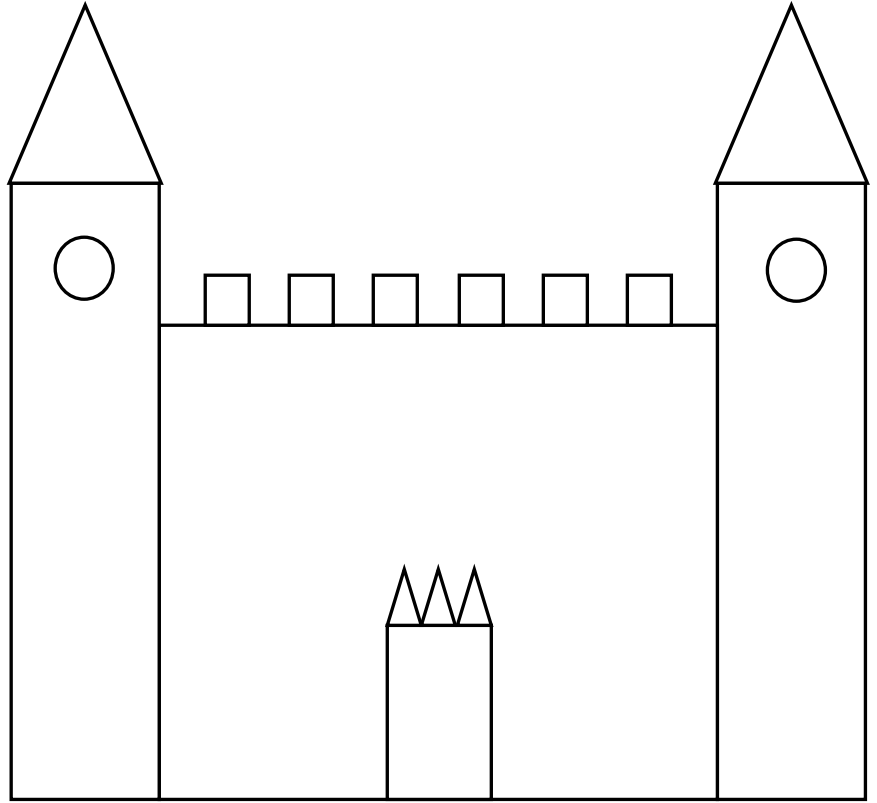
Aşağıdaki görselde kullanılan geometrik şekilleri istenilen renklerde boyayınız.

Üçgen: Yeşil

Dikdörtgen: Kahverengi

Kare: Turuncu

Çember: Sarı



Üçgen: Kırmızı

Dikdörtgen: Mavi

Kare: Mor

Çember: Sarı

