



Adı Soyadı :


Numarası :

Çalışma Kağıdı 2

Konu: Uzamsal İlişkiler

Kazanım 1: Yer, yön ve hareket belirtmek için matematiksel dil kullanır.

Aşağıdaki soruları görsellere göre yanıtlayınız.



1- Ahmet saat yönünde 3 çeyrek tur dönerse karşısında hangi meyveyi görür?

.....

2-Ahmet saat yönünde çeyrek tur dönerse karşısında hangi meyveyi görür?


.....

3-Ahmet saat yönünün tersine çeyrek tur dönerse karşısında hangi meyveyi görür?

.....

4-Ahmet saat yönünün tersine yarım tur dönerse karşısında hangi meyveyi görür?

.....



1- Murat saat yönünde çeyrek tur dönerse karşısında hangi hayvanı görür?

.....

2-Murat saat yönünde 3 çeyrek tur dönerse karşısında hangi hayvanı görür?

.....

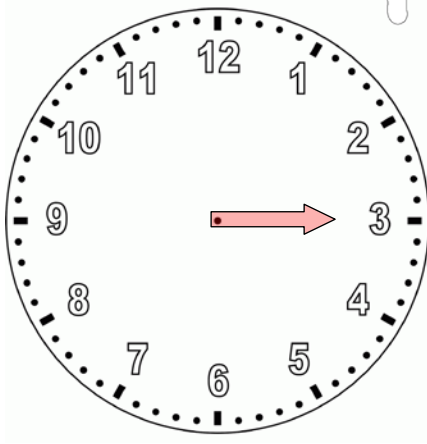
3-Murat saat yönünün tersine çeyrek tur dönerse karşısında hangi hayvanı görür?

.....

4-Murat saat yönünün tersine yarım tur dönerse karşısında hangi hayvanı görür?

.....

Aşağıdaki soruları görsellere göre yanıtlayınız.



1-Yelkovan saat yönünde çeyrek tur dönerse yelkovanın yönü hangi sayıyı gösterir?

.....

2-Yelkovan saat yönünde yarım tur dönerse yelkovanın yönü hangi sayıyı gösterir?

.....

3- Yelkovan saat yönünde 3 çeyrek tur dönerse yelkovanın yönü hangi sayıyı gösterir?

.....

4- Yelkovan saat yönünde tam tur dönerse yelkovanın yönü hangi sayıyı gösterir?

.....

1-Yelkovan saat yönünde çeyrek tur dönerse yelkovanın yönü hangi geometrik cismi gösterir?

.....

2-Yelkovan saat yönünde yarım tur dönerse yelkovanın yönü hangi geometrik cismi gösterir?

.....

3- Yelkovan saat yönünde 3 çeyrek tur dönerse yelkovanın yönü hangi geometrik cismi gösterir?

.....

4- Yelkovan saat yönünde tam tur dönerse yelkovanın yönü hangi geometrik cismi gösterir?

.....

