

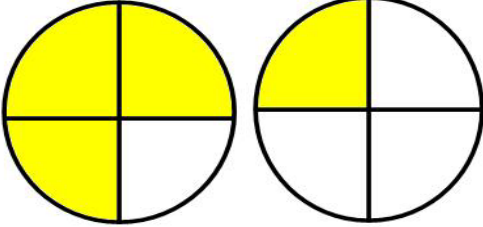


Adı Soyadı : .....

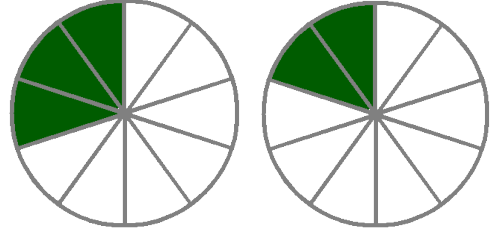
Numarası : .....

Konu: Paydaları Eşit Olan Kesirleri Karşılaştırma Etkinliği

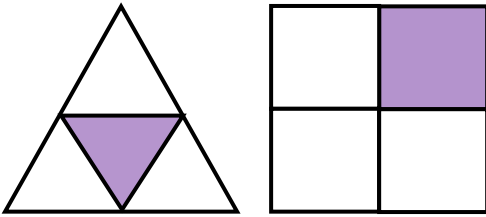
Aşağıda modellenen kesirlerin renkli kısımlarının ifade ettiği kesirleri yazınız. Kesirleri "<, >, =" sembolleri kullanarak karşılaştırınız.



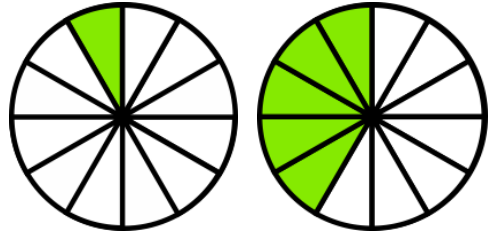
.....  
.....



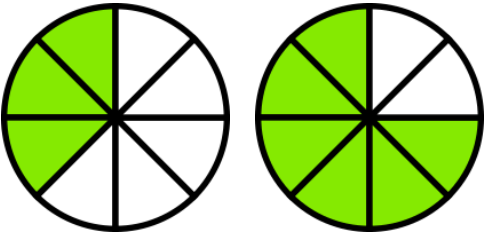
.....  
.....



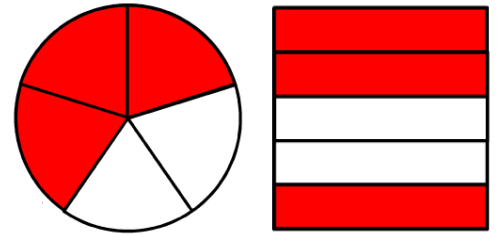
.....  
.....



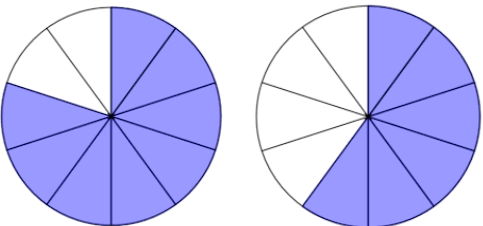
.....  
.....



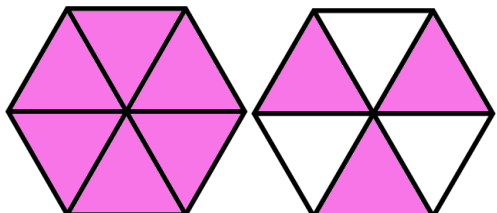
.....  
.....



.....  
.....



.....  
.....



.....  
.....

Aşağıdaki kesirleri modelle göstererek küçükten büyüğe doğru sıralayınız.

$$\frac{3}{5} \rightarrow \boxed{\phantom{000000}}$$

$$\frac{4}{5} \rightarrow \boxed{\phantom{000000}}$$

$$\frac{2}{5} \rightarrow \boxed{\phantom{000000}}$$

..... , ..... , .....

$$\frac{6}{8} \rightarrow \boxed{\phantom{000000}}$$

$$\frac{5}{8} \rightarrow \boxed{\phantom{000000}}$$

$$\frac{7}{8} \rightarrow \boxed{\phantom{000000}}$$

..... , ..... , .....

Aşağıdaki kesirleri modelle göstererek büyükten küçüğe doğru sıralayınız.

$$\frac{1}{6} \rightarrow \boxed{\phantom{000000}}$$

$$\frac{4}{6} \rightarrow \boxed{\phantom{000000}}$$

$$\frac{5}{6} \rightarrow \boxed{\phantom{000000}}$$

..... , ..... , .....

$$\frac{3}{4} \rightarrow \boxed{\phantom{000000}}$$

$$\frac{1}{4} \rightarrow \boxed{\phantom{000000}}$$

$$\frac{2}{4} \rightarrow \boxed{\phantom{000000}}$$

..... , ..... , .....

Aşağıdaki kesirleri sayı doğrusunda göstererek büyükten küçüğe doğru sıralayalım.

$$\frac{3}{7} \leftarrow \text{-----} \rightarrow$$

$$\frac{6}{7} \leftarrow \text{-----} \rightarrow$$

$$\frac{5}{7} \leftarrow \text{-----} \rightarrow$$

.....      .....      .....  
.....      .....      .....

Noktalı yerlere "<, >, =" sembollerinden uygun olanı yazarak kesirleri karşılaştırınız.

a)  $\frac{4}{8}$  .....  $\frac{7}{8}$

b)  $\frac{3}{5}$  .....  $\frac{2}{5}$

c)  $\frac{8}{15}$  .....  $\frac{11}{15}$

d)  $\frac{5}{10}$  .....  $\frac{2}{10}$

e)  $\frac{1}{9}$  .....  $\frac{1}{9}$

f)  $\frac{7}{20}$  .....  $\frac{3}{20}$

g)  $\frac{3}{6}$  .....  $\frac{3}{6}$

h)  $\frac{7}{12}$  .....  $\frac{8}{12}$

ı)  $1\frac{4}{5}$  .....  $\frac{8}{5}$

m)  $2\frac{6}{9}$  .....  $\frac{8}{9}$

n)  $2\frac{5}{8}$  .....  $1\frac{5}{8}$

o)  $\frac{6}{8}$  .....  $1\frac{2}{8}$

Aşağıdaki kesirler sembol kullanarak büyükten küçüğe doğru sıralayınız.

a)  $\frac{3}{9}$  ,  $\frac{7}{9}$  ,  $\frac{6}{9}$

..... , ..... , .....

b)  $\frac{6}{7}$  ,  $\frac{4}{7}$  ,  $\frac{4}{7}$

..... , ..... , .....

c)  $\frac{4}{10}$  ,  $\frac{7}{10}$  ,  $\frac{9}{10}$

..... , ..... , .....

d)  $\frac{6}{8}$  ,  $\frac{2}{8}$  ,  $\frac{5}{8}$

..... , ..... , .....

e)  $\frac{3}{6}$  ,  $\frac{4}{6}$  ,  $\frac{1}{6}$

..... , ..... , .....

f)  $\frac{9}{13}$  ,  $\frac{6}{13}$  ,  $\frac{10}{13}$

..... , ..... , .....

g)  $\frac{8}{9}$  ,  $1\frac{1}{9}$  ,  $\frac{7}{9}$

..... , ..... , .....

h)  $1\frac{5}{7}$  ,  $2\frac{3}{7}$  ,  $\frac{4}{7}$

..... , ..... , .....

ı)  $2\frac{5}{8}$  ,  $4\frac{2}{8}$  ,  $1\frac{7}{8}$

..... , ..... , .....