



Adı Soyadı : .....

Numarası : .....

## Konu: Örüntü Oluşturma Etkinliği 3

Boş bırakılan yerleri uygun geometrik şekil veya cisimlerle tamamlayalım. Örüntünün kuralını yazalım.

→ Örüntünün kuralı: .....

→ Örüntünün kuralı: .....


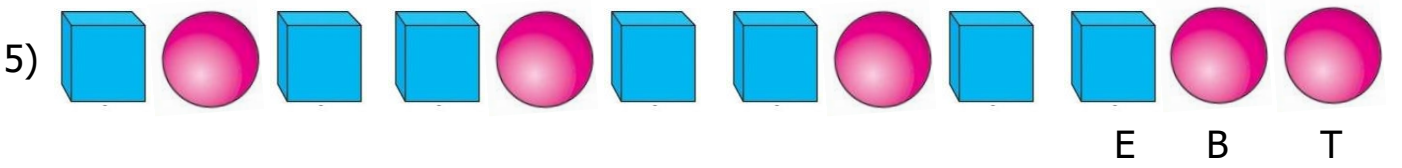
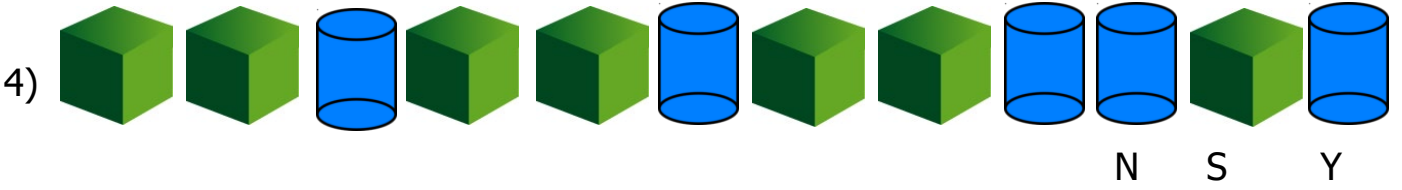
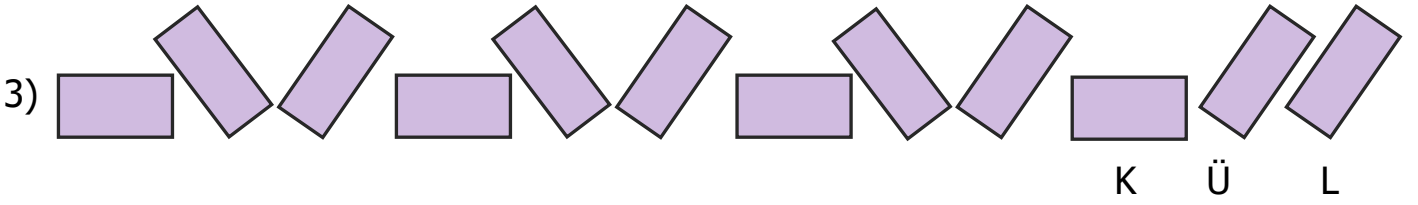
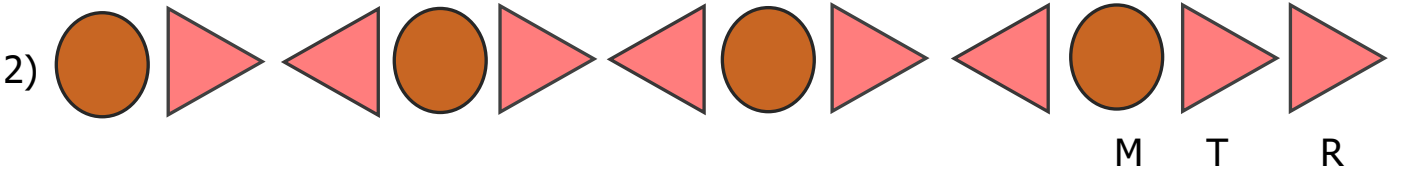
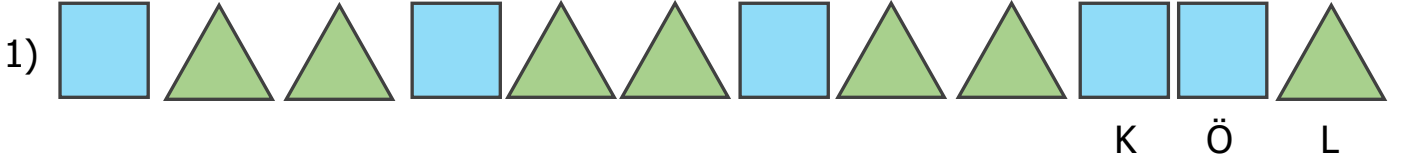
→ Örüntünün kuralı: .....

→ Örüntünün kuralı: .....

→ Örüntünün kuralı: .....

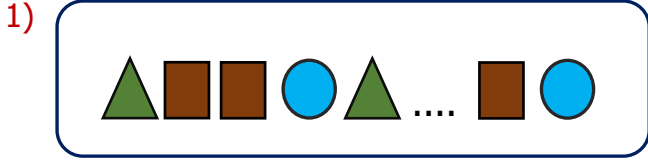
Aşağıdaki geometrik şekil veya cisimlerden örüntü kuralına uymayan öğeyi işaretleyiniz.

Altlarındaki harflerle şifreyi bulunuz.



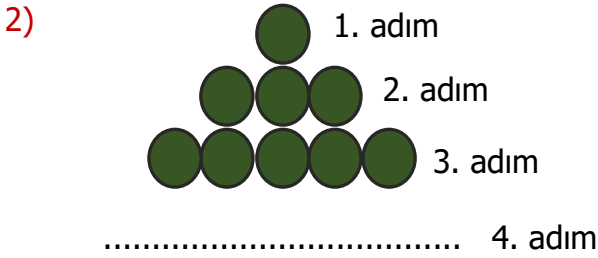
ŞİFRE:

--	--	--	--	--	--



Yukarıdaki örüntüde noktalı yere hangi geometrik şekil gelmelidir?

- A) B) C)

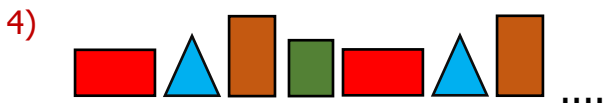


Yukarıdaki örüntünün 4. adımında kaç tane daire olmalıdır?

- A) 7 B) 9 C) 11

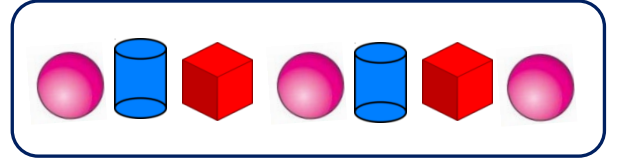
3) Aşağıdakilerden hangisi örüntü oluşturmaz?

- A)
- B)
- C)



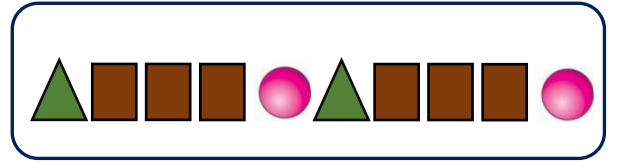
Yukarıdaki örüntüde sıra hangi şekildedir?

- D) B) C)



5) Yukarıdaki örüntünün kuralı hangisidir?

- A) B)
- C)



6) Aşağıdaki örüntülerden hangisinin ilişkisi, yukarıdaki örüntünün ilişkisi ile aynıdır?

- A)
- B)
- C)

7) Hangi örüntünün kuralı diğerinden farklıdır?

- A)
- B)
- C)