



Adı Soyadı : .....

Numarası : .....

Konu: Kesirler (Bütün, Yarım ve Çeyrek Kesirler) Etkinliği

Aşağıdaki görsellerin yanlarına "bütün, yarım ve çeyrek" sözcüklerinden uygun olanları yazalım.



(.....)



(.....)



(.....)



(.....)

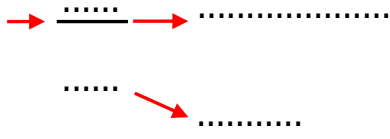


(.....)

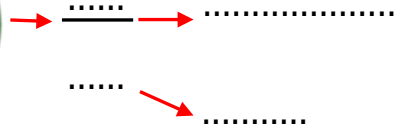


(.....)

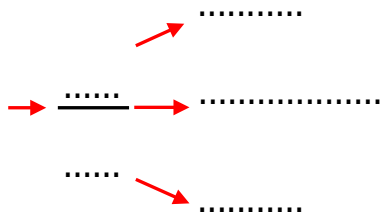
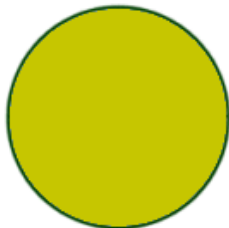
Aşağıdaki şeklin boyalı kısımlarının ifade ettiği kesri yazarak, okla gösterilen kısımların belirttiği terimleri yazalım.



(.....)



(.....)



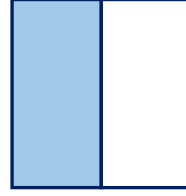
(.....)

Aşağıdaki geometrik şekillerin altlarına "bütün, yarım ve çeyrek" sözcüklerinden uygun olanları yazalım. Boyalı alanları kesir olarak ifade edelim ve okuyalım.



→ .....  
.....

(.....)



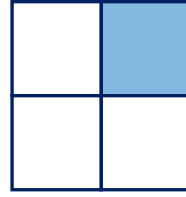
→ .....  
.....

(.....)



→ .....  
.....

(.....)



→ .....  
.....

(.....)



→ .....  
.....

(.....)




→ .....  
.....


(.....)

Aşağıdaki verilen ifadeler göre şekilleri parçalara ayırıp boyayalım.

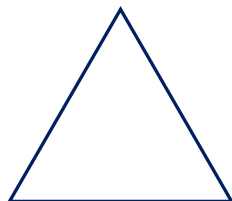
çeyrek →



çeyrek →



yarım →



yarım →

