



Adı Soyadı :

Numarası :

Konu: Karışımların Ekonomik Değeri Etkinliği

Aşağıdaki atıkları altlarındaki numaralara göre dönüşüm kutularının altlarına yazınız.



1




2



3



4



5




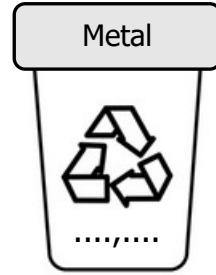
6



7



8



Aşağıdaki cümlelerden noktalı yerlere verilen ifadelerden uygun olanı yazınız.

doğal kaynakların

ülke ekonomisine

geri dönüşüm

israfın

- Geri dönüşüm anlayışı da önüne geçer.
- Katı atıkların ayrıştırılması ile dünya üzerindeki sınırlı olan korunması sağlanır.
- Atık maddelerin tekrar kullanılabilir hale gelmesine denir.
- Katı atıklar ayrıştırılıp tekrar kullanılarak katkı sağlar.

Aşağıdaki cümlelerden doğru olanlara "D", yanlış olanlara "Y" yazınız.

- () Geri dönüşüm çevre kirliliğine neden olur.
- () Geri dönüşüm ham madde için harcanan enerji ve imkanların da tasarrufunu sağlar.
- () Doğal kaynakların korunmasında geri dönüşümün katkısı yoktur.
- () Evsel atıkların bazıları gübre olarak kullanılabilir.
- () Çöp olarak atılan katı atıkların geri dönüşümü olmaz.

1) Aşağıdakilerden hangisi geri dönüşüm kutusuna atılamaz?

- A) Karton kutular
- B) Plastik şişeler
- C) Yemek atıkları
- D) Peynir tenekeleri

2) Geri dönüşümle ilgili verilen ifadelerden hangisi yanlıştır?

- A) Ayrıştırmayla, enerji tasarrufu sağlanır.
- B) Ayrıştırmayla, ekonomiye katkı sağlanır.
- C) Ayrıştırmayla, çevre temizliğine katkıda bulunulur.
- D) Ayrıştırmayla, doğal kaynaklar azalır.

3) Yandaki atık madde geri dönüşüm için hangi kutuya atılmalıdır?



- A) Kağıt
- B) Cam
- C) Metal
- D) Plastik

4) Aşağıdakilerden hangisi katı atık değildir?

- A) Bakır cezve
- B) Alüminyum kapı
- C) Zeytinyağı
- D) Gazete

5) Aşağıdakilerden hangisi geri dönüşüme önem veren bir kişinin davranışı olamaz?

- A) Katı atıkları çöp kutularına ayrı ayrı koyar.
- B) Gazete ve peçeteleri kağıt kutusuna atar.
- C) Pet şişeyi cam atık kutusuna atar.
- D) Geri dönüşümün yararlarını arkadaşlarına anlatır.

6) Aşağıdaki görsellerden hangisinin geri dönüşümü yoktur?

- A)
- B)
- C)
- D)

7) Katı atıklarda yapılan geri dönüşüm işlem aşağıdakilerden hangisine sebep olmaz?

- A) Zaman kaybına yol açar.
- B) Ülke ekonomisine katkı sağlar.
- C) Doğanın zarar görmesini engeller.
- D) Doğal kaynakların uzun süre kullanılmasını sağlar.

8) I. Kağıt ve plastiklerin geri dönüşümü yoktur.
II. Geri dönüşüm çevre kirliliğini önler.
III. Katı atıklar ayrıştırılmaz.
IV. Demir, cam gibi maddeler geri dönüştürülebilir.

Yukarıdaki ifadelerden hangileri doğrudur?

- A) Yalnız I
- B) I ve II
- C) II ve III
- D) II ve IV