



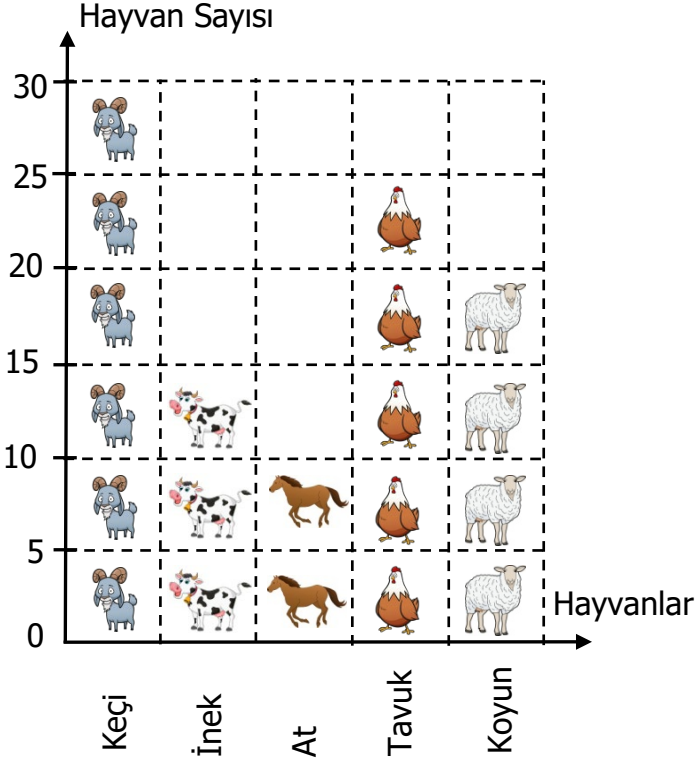
Adı Soyadı :

Numarası :

Konu: Sütun Grafiği (Çetele Tablosu, Sıklık Tablosu, Şekil ve Nesne Grafiği) Etkinliği

Aşağıdaki nesne grafiğinde bir çiftlikteki hayvanlar gösterilmiştir. Buna göre noktalı yerleri doldurunuz.

Grafik: Çiftlikteki Hayvanlar



(Her görsel, 5 hayvanı göstermektedir.)

- Çiftlikte en çok vardır.
- Keçilerin sayısı ineklerden fazladır.
- Çiftlikte en az vardır.
- Çiftlikteki atların ve koyunların toplamı eşittir.
- Çiftlikteki tavuklarla ineklerin farkı'dur.
- Çiftlikte toplam hayvan vardır.
- Koyun ve ineklerin toplamı, keçilerden fazladır.

Aşağıda bir gruptaki çocukların en sevdiği meyveler verilmiştir. Buna göre sıklık tablosu ve sütun grafiği oluşturalım.

Nesne Grafiği: En Çok Sevilen Meyveler

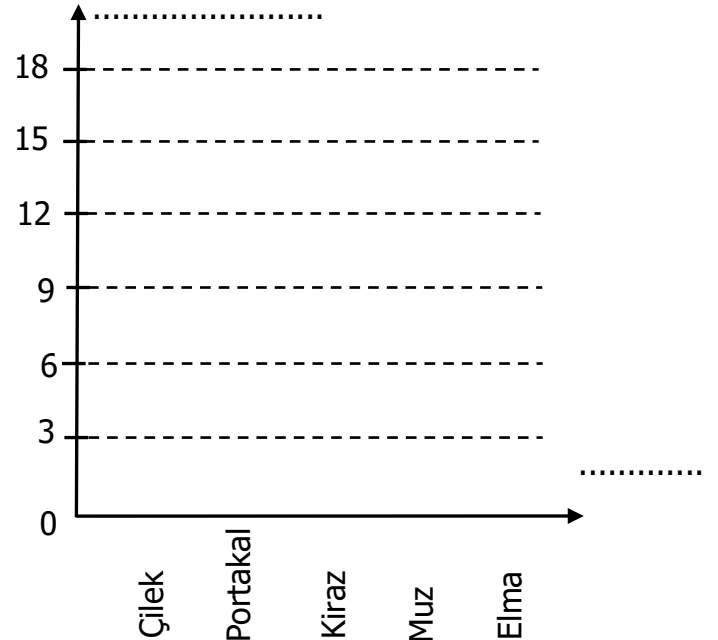
Meyveler	Çocuk Sayısı
Elma	
Muz	
Kiraz	
Portakal	
Çilek	

(Her görsel, 3 meyveyi göstermektedir)

Sıklık Tablosu: En Çok Sevilen Meyveler





Meyveler	Çocuk Sayısı
Elma	
Muz	
Kiraz	
Portakal	
Çilek	

Sütun Grafiği



Aşağıda bir gruptaki çocukların en sevdiği çiçekler verilmiştir. Buna göre çetele tablosu ve sütun grafiği oluşturalım.

Nesne Grafiği: En Çok Sevilen Çiçekler

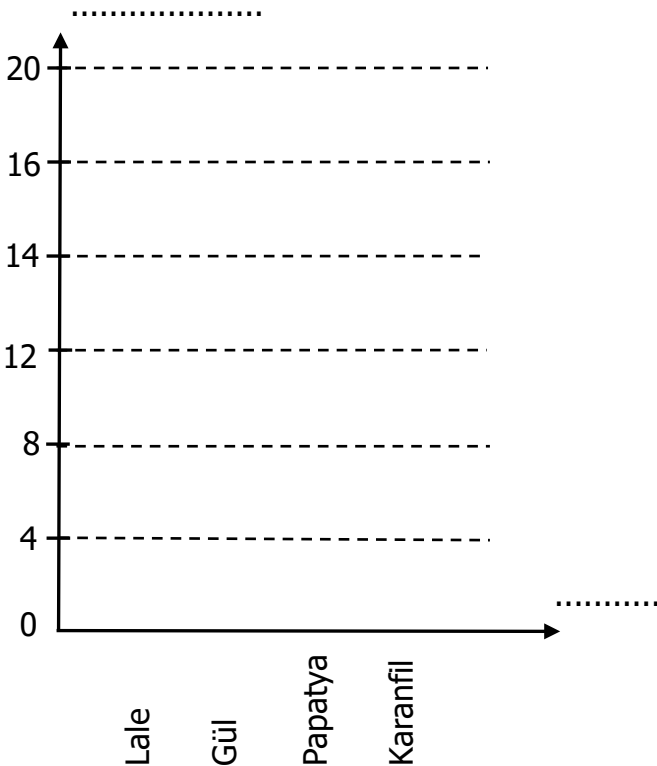
Çiçekler	Çiçek Sayısı
Lale	
Gül	
Papatya	
Karanfil	

(Her görsel, 4 çiçeği göstermektedir)

Çetele Tablosu: En Çok Sevilen Çiçekler

Çiçekler	Çiçek Sayısı
Lale	
Gül	
Papatya	
Karanfil	

Grafik:



Aşağıdaki şekil grafiğine göre çetele ve sıklık tablosunda göstererek sütun grafiği oluşturunuz.

Şekil Grafiği: Misketler

Misketler	Misket Sayısı
Mavi	
Kırmızı	
Yeşil	
Mor	
Sarı	

(Her görsel, 3 misketi göstermektedir)

Sıklık Tablosu: Misketler Çetele Tablosu: Misketler

Misket	Misket Sayısı	Misket	Misket Sayısı
Mavi		Mavi	
Kırmızı		Kırmızı	
Yeşil		Yeşil	
Mor		Mor	
Sarı		Sarı	

Grafik:

