

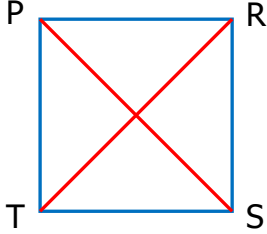


Adı Soyadı :

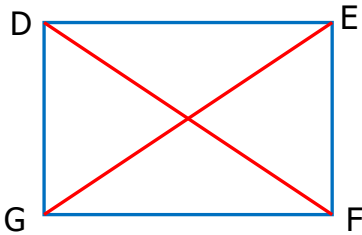
Numarası :

Konu: Kare ve Dikdörtgenin Kenar Özellikleri Etkinliği

Aşağıda verilen kare ve dikdörtgenin özelliklerine göre noktalı yerleri doldurunuz.

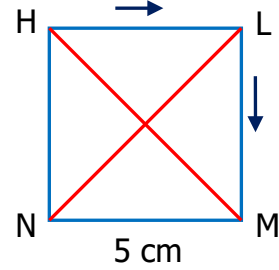


- köşesi vardır.
- kenarı vardır.
- köşegeni vardır.
- Karenin köşeleri,,,'dir
- Karenin kenarları,,, 'dir.
- Karenin köşegenleri ve doğru parçalarıdır.



- köşesi vardır.
- kenarı vardır.
- köşegeni vardır.
- Dikdörtgenin köşeleri,,,'dir
- Dikdörtgenin kenarları,,, 'dir.
- Dikdörtgenin köşegenleri ve doğru parçalarıdır.

Aşağıda kare ve dikdörtgenle ilgili istenilenleri yazınız.

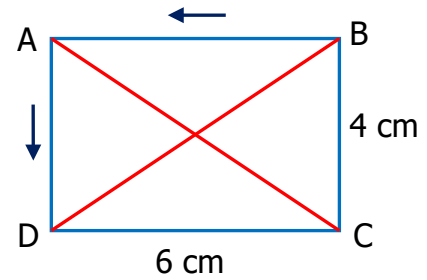


Kareyi ok yönünde isimlendirelim.

..... karesi karesi
 karesi karesi

Karenin kenar uzunluklarını yazınız.

HL = 5 cm



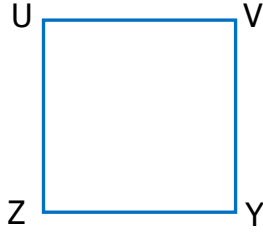
Dikdörtgeni ok yönünde isimlendirelim.

..... karesi karesi
 karesi karesi

Dikdörtgenin kenar uzunluklarını yazınız.

AD = 4 cm

Aşağıda verilen kare ve dikdörtgenin benzer ve farklı yönlerini noktalı yerlere yazınız.



Benzer Yönleri



Farklı Yönleri

.....
.....
.....
.....
.....
.....
.....

.....
.....
.....
.....
.....
.....
.....

Aşağıda verilen kareli kağıda birer tane kare ve dikdörtgen çizerek noktalı yerleri doldurunuz.

Kare

Dikdörtgen

Köşeleri:,,,

Köşeleri:,,,

Kenarları:,,,

Kenarları:,,,

Karenin ismi:,,,

Dikdörtgenin ismi:,,,

.....,,,

.....,,,

Karenin köşegenleri:,,,

Dikdörtgenin köşegenleri:,,,

