

Adı :

Soyadı :



Sınıfı :

Numarası:

1) Sağlığımızı korumayla ilgili aşağıda verilen bilgilerden hangileri doğrudur?

- A) Bol bol sebze ve meyve yemeliyiz.
- B) Şekerli yiyecek ve içeceklerden çok yemeliyiz.
- C) Açıkta satılan yiyeceklerden yemeliyiz.

2) • Kaykay ile kayarken dirseğimizi korumak için takmalıyız.

- Paten ile kayarken başımıza takmalıyız.

Yukarıdaki cümlelerde boş bırakılan yerlere uygun sözcüklerle tamamlandığında hangi sözcük dışarıda kalır?

- A) kask B) dizlik C) şapka

3) ■ Eldiven kullanarak çalıştırmak

▲ Kablo ve fişleri hasarlı olanları kullanmamak

★ Bozuk olanları tamir etmek

● Islak ellerle dokunmamak

Yukarıdakilerden hangileri elektrikli ev aletlerini kullanırken dikkat etmemiz gereken hususlardandır?

- A) ■ ★ B) ▲ ● C) ■ ●

4) Aşağıdakilerden hangisi acil durum değildir?

- A) İki otomobilin çarpışması
- B) Parkta yürüyüş yapan adamın bayılması
- C) Çocukların kütüphanede kitap okuması

5) Spor yaparken aşağıdakilerden hangisine dikkat etmeliyiz?

- A) Yaşımıza ve vücudumuza uygun spor yapmalıyız.
- B) Her türlü sporu yapmalıyız.
- C) Spor yaparken çok fazla enerji harcamalıyız

6) ✨ Kazanın olduğu yeri söylemeliyiz.

❤ Arabanın rengini söylemeliyiz.

😊 Kendimizi tanıtmalıyız.

Trafik kazalarında acil telefonu ararken hangi bilgiyi vermeye gerek yoktur?

- A) 😊 B) ❤ C) ✨

7) Aşağıdakilerden hangisi doğrudur?

- A) Toplu taşıma araçlarına arka kapıdan binmeliyiz.
- B) Araçların ön koltuklarına oturabiliriz.
- C) Şoförün dikkatini dağıtacak davranışlar yapmamalıyız.

8) Aşağıdakilerden hangisi yanlıştır?




- A) Kışın kalın kıyafetler giymeliyiz.
- B) Her mevsim aynı kıyafetler giymeliyiz.
- C) Yazın ince kıyafetler giymeliyiz.

9) Aşağıdaki kelimelerden hangisi sözlükte diğerlerinden önce gelir?




- A) Atlet B) Ayakkabı C) Anahtar

10) Aşağıdaki cümlelerin hangisinde hayal unsuru ifade vardır?

- B) Babam beni omzunda taşıdı.
C) Kardeşim kollarını açtı ve gökyüzüne havalandı.
D) Kağıttan yaptığım yıldızları dolabıma yapıştırdım.

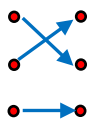
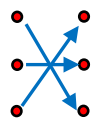
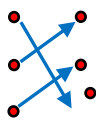
11)  Yarın Ankara'dan ablam gelecek.
 Teyzem Demiz Mahallesi'ne taşındı.
 Sokak köpekleri sabaha kadar havladı.

Yukarıdaki cümlelerin hangisinde özel isim kullanılmamıştır?

- A)  B)  C) 

12) Kibar • • Neden
Sürat • • Hız
sebep • • Nazik

Aşağıdaki kelimeleri eş anlamlıları eşleştirilirse oklar nasıl görünür?

- A)  B)  C) 




13) Hangi cümlede bir kelimenin yazımında yanlışlık yapılmamıştır?

- A) Bisikletimin lastiği patladı.
B) Törende şiir okudum.
C) Ali, çarşamba günü okula gelmedi.

14) 1. oldu 2. yarışmasında
3. Özlem 4. okuma
5. birinci

Yukarıdaki sözcükler nasıl sıralanırsa kurallı ve anlamlı bir cümle oluşur?

- A) 3 – 5 – 1 – 2 – 4
B) 5 – 1 – 2 – 4 – 3
C) 3 – 4 – 2 – 5 – 1

15)  Hey, bana bakar mısın()
 Hafta sonu denize gelecek misin()
 Tüh, kitabım evde kalmış()

Yukarıdaki cümlelerin hangisinde ayraç içine farklı noktalama işareti konur?

- A)  B)  C) 

16) taze pahalı sert

Yukarıdaki kelimelerden hangisinin zıt anlamlısı aşağıda verilmiştir?

- A) ucuz B) çirkin C) cimri

17) Aşağıdaki cümlelerden hangisi olumlu cümledir?

- A) Ahmet, balık tutmaya gelmedi.
B) Buzdolabında zeytin yok.
C) Bahçedeki erik ağacına çıktım.

18) Ayşe, bahçede oyun oynuyor.

Yukarıdaki cümleye göre hangi sorunun cevabına ulaşamaz?

- A) Ne zaman? B) Nerede C) Kim?

19)

$$3 + 3 + 3 + 3 + 3 = \dots$$

Yukarıdaki toplama işleminin çarpma işlemi şeklinde yazımı aşağıdakilerden hangisidir?

- A) $3 \times 4 = 12$
 B) $5 \times 3 = 15$
 C) $5 \times 5 = 20$

20)



Yukarıdaki görsellerden hangileri iki eş parçaya ayrılabilir?

- A) 1 ve 2 B) 1 ve 3 C) 2 ve 3

21) Aşağıdaki bölme işlemlerinden hangisinin sonucu "6" değildir?

- A) $24 \div 4 = \dots$
 B) $25 \div 5 = \dots$
 C) $18 \div 3 = \dots$

22) Her birinde 8 tane yumurta bulunan kutulardan 3 tane alan annem, 5 tanesini kullandı. Geriye kaç yumurta kalmıştır?

- A) 17 B) 18 C) 19

23)

$$\begin{array}{r} 32 \\ - \quad \quad \\ \hline \end{array} \begin{array}{r} 4 \\ \quad \triangle \\ \hline \end{array} \quad \begin{array}{r} \triangle \\ - \quad \quad \\ \hline \end{array} \begin{array}{r} 4 \\ \quad \square \\ \hline \end{array}$$

Yukarıdaki bölme işlemlerine göre $\square \times \triangle$ kaçtır?

- A) 16 B) 20 C) 24

24)



Yukarıdaki örüntü hangisi ile devam etmelidir?

- A) B) C)

25)

52

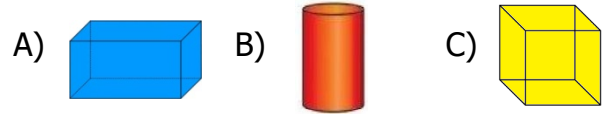
55

64

Yukarıda verilen sayılardan hangisinin en yakın onluğu diğerlerinden farklıdır?

- A) 52 B) 55 C) 64

26) Aşağıdaki geometrik cisimlerden hangisi farklı özelliğe sahiptir?



27)

$$\begin{array}{r} 12 \\ - \quad \quad \\ \hline \end{array} \begin{array}{r} 3 \\ \quad \star \\ \hline \end{array} \quad \begin{array}{r} \star \\ \times 9 \\ \hline \end{array} \quad \begin{array}{r} \square \\ + \triangle \\ \hline 48 \end{array}$$

Yukarıdaki işlemlerin sonucuna göre $\square - \triangle$ kaçtır?

- A) 22 B) 24 C) 26

28)

$$6 \times 4 = 24$$

$$9 \times 0 = 9$$

$$9 \times 3 = 26$$

$$7 \times 3 = 21$$

Yukarıdaki çarpma işlemlerinden kaç tanesi doğrudur?

- A) 1 B) 2 C) 3

- 1) A
- 2) C
- 3) B
- 4) C
- 5) A
- 6) B
- 7) C
- 8) B
- 9) C
- 10) B

- 11) C
- 12) B
- 13) A
- 14) C
- 15) B
- 16) A
- 17) C
- 18) A
- 19) B
- 20) A

- 21) B
- 22) C
- 23) A
- 24) B
- 25) A
- 26) B
- 27) B
- 28)
- 29)
- 30)