




Adı Soyadı : .....

Numarası : .....

## Konu: Bölme İşlemini Öğrenelim Etkinliği 3

Aşağıdaki çiçekleri ikşerli gruplara ayıralım.



Kaç çiçek var? .....


İkişerli kaç grup var? .....

Aşağıdaki kuşları üçerli gruplara ayıralım.




Kaç kuş var? .....

Üçerli kaç grup var? .....




Kaç çiçek var? .....

İkişerli kaç grup var? .....




Kaç kuş var? .....

Üçerli kaç grup var? .....




Kaç çiçek var? .....

İkişerli kaç grup var? .....




Kaç kuş var? .....

Üçerli kaç grup var? .....



Kaç çiçek var? .....

İkişerli kaç grup var? .....



Kaç kuş var? .....

Üçerli kaç grup var? .....

Aşağıdaki çilekleri dörderli gruplara ayıralım.



Kaç çilek var? .....

Dörderli kaç grup var? .....

Aşağıdaki balonları beşerli gruplara ayıralım.



Kaç balon var? .....

Beşerli kaç grup var? .....




Kaç çilek var? .....

Dörderli kaç grup var? .....



Kaç balon var? .....

Beşerli kaç grup var? .....




Kaç çilek var? .....

Dörderli kaç grup var? .....



Kaç balon var? .....

Beşerli kaç grup var? .....



Kaç çilek var? .....

Dörderli kaç grup var? .....



Kaç balon var? .....

Beşerli kaç grup var? .....