



Adı Soyadı : .....

Numarası : .....

## Konu: Bölme İşlemini Öğrenelim Etkinliği 4

Aşağıdaki varlıkları gruplara eşit paylaşınız. Noktalı yerlere uygun sayılar yazınız.





Toplam fındık sayısı : .....

Gruptaki fındık sayısı : .....

Grup sayısı : .....







Toplam misket sayısı : .....

Gruptaki misket sayısı : .....

Grup sayısı : .....






Toplam top sayısı : .....

Gruptaki top sayısı : .....

Grup sayısı : .....






Toplam arı sayısı : .....

Gruptaki arı sayısı : .....

Grup sayısı : .....







Toplam kalem sayısı : .....

Gruptaki kalem sayısı : .....

Grup sayısı : .....









Toplam kelebek sayısı : .....

Gruptaki kelebek sayısı : .....

Grup sayısı : .....

Aşağıdaki kuşları istenilen grup sayılarına göre paylaşınız. Her bir gruba kaç kuş düştüğünü alttaki noktali yerlere yazınız.

3 grup




.....

4 grup



.....

2 grup




.....

5 grup




.....

5 grup




.....

4 grup




.....

3 grup



.....

2 grup



.....