

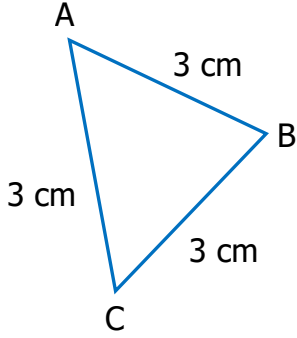


Adı Soyadı :

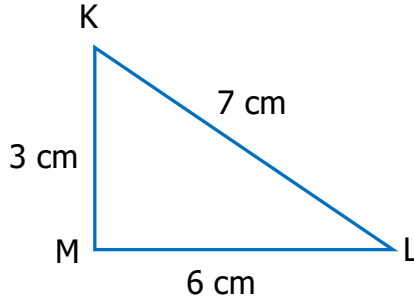
Numarası :

Konu: Üçgenleri Kenar Uzunluklarına Göre Sınıflandırma Etkinliği

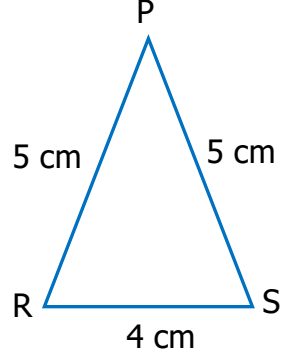
Aşağıda verilen üçgenleri kenar özelliklerine türüne göre işaretleyiniz.



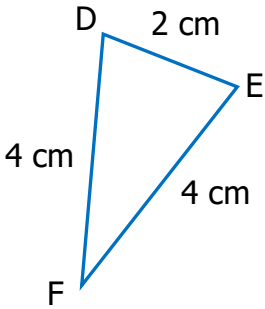
- İkizkenar üçgen
 Çeşitkenar üçgen
 Eşkenar üçgen



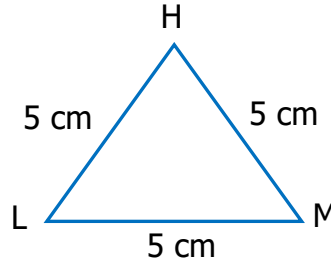
- İkizkenar üçgen
 Çeşitkenar üçgen
 Eşkenar üçgen



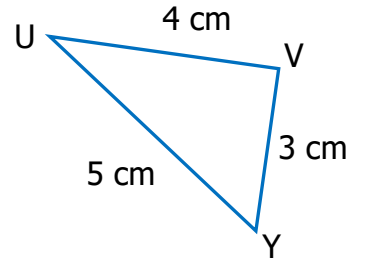
- İkizkenar üçgen
 Çeşitkenar üçgen
 Eşkenar üçgen



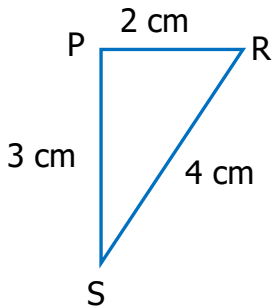
- İkizkenar üçgen
 Çeşitkenar üçgen
 Eşkenar üçgen



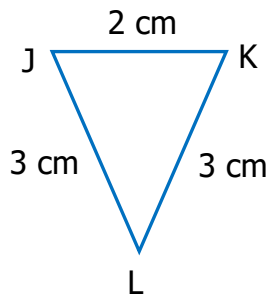
- İkizkenar üçgen
 Çeşitkenar üçgen
 Eşkenar üçgen



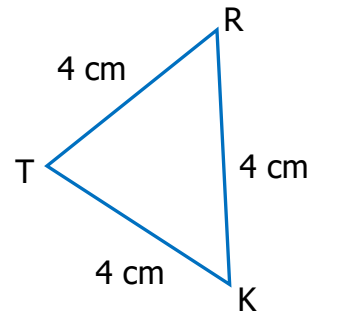
- İkizkenar üçgen
 Çeşitkenar üçgen
 Eşkenar üçgen



- İkizkenar üçgen
 Çeşitkenar üçgen
 Eşkenar üçgen



- İkizkenar üçgen
 Çeşitkenar üçgen
 Eşkenar üçgen

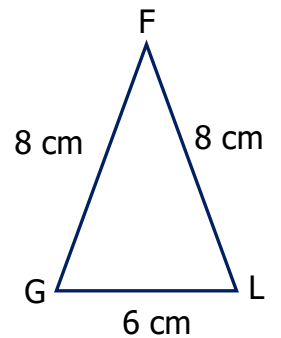
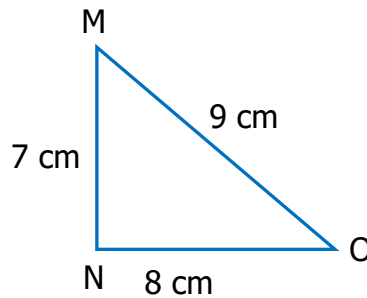
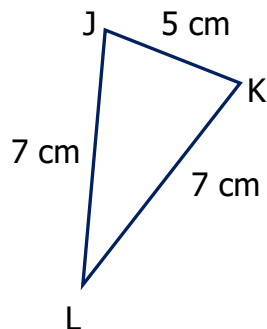
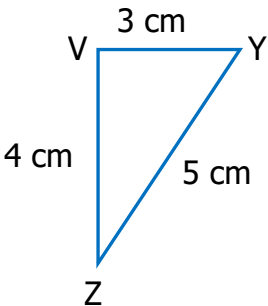
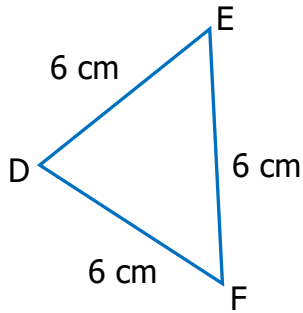
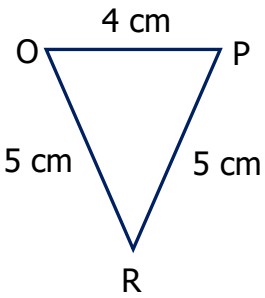
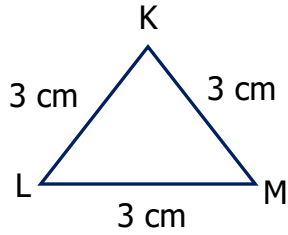
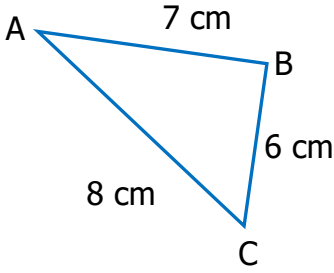


- İkizkenar üçgen
 Çeşitkenar üçgen
 Eşkenar üçgen

Aşağıda kenar uzunlukları verilen üçgenlerin çeşidini işaretleyiniz.

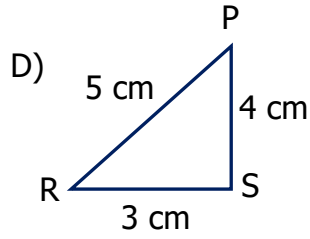
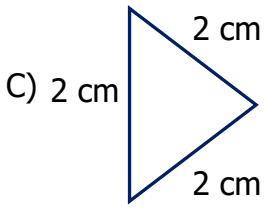
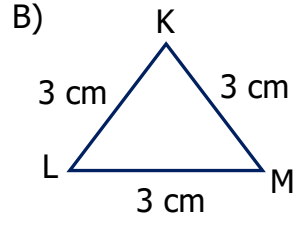
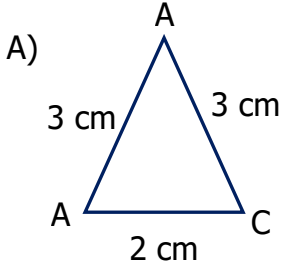
Kenar Uzunlukları	İkizkenar Uzunlukları	Çeşitkenar Uzunlukları	Eşkenar Uzunlukları
6 cm, 4 cm, 5 cm			
5 cm, 5 cm, 5 cm			
7 cm, 6 cm, 7 cm			
4 cm, 5 cm, 3 cm			
8 cm, 7 cm, 7 cm			
6 cm, 6 cm, 6 cm			

Aşağıda kenar uzunlukları verilen üçgenlerin kenar uzunluklarına göre tabloya yazalım.

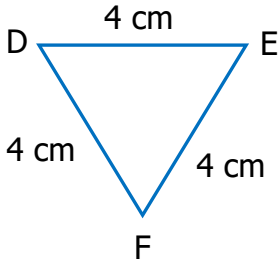


Üçgen	Kenarlarına Göre Üçgenler
ABC üçgeni	
KLM üçgeni	
OPR üçgeni	
EDF üçgeni	
VYZ üçgeni	
JKL üçgeni	
MNO üçgeni	
FGL üçgeni	

1) Aşağıdaki üçgenlerden hangisi çeşitkenar üçgendir?



2)



Yukarıdaki üçgen ile ilgili verilen ifadelerden hangisi yanlıştır?

- A) DEF üçgenidir.
- B) İkizkenar üçgendir
- C) $[DE] = [EF] = [FD]$
- D) $[DE] = 4 \text{ cm}'dir$

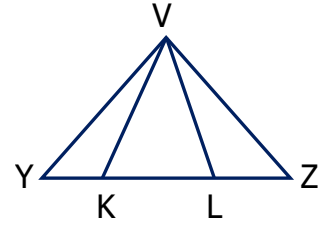
3)

10 cm, 9 cm, 6 cm

Yukarıda kenar uzunlukları verilen üçgen aşağıdakilerden hangisidir?

- B) Eşkenar üçgen
- B) Çeşitkenar üçgen
- C) İkizkenar üçgen
- D) Dik üçgen

4)



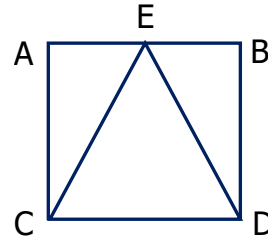
Yukarıdaki şekilde kaç tane üçgen vardır?

- A) 4
- B) 5
- C) 6
- D) 7

5) Üç kenar uzunluğu birbirinden farklı olan üçgene ne ad verilir?

- A) Çeşitkenar üçgen
- B) İkizkenar üçgen
- C) Dik üçgen
- D) Eşkenar üçgen

6)



Yukarıdaki dikdörtgenin içindeki üçgenin kenar uzunlukları $[EC] = [CD] = [DE]$ ise bu üçgen çeşidi aşağıdakilerden hangisidir?

- A) Eşkenar üçgen
- B) Çeşitkenar üçgen
- C) İkizkenar üçgen
- D) Dik üçgen

7) İki kenar uzunluğu birbirine eşit olan üçgenin adı nedir?

- A) Çeşitkenar üçgen
- B) İkizkenar üçgen
- C) Dik üçgen
- D) Eşkenar üçgen