

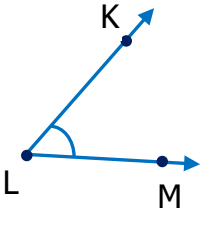
Adı Soyadı : .....

Numarası : .....

Konu: Açılar Etkinliği 2

Örnekteki gibi açları isimlendirelim ve sembolle gösterelim.

Açının



Köşesi: L

Kenarları: LK, LM

İsimlendirme:  $\widehat{KLM}$ ,  $\widehat{MLK}$  ve  $\widehat{L}$

Açının

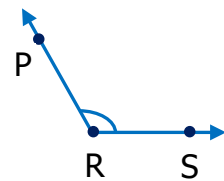


Köşesi: ....

Kenarları: ....., .....

İsimlendirme: ....., ..... ve ...

Açının

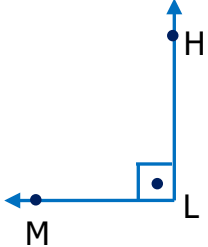


Köşesi: ....

Kenarları: ....., .....

İsimlendirme: ....., ..... ve ...

Açının

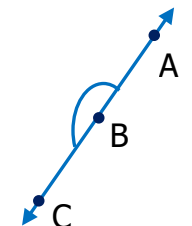


Köşesi: ....

Kenarları: ....., .....

İsimlendirme: ....., ..... ve ...

Açının

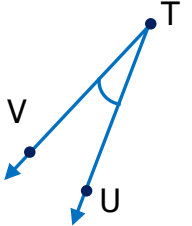


Köşesi: ....

Kenarları: ....., .....

İsimlendirme: ....., ..... ve ...

Açının

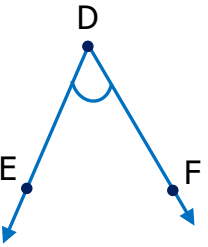


Köşesi: ....

Kenarları: ....., .....

İsimlendirme: ....., ..... ve ...

Açının

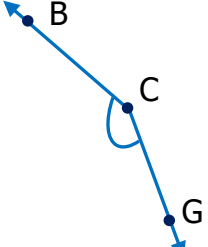


Köşesi: ....

Kenarları: ....., .....

İsimlendirme: ....., ..... ve ...

Açının

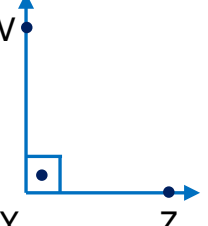


Köşesi: ....

Kenarları: ....., .....

İsimlendirme: ....., ..... ve ...

Açının

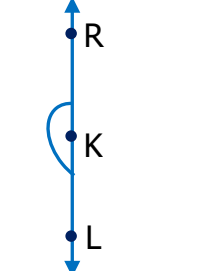


Köşesi: ....

Kenarları: ....., .....

İsimlendirme: ....., ..... ve ...

Açının

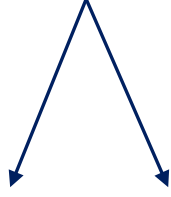
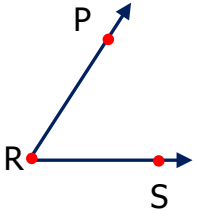


Köşesi: ....

Kenarları: ....., .....

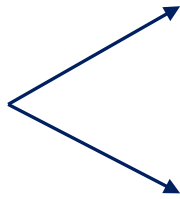
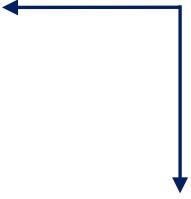
İsimlendirme: ....., ..... ve ...

Aşağıda ışınların oluşturduğu açıları belirterek isimlendirelim.





.....

.....





.....

.....



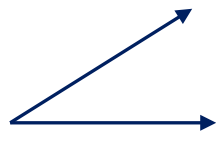
.....

.....



.....

.....



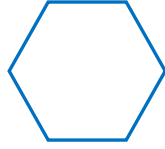
.....

.....

Aşağıda verilen ifadelerden yararlanarak eksik bırakılan yerleri tamamlayınız.

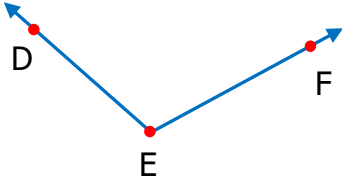
Açıyı Çizelim	Açının Işınları	Açının Köşesi
	YV ışını ve YZ ışını	Y köşesi
	MO ışını ve ON ışını	O köşesi
	CB ışını ve CD ışını	C köşesi
	OP ışını ve PR ışını	P köşesi
	DE ışını ve EF ışını	E köşesi
	MS ışını ve ST ışını	S köşesi

1) Yandaki şeklin kaç açısı vardır?



- A) 4  
B) 5  
C) 6  
D) 7

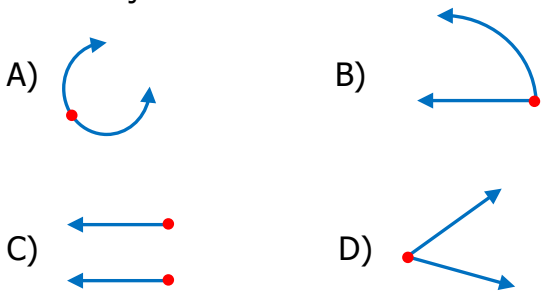
2)



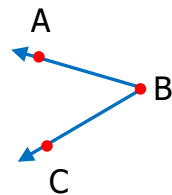
Yukarıdaki açı modeliyle ilgili verilen ifadelerden hangisi yanlıştır?

- A) E noktası açının köşesidir.  
B) DE ışını açının kenarıdır.  
C) F açısı olarak isimlendirilir.  
D) EF ışını açının kenarıdır.

3) Aşağıdaki seçeneklerin hangisinde çizilen şekil bir açıdır?

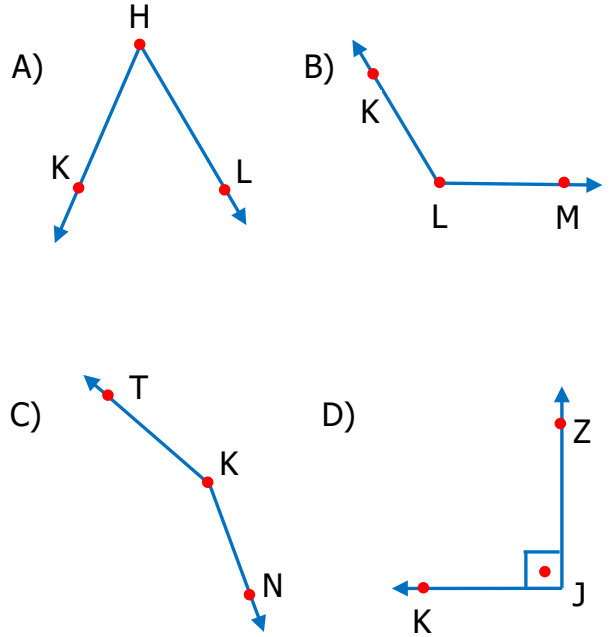


7) Yandaki açının sembolle gösterilişi aşağıdakilerden hangisidir?



- A) CB  
B)  $\widehat{BA}$   
C) C  
D)  $\widehat{B}$

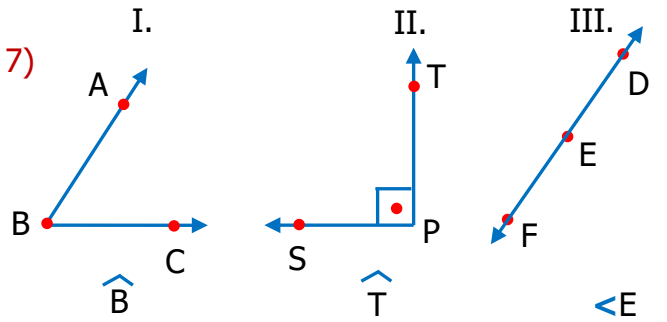
4) Aşağıdakilerden hangisi K açısıdır?



6) Aşağıdaki ifadelerden hangisi yanlıştır?

- A) Her açının bir köşesi vardır.  
B) Açılar bir ışınla oluşturulabilir.  
C) Açılar köşelere koyduğumuz büyük harflerle isimlendirilir.  
D) Açığı,  $\wedge$  veya  $<$  sembollerin biri ile gösterebiliriz.

7)



Yukarıdaki açılardan hangisi doğru isimlendirilmiştir?

- A) Yalnız I  
B) I. ve II.  
C) I. ve III  
D) II. ve III