



Adı Soyadı : .....

Numarası : .....

## Konu: Bölme İşlemi ile İlgili Değerlendirme Etkinliği

Aşağıdaki çıkarma işlemi ile ilgili soruları dikkatlice okuyalım ve cevaplayalım.

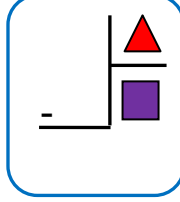
1) Aşağıdaki bölme işlemlerinde hangisi yanlış yapılmıştır?



A) $\begin{array}{r} 20 \overline{) 5} \\ - 20 \overline{) 4} \\ \hline 00 \end{array}$	B) $\begin{array}{r} 16 \overline{) 4} \\ - 16 \overline{) 4} \\ \hline 00 \end{array}$	C) $\begin{array}{r} 12 \overline{) 3} \\ - 12 \overline{) 5} \\ \hline 00 \end{array}$
---	---	---

2) 18 sayfalık öykü kitabı her gün 3 sayfa okunursa kaç günde biter?

Çözüm:

3) Yandaki bölme işleminde sembollerin doğru isimlendirmesi aşağıdakilerden hangisidir?



- |   |   |
|---|---|
|  |  |
| A) Bölen  | Bölüm   |
| B) Bölünen  | Bölüm   |
| C) Bölüm  | Bölen   |

4)



Yukarıdaki fındıkları ikiye bölünebilir gruplara ayrılırsa kaç grup oluşur?

- A) 3                      B) 4                      C) 5

5) Aşağıdaki bölme işlemlerden hangisinin sonucu yanlıştır?

A)  $21 \div 3 = 7$                       B)  $32 \div 4 = 7$

C)  $14 \div 2 = 7$

6) Bir kümesteki tavukların ayak sayısı 18'dir. Bu kümeste kaç tavuk vardır?

Çözüm:

7) Aşağıdaki bölme işlemlerinde hangisinin sonucu diğerlerinden büyüktür?

A) $\begin{array}{r} 18 \overline{) 2} \\ - \phantom{00} \overline{) \phantom{00}} \\ \hline \end{array}$	B) $\begin{array}{r} 24 \overline{) 4} \\ - \phantom{00} \overline{) \phantom{00}} \\ \hline \end{array}$	C) $\begin{array}{r} 35 \overline{) 5} \\ - \phantom{00} \overline{) \phantom{00}} \\ \hline \end{array}$
---	---	---

8)  $15 \div 3 = \triangle$

$16 \div 2 = \blacksquare$

Yukarıdaki bölme işlemine göre  $\triangle + \blacksquare$  işleminin sonucu kaçtır?

- A) 12                      B) 13                      C) 14

9)

$$\begin{aligned} 12 - 4 &= 8 \\ 8 - 4 &= 4 \\ 4 - 4 &= 0 \end{aligned}$$

Yukarıdaki ardışık çıkarma işlemleri, hangi seçenekteki bölme işlemleriyle gösterilmiştir?

A)  $\begin{array}{r|l} 12 & 3 \\ - 12 & 4 \\ \hline & 00 \end{array}$  B)  $\begin{array}{r|l} 12 & 4 \\ - 12 & 3 \\ \hline & 00 \end{array}$  C)  $\begin{array}{r|l} 12 & 2 \\ - 12 & 6 \\ \hline & 00 \end{array}$

10) 28 kalem 4 kutuya eşit olarak paylaştırılırsa bir kutuya kaç kalem düşer?

Çözüm:

11)

$$\begin{array}{r|l} 32 & 4 \\ - & \triangle \\ \hline & \triangle \end{array} \quad \begin{array}{r|l} & 2 \\ - & \square \\ \hline & \square \end{array}$$

$\square$  aşağıdakilerden hangisidir?

A) 2 B) 4 C) 6


12) Bizim sınıfta 9 erkek, 9 kız öğrenci vardır. Üçerli grup oluşturursak, bizim sınıfta kaç grup oluşur?

Çözüm:

13) Annem 8, kardeşim 6 elma topladı. Ben de 10 elma topladım. Topladığım elmaları aramızda eşit bölüşürsek her birimize kaç erik düşer?

Çözüm:

14) 15 tane nar 3 gruba paylaştırılıyor. Bir gruptaki nar sayısı hangisinde gösterilmiştir?



15) 5 tane çikolatayı 20 TL'ye aldım. Buna göre bir çikolata kaç TL'dir?

Çözüm:

16) Bir düzine kalemi üçerli gruplandırırsak kaç grup oluşur?

Çözüm: