



Adı Soyadı :

Numarası :

Konu: Doğal ve Yapay Çevre Etkinliği

Aşağıdaki görselleri inceleyiniz. Doğal çevre olanlara "D", yapay çevre olanlara "Y" yazınız.



Aşağıdaki noktalı yerleri uygun sözcüklerle tamamlayınız.

doğal çevre

milli parklar

yapay çevre

doğal anıtlar

- İnsanlar tarafından değişikliğe uğratılmamış yerlere denir.
-, doğal çevrenin bir parçasıdır.
- Yerleşim yerleri olan köyler, şehirler, binalar, park ve bahçelere denir.
-, birçok canlının doğal yaşam alanı olan ve koruma altına alınan doğal çevrelerdir.

Aşağıdaki cümlelerden doğru olanlara "D", yanlış olanlara "Y" yazınız.

- () Yapay çevreler her gün artış göstermektedir.
- () İnsanlar eliyle yapılan yapılar, doğal çevreye örnektir.
- () Bitki ve hayvan çeşidi doğal çevrede daha çok bulunur.
- () Doğal çevreler, insan etkisinden korunduğu sürece doğal çevre olma özelliğini sürdürecektir.
- () Yapay çevrede hava kirliliği olmaz.
- () Atık maddeler doğal çevreye zarar verir.
- () Yapay çevreler insanlar tarafından yayılır.
- () Doğal çevrenin bozulması insanların hayatını olumlu yönde etkiler.
- () Milli parklar doğal çevreye örnektir.
- () Göller, dereler ve dağlar yapay çevreye örnektir.

Aşağıdaki cümlelerde belirtilen çevrenin doğal mı, yapay mı olduğunu bularak işaretleyiniz.





Olay	Doğal Çevre	Yapay Çevre
Annemle dün markete alışverişe gittik.		
Hafta sonu okul arkadaşlarımla dereye balık tuttuk.		
Bisikletimle okulun bahçesinde tur attım.		
Öğleden sonra babamla denize gittik.		
Parktaki salıncakta kardeşimi salladım.		
Otomobili garaja park ettim.		
Sahilde martılara yem verdim.		
Çiftlikteki koyun ve keçilere yem verdim.		
Ağrı Dağı'na tırmanmak için hazırlıklara başladık.		
Apartmanımıza yangın merdiveni yaptık.		

1) Aşağıdakilerden hangisi doğal çevreye örnektir?

- A) park B) market C) dere

2) Aşağıdakilerden hangisi doğal çevrenin özelliklerinden biri değildir?

- A) İnsan etkisi olmadan oluşmuştur.
B) Birçok canlının yaşam alanıdır.
C) Çevre kirliliği oluşabilir.

- 3)  Köprüler  Ormanlar
 Apartmanlar  Dağlar

Yukarıda verilenlerden hangileri yapay çevreye örnektir?

- A)   B)   C)  

4) Aşağıdaki ifadelerden hangisi yanlıştır?

- A) Mağaralar doğal çevrenin bir parçasıdır.
B) İnsanların yaptığı binalar yapay çevreyi oluşturur.
C) Göller yapay çevreye örnektir.

5) Aşağıdakilerden hangisi doğal çevreye örnektir?

- B)  B)  C) 

6) Aşağıdaki eşleştirmelerden hangisi yanlıştır?

- A) fabrika → Yapay çevre
B) göl → Doğal çevre
C) deniz → Yapay çevre

- 7) I. Çiftlikler
II. Barajlar
III. Yollar

Yukarıdakilerden hangileri insanların yaşadıkları doğal çevreyi değiştirme nedeniyle oluşmuştur?

- A) Yalnız I B) I ve II C) I. II. ve III.

8) Aşağıdaki ifadelerden hangisi yanlıştır?

- A) İnsanlar doğal çevreyi değiştiremezler.
B) Doğal çevre kendiliğinden oluşur.
C) Yapay çevreler, doğal çevreye zarar verir.

- 9) I. Doğal çevredeki yaşayan canlılar, beslenme ihtiyacını çevreden karşılar.
II. Yapay çevrenin oluşum süreci kısadır.
III. Doğal çevrenin zarar görmesi canlı çeşitliliğini artırır.

Yukarıda verilen ifadelerden hangileri doğrudur?

- A) I ve II B) I ve III C) II ve III