

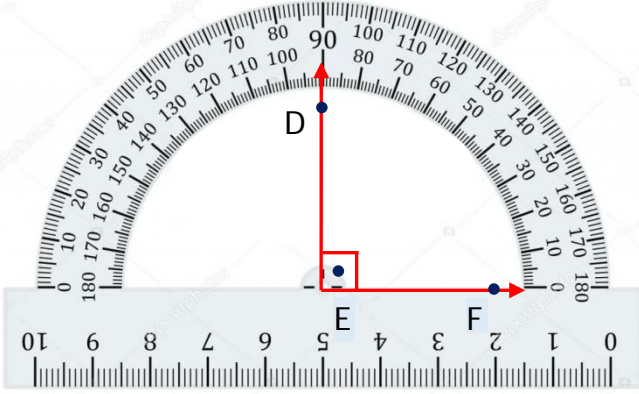


Adı Soyadı :

Numarası :

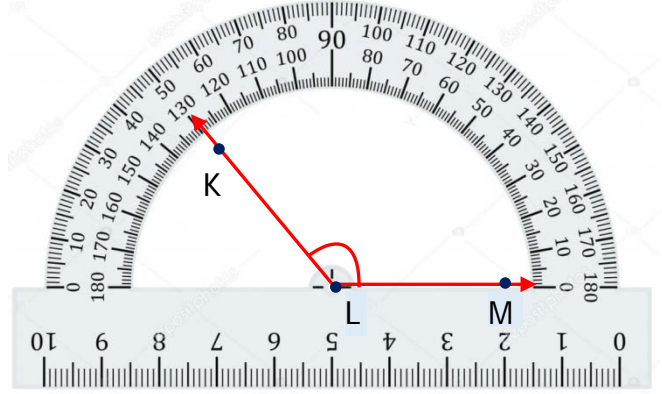
Konu: Açıları Standart Açı Ölçme Araçları İle Ölçme (Açı Çeşitleri)

Aşağıdaki açılar ölçülerini açıölçerlerden yararlanarak bulunuz. Örnekteki gibi sembol kullanarak yazınız.



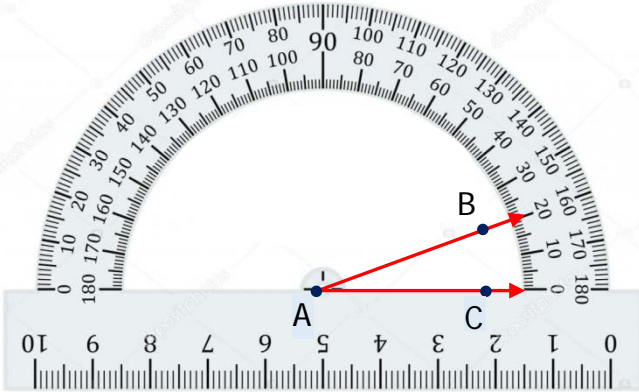
$$\widehat{DEF} = 90^\circ$$

DEF: Dik açıdır.



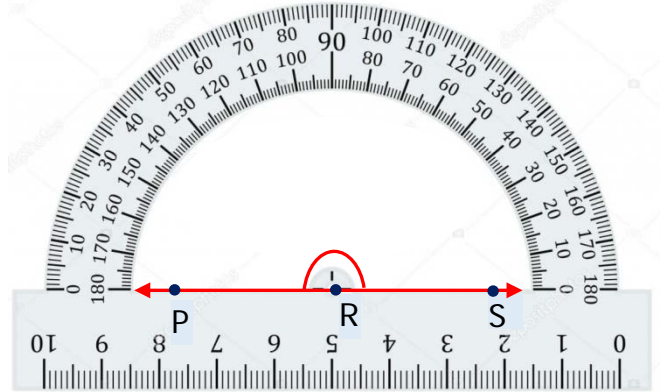
$$\widehat{KLM} = \dots$$

KLM:



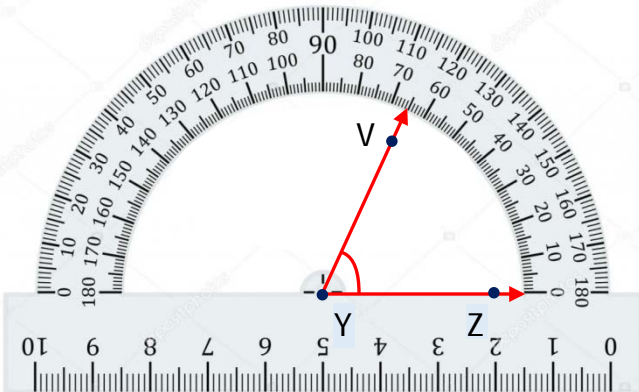
$$\widehat{BAC} = \dots$$

BAC:



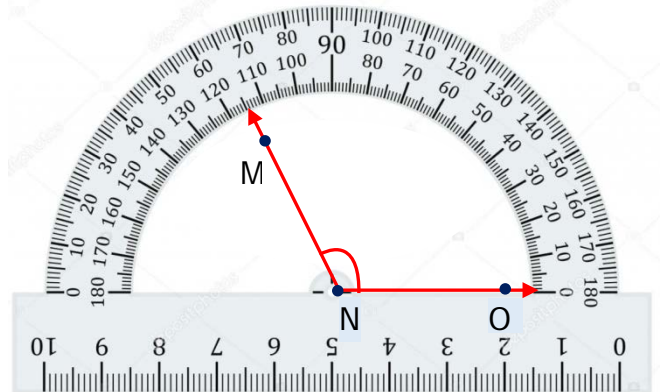
$$\widehat{PRS} = \dots$$

PRS:



$$\widehat{VYZ} = 90^\circ$$

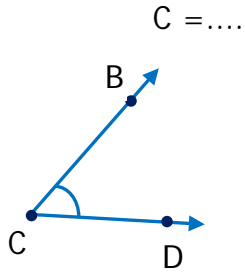
VYZ:



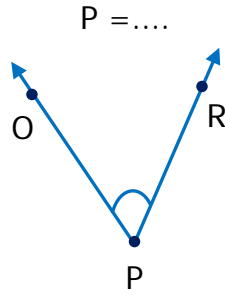
$$\widehat{MNO} = \dots$$

MNO:

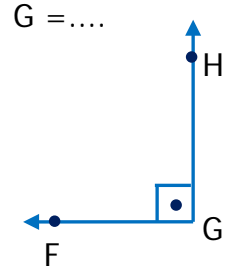
Aşağıdaki açıları açıölçer ile ölçerek açının ölçüsünü ve türünü yazınız.



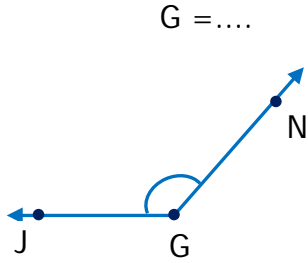
C açısı açıdır.



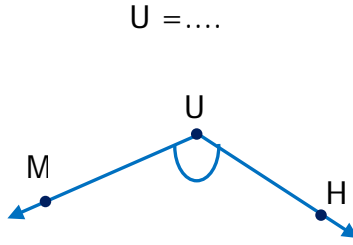
P açısı açıdır.



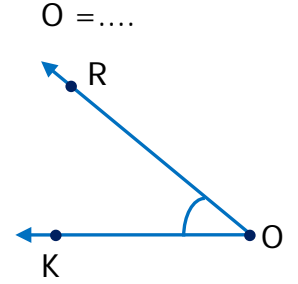
G açısı açıdır.



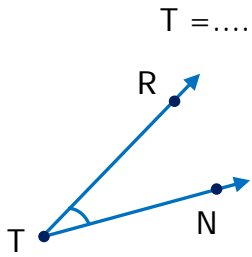
G açısı açıdır.



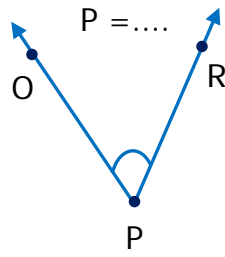
U açısı açıdır.



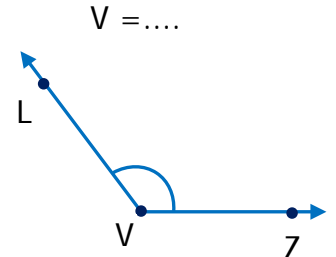
O açısı açıdır.



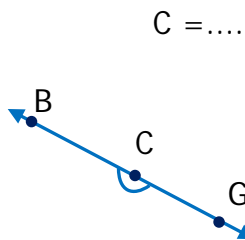
T açısı açıdır.



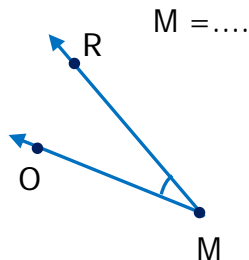
P açısı açıdır.



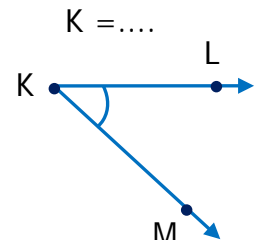
V açısı açıdır.



C açısı açıdır.

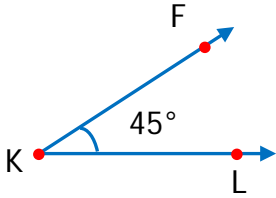


M açısı açıdır.



K açısı açıdır.

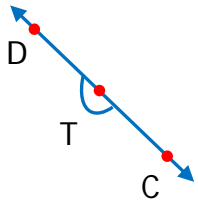
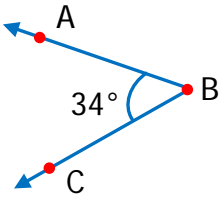
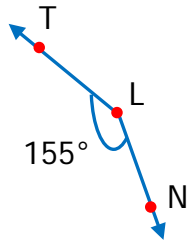
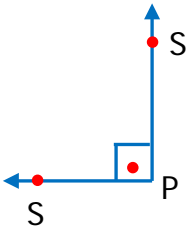
1)



Yukarıdaki K açısı ile ilgili aşağıdaki ifadelerden hangisi doğrudur?

- A) Dik açıdır. B) Dar açıdır.
C) Geniş açıdır. D) Doğru açıdır.

2)



Yukarıdaki açılardan hangisi doğru açıdır?

- A) P açısı B) L açısı
C) B açısı D) T açısı

3)

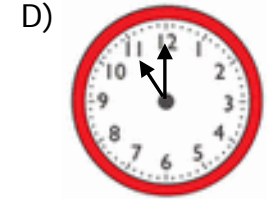
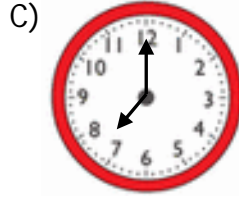
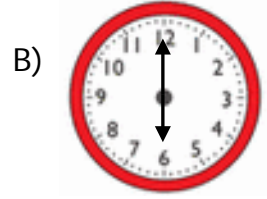
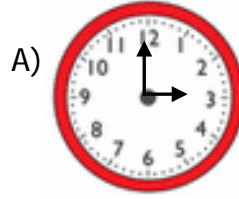
Geniş açının ölçüsü ...★... 'den büyük,
□ 'den küçüktür.

Yukarıda sembolle gösterilen yerlere sırasıyla hangi ifadeler yazılmalıdır?

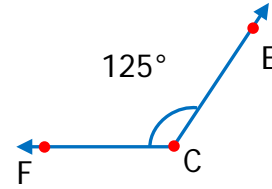


- A) 0° 90°
B) 90° 180°
C) 0° 90°
D) 30° 100°

4) Aşağıdaki saatlerin hangisinde akrep ve yelkovan arasındaki açı dik açıdır?



5)



Yukarıdaki C açısı için verilen ifadelerden hangisi yanlıştır?

- A) Geniş açıdır..
B) Doğru açıdan 55° küçüktür.
C) Dik açıdan 45° büyüktür.
D) $s(\widehat{C}) = 125^\circ$

6)

Bir dar açının ölçüsü en fazla derece olur.

Yukarıdaki noktalı yere aşağıdakilerden hangisi gelmelidir?

- A) 1° B) 45° C) 89° D) 179°

7)

Aşağıdakilerden hangisi geniş açının ölçüsü olamaz?

- A) 90° B) 100° C) 130° D) 178°