



Adı Soyadı :

Numarası :

Konu: Konu Zamanı Ölçme Etkinliği 6

2020 Takvimi

Aşağıdaki takvimde göre verilen günleri yazınız.

OCAK

Pt	Sa	Ça	Pe	Cu	Ct	Pz
		1	2	3	4	5
6	7	8	9	10	11	12
13	14	15	16	17	18	19
20	21	22	23	24	25	26
27	28	29	30	31		

ŞUBAT

Pt	Sa	Ça	Pe	Cu	Ct	Pz
					1	2
3	4	5	6	7	8	9
10	11	12	13	14	15	16
17	18	19	20	21	22	23
24	25	26	27	28	29	

MART

Pt	Sa	Ça	Pe	Cu	Ct	Pz
						1
2	3	4	5	6	7	8
9	10	11	12	13	14	15
16	17	18	19	20	21	22
23	24	25	26	27	28	29
30	31					

NİSAN

Pt	Sa	Ça	Pe	Cu	Ct	Pz
		1	2	3	4	5
6	7	8	9	10	11	12
13	14	15	16	17	18	19
20	21	22	23	24	25	26
27	28	29	30			

MAYIS

Pt	Sa	Ça	Pe	Cu	Ct	Pz
		1	2	3	4	5
6	7	8	9	10	11	12
13	14	15	16	17	18	19
20	21	22	23	24	25	26
27	28	29	30	31		

HAZİRAN

Pt	Sa	Ça	Pe	Cu	Ct	Pz
1	2	3	4	5	6	7
8	9	10	11	12	13	14
15	16	17	18	19	20	21
22	23	24	25	26	27	28
29	30					

TEMMUZ

Pt	Sa	Ça	Pe	Cu	Ct	Pz
				1	2	3
4	5	6	7	8	9	10
11	12	13	14	15	16	17
18	19	20	21	22	23	24
25	26	27	28	29	30	31

AĞUSTOS

Pt	Sa	Ça	Pe	Cu	Ct	Pz
		1	2	3	4	5
6	7	8	9	10	11	12
13	14	15	16	17	18	19
20	21	22	23	24	25	26
27	28	29	30	31		

EYLÜL

Pt	Sa	Ça	Pe	Cu	Ct	Pz
	1	2	3	4	5	6
7	8	9	10	11	12	13
14	15	16	17	18	19	20
21	22	23	24	25	26	27
28	29	30				

EKİM

Pt	Sa	Ça	Pe	Cu	Ct	Pz
	1	2	3	4	5	6
7	8	9	10	11	12	13
14	15	16	17	18	19	20
21	22	23	24	25	26	27
28	29	30	31			

KASIM

Pt	Sa	Ça	Pe	Cu	Ct	Pz
						1
2	3	4	5	6	7	8
9	10	11	12	13	14	15
16	17	18	19	20	21	22
23	24	25	26	27	28	29
30						

ARALIK

Pt	Sa	Ça	Pe	Cu	Ct	Pz
			1	2	3	4
5	6	7	8	9	10	11
12	13	14	15	16	17	18
19	20	21	22	23	24	25
26	27	28	29	30	31	

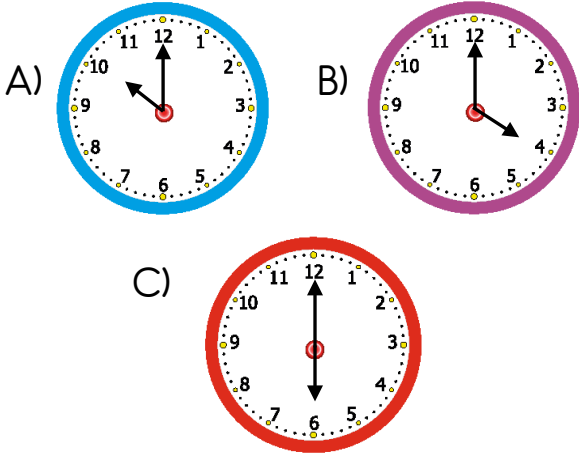
- 1) 1 Ocak Yeni Yıl
- 2) 23 Nisan Ulusal Egemenlik ve Çocuk Bayramı
- 3) Mayıs ayının 2. Pazar günü Anneler Günü
- 4) 19 Mayıs Atatürk'ü Anma ve Gençlik ve Spor Bayramı
- 5) 29 Ekim Cumhuriyet Bayramı
- 6) 10 Kasım Atatürk'ü Anma Günü
- 7) 24 Kasım Öğretmenler Günü
- 8) Doğum Gününüz

1) MART ? MAYIS

Yukarıdaki aylar arasında kalan ay hangi aydır?

A) Nisan B) Temmuz C) Eylül

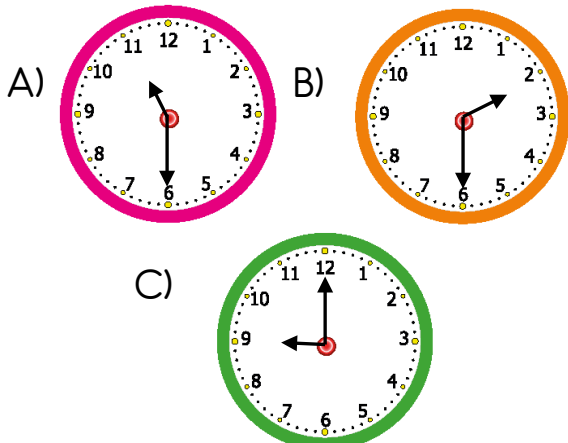
2) Aşağıdaki saatlerden hangisi 4'ü göstermektedir?



3) Aşağıdakilerden hangisi yanlıştır?

A) Bir hafta yedi gündür.
B) Bir yıl dört mevsimdir.
C) Bir yıl da on tane ay vardır.

4) Aşağıdaki saatlerden hangisi iki buçuğu göstermektedir?

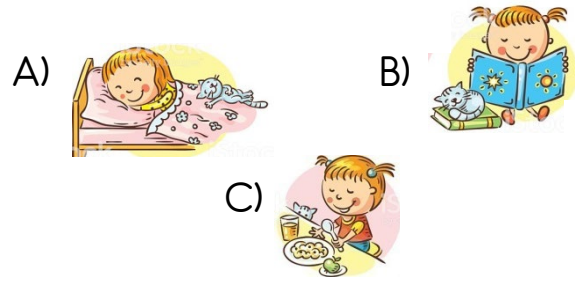


5) Bugün günlerden Perşembe ise yarın günlerden'dir.

Yukarıdaki cümleyi, aşağıdaki sözcüklerden hangisi ile tamamlamak uygun olur?

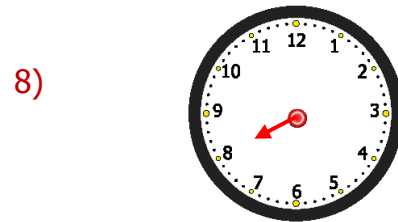
A) pazar B) cuma C) salı

6) Gün içinde yaptıklarını görselde anlatan bir öğrenci en son sıraya hangisini koymalıdır?



7) Aşağıdaki ifadelerden hangisi yanlıştır?

A) Sabah uyandım.
B) Gece okula gittim.
C) Akşam yemek yedim.



Yukarıdaki saat 8 olduğuna göre yelkovan hangi sayıyı göstermektedir?

A) 3 B) 6 C) 12