

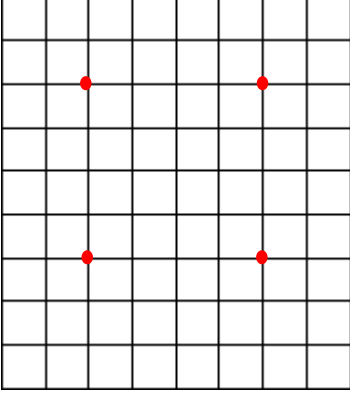


Adı Soyadı :

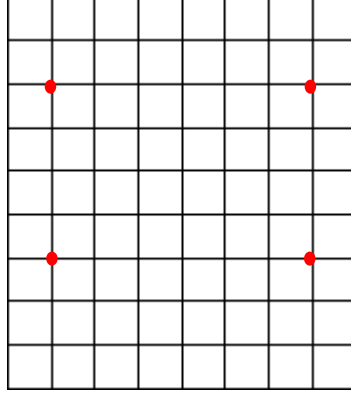
Numarası :

Konu: Kare, Üçgen ve Dikdörtgen Çizelim Etkinliği 2

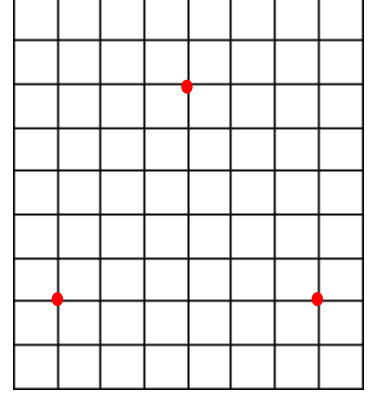
Aşağıdaki kareli kağıtta verilen noktaları birleştiririm, şekillerin isimlerini altlarına yazalım.



.....

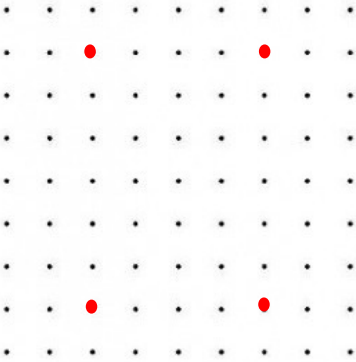


.....




.....

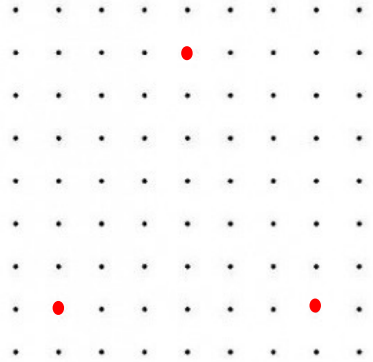
Aşağıdaki kağıtta verilen noktaları birleştiririm, şekillerin isimlerini altlarına yazalım.



.....






.....




.....


Aşağıdaki izometrik kağıtta verilen noktaları birleştirerek üçgenler çizelim.




Aşağıda verilen geometrik şekillerin özelliklerini yazınız.



..... köşesi vardır.
..... kenarı vardır.
..... köşegeni vardır.
Kenar uzunlukları birbirine

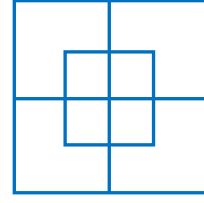


..... köşesi vardır.
..... kenarı vardır.
..... köşegeni vardır.
Karşılıklı kenarları birbirine



..... köşesi vardır.
..... kenarı vardır.
Köşegeni

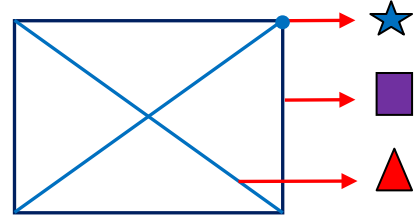
1)






Yukarıdaki şekil kaç kareden oluşmuştur?

- A) 11 B) 10 C) 9

2)



Yukarıdaki dikdörtgen üzerinde gösterilen işaretlerin doğru isimlendirilmesi hangi seçenekte verilmiştir?

- A)  Kenar  Köşegen  Köşe
B) Köşe Kenar Köşegen
C) Kenar Köşegen Köşe

3)

- I. Üç kenarı vardı.
II. Üç köşesi vardır.
III. Köşegeni yoktur.

Üçgen ile ilgili verilen bilgilerden hangileri doğrudur?

- A) Yalnız I. B) I ve II. C) I, II ve III

4) Dikdörtgen ile ilgili verilen bilgilerden hangisi yanlıştır?

- A) Dört kenarı ve dört köşesi vardır.
B) 2 köşegeni vardır.
C) Bütün kenarları birbirine eşittir.