



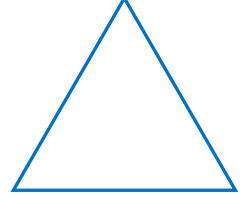
Adı Soyadı :

Numarası :

Konu: Geometrik Şekiller 3

Aşağıdaki geometrik şekillerin isimlerini yazalım. Verilen renklere boyayalım.

Kare : Sarı




Üçgen : Mavi

.....

.....

Çember : Yeşil



Dikdörtgen : Mor

.....

.....


Aşağıdaki geometrik şekilleri isimleri ve özellikleri ile eşleştirelim.

Dikdörtgen



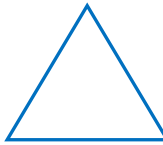
4 kenarı ve 4 köşesi vardır. Karşılıklı kenarları birbirine eşittir.

Üçgen




3 kenarı ve 3 köşesi vardır.

Çember



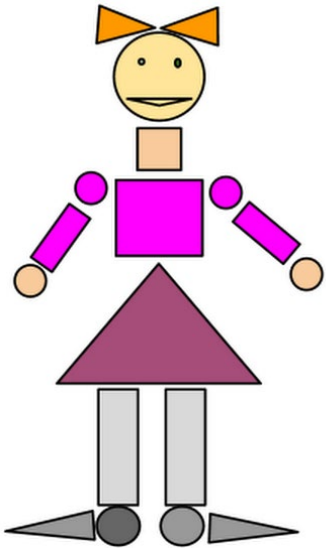
Bütün kenar uzunlukları eşit, 4 kenarı ve 4 köşesi vardır.

Kare



Kenarı ve köşesi yoktur.

Görsellerde boyalı olarak verilen geometrik şekillerin sayılarını altlarına yazınız.




Kare :

Üçgen :

Çember :

Dikdörtgen :




Kare :

Üçgen :

Çember :

Dikdörtgen :



Kare :

Üçgen :

Çember :

Dikdörtgen :

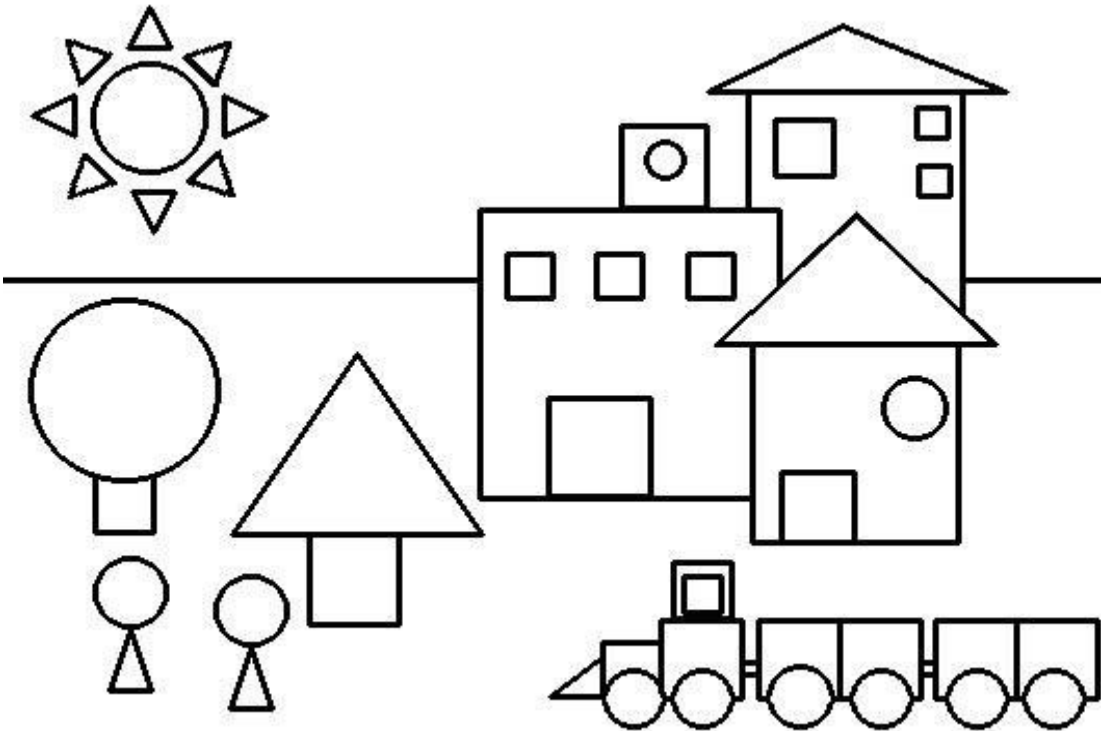
Aşağıdaki görseli verilen renklere göre boyayınız. Geometrik şekillerin sayılarını yazınız.

Çember: Turuncu

Üçgen: Yeşil

Kare: Mavi

Dikdörtgen: Sarı



Kare :

Üçgen :

Çember :

Dikdörtgen: