



Adı Soyadı :

Numarası :

Konu: Doğru, Işın ve Açılı Etkinliği 2

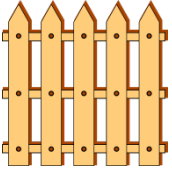
Aşağıdaki görsellerin doğru ya da ışından hangisine örnek olduğunu altlarına yazınız.



.....




.....



.....



.....



.....



.....


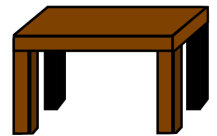

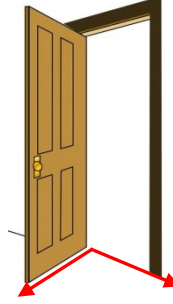


.....




.....


Aşağıdaki görsellerden açılıya model olan kısımları örnekteki gibi çizin.




Aşağıdaki kareli kağıtlara doğru ve ışın çizelim.




Doğru



Işın

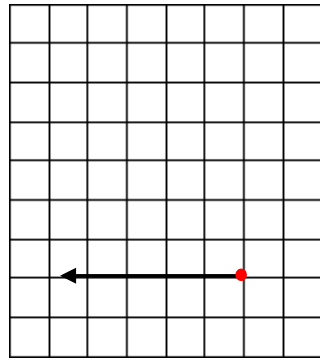
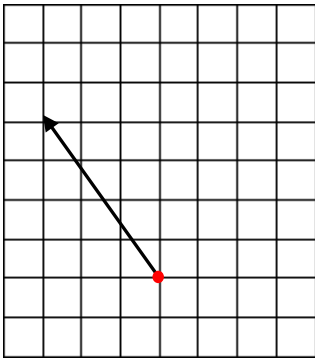
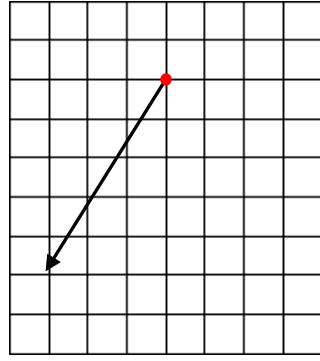
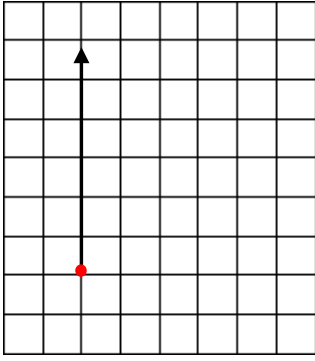


Doğru



Işın

Aşağıdaki ışınları kullanarak açı oluşturunuz.



Aşağıdaki harflerde açları gösteriniz.

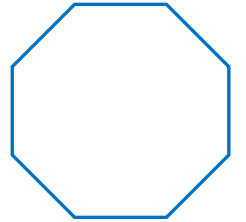
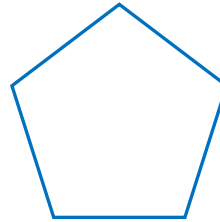
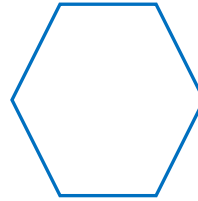

A E F

H K L

M N T

V Y Z

Aşağıdaki geometrik şekillerde açları gösteriniz.



1) Aşağıdakilerden hangisi doğru modeli oluşturur?

- A) çivi B) demir yolu C) cetvel

2) Aşağıdakilerden hangisi yanlıştır?




- A) Açının bir köşesi ve iki kenarı vardır.
B) Doğrunun başlangıç ve bitiş noktası yoktur.
C) Işınlardan başlangıç noktası yoktur.

3) Aşağıdaki verilen sözcüklerdeki harflerinin tamamında açıdır?

- A) KEDİ B) KELEK C) KEÇİ

4) Aşağıdakilerden hangisi ışın modeline örnektir

- A)  B)  C) 

- 5) I. Doğru 
II. Işın 
III. Açı 

Yukarıdaki eşleştirmeleri düzeltmek için hangi numaralı kelimelerin yerlerini değiştirmek gerekir?

- A) I. ve II B) II. ve III C) I. ve III

5)   
1 2 3
Yukarıdaki görseller hangi seçenekte doğru sıralanmıştır?




- | | <u>1</u> | <u>2</u> | <u>3</u> |
|----------|----------|----------|----------|
| A) Doğru | Açı | Işın | |
| B) Açı | Işın | Doğru | |
| C) Işın | Açı | Doğru | |

8) Yandaki yıldızda kaç tane açı vardır?






- A) 10 B) 12 C) 15

8) Aşağıdaki görsellerin hangisiyle açı çizilebilir?

- A)  B)  C) 

9) Aşağıdakilerden hangisi ışın modeli oluşturmaz?

- A)  B)  C) 

10) Aşağıda verilen harflerin hangisinde en fazla açı vardır?

- A) H B) K C) T